

دوم دبستان ارمغان هفته



شماره‌ی

۱۳



نام و نام خانوادگی:

.....

تاریخ:

.....

پایه:

.....

نام آموزگار:

.....

دوره نیمسال اول



ریاضی

دوره نیمسال اول



علوم

دوره نیمسال اول



فارسی

ریاضی



الان ساعت ۱:۳۰ دقیقه است تا ساعت ۳:۳۰ دقیقه، دو ساعت و ۳۰ دقیقه هم تا ۴ مانده است.



شکل (۱) چهار ضلع و گوشت دارد، ولی در شکل (۲) پنج ضلع و گوشه دارد.



$$\begin{array}{r} 25 \\ + 28 \\ \hline 45 \\ + 8 \\ \hline 53 \end{array}$$

در این مسابقه ۵۳ نفر شرکت کردند.



$$\begin{array}{r} 45 \\ - 28 \\ \hline 25 \\ - 8 \\ \hline 17 \end{array}$$

در این اتوبوس ۱۷ نفر ایستاده‌اند.



$$\begin{array}{r} 78 \\ - 35 \\ \hline 43 \\ - 5 \\ \hline 38 \end{array}$$

$$\begin{array}{r} 41 \\ + 27 \\ \hline 68 \\ + 7 \\ \hline 75 \end{array}$$

$$\begin{array}{r} 94 \\ - 67 \\ \hline 27 \\ - 7 \\ \hline 20 \end{array}$$

$$\begin{array}{r} 15 \\ + 42 \\ \hline 57 \\ + 2 \\ \hline 59 \end{array}$$

$$\begin{array}{r} 78 \\ - 36 \\ \hline \end{array} \begin{array}{l} \rightarrow 80 \\ \rightarrow 40 \\ \rightarrow 40 \end{array}$$

$$\begin{array}{r} 34 \\ + 19 \\ \hline \end{array} \begin{array}{l} \rightarrow 30 \\ \rightarrow 20 \\ \rightarrow 50 \end{array}$$

$$\begin{array}{r} 53 \\ + 28 \\ \hline \end{array} \begin{array}{l} \rightarrow 50 \\ \rightarrow 30 \\ \rightarrow 80 \end{array}$$

$$\begin{array}{r} 83 \\ - 37 \\ \hline \end{array} \begin{array}{l} \rightarrow 80 \\ \rightarrow 40 \\ \rightarrow 40 \end{array}$$

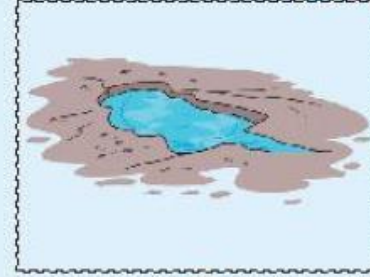
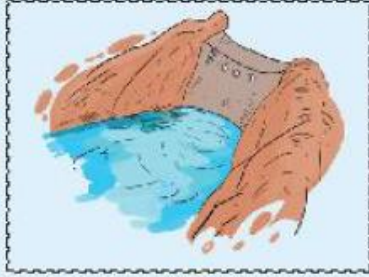
علوم

- الف) قبل از استفاده از حس چشیدن و بویدن باید با بزرگ‌ترها مشورت کنیم.
- ب) برای ارائه‌ی گزارش به کلاس باید همه‌چیز را حفظ کنیم.
- پ) برای مشاهده‌ی همه‌ی چیزهای اطرافمان از دیدن استفاده می‌کنیم.

از حس بویایی و چشایی خود استفاده کند...

گیاهان، جانوران، انسان، درخت، دختر، خرگوش، پرنده





فارسی



الف) کسی که کفش‌ها را می‌دوزد و تعمیر می‌کند را **کفّاش** می‌گویند.

ب) مادر به پارچه‌فروش گفت: آقای **بزاز**.

پ) آهنگ‌هایی که می‌شنوی توسط یک **آهنگ‌ساز** ساخته می‌شود.

ت) مسئول فروش کتاب‌ها را **کتاب‌فروش** می‌نامند.



از مدرسه آمدم وارد اتاقم شدم گلدانی را دیدم که مادر تازه خریده بود به نزدیک گلدان رفتم. با خود گفتم: «**این** گلدان چه

گل‌های قرمز و زیبایی دارد». رفتم و از مادرم پرسیدم: مادر **آن** گلدان زیبا را چه کسی در اتاق من قرار داده است؟ مادر گفت:

«**همان** را می‌گویی که گل‌های قرمز دارد؟». بله. مادر توضیح داد که **آن** گل را همسایه‌ی طبقه‌ی بالا از راه قلمه‌زدن، تکثیر کرده

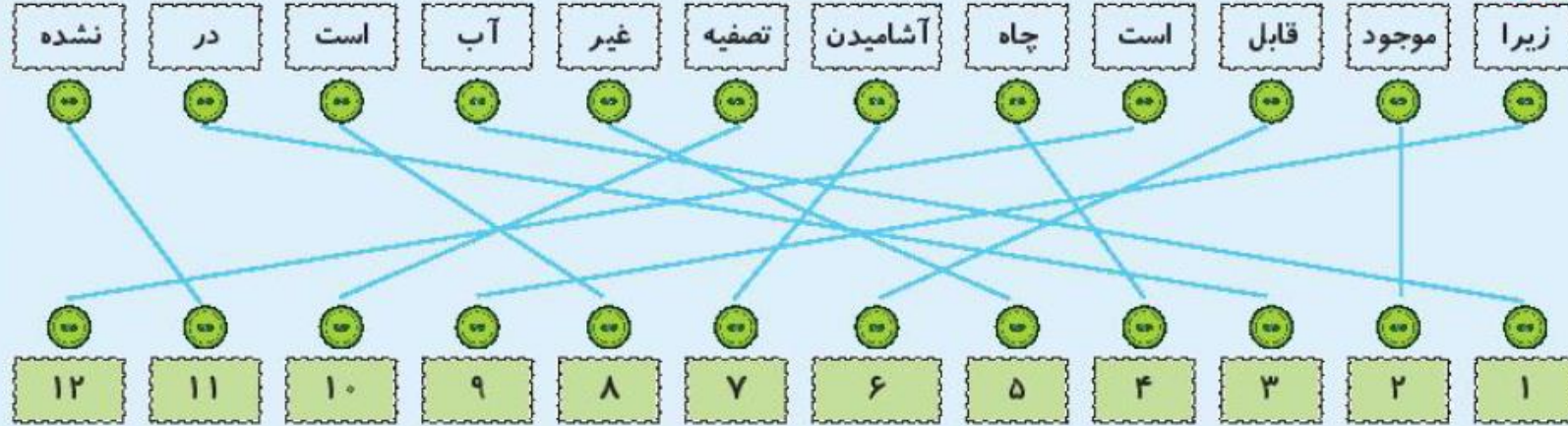
و یکی از آن‌ها را به ما داده است.



الف) برای رفتن به مسافرت باید وسایل شخصی؛ مانند مسواک، شانه و حوله را در چمدان قرار دهیم (۰)

ب) چطور فصل‌ها به وجود می‌آیند؟ (۴)

پ) آیا شما از معلم خود درباره‌ی خواص میوه‌ها سؤال کردید؟ (۴)



جمله

آب موجود در چاه غیر قابل آشامیدن است، زیرا تصفیه نشده است.





شاه	شاهکار	شاهراه	شاهرود
بخت	خوشبخت	بدبخت	نیکبخت
خواه	خیرخواه	بدخواه	خودخواه

تغییر خوب	خوب	قابل قبول	تغییر به تلاش	شاخص‌ها
				◀ حواس پنجگانه
				◀ حفظ محیط زیست
				◀ استفاده از کلمات اشاره به دور و نزدیک
				◀ استفاده از علامت مناسب
				◀ کلمات جمله مشترک

تغییر خوب	خوب	قابل قبول	تغییر به تلاش	شاخص‌ها
				◀ ساعت
				◀ اشکال هندسی
				◀ حل مسئله
				◀ جمع و تفریق تقریبی
				◀ جمع و تفریق فرایندی