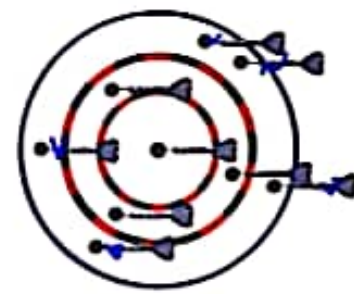
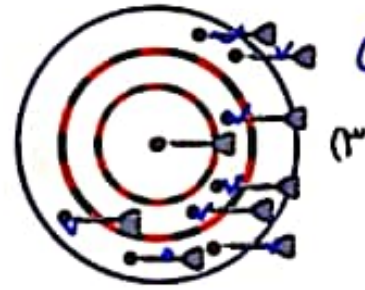


$$100 + 25 + 10 = 135$$



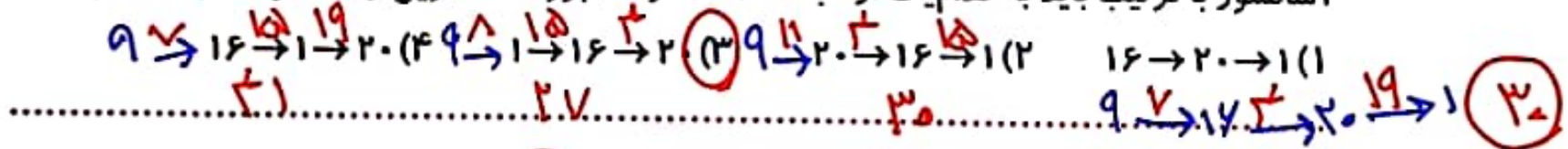
$$150 + 75 + 25 = 250$$



$$150 + 75 + 25 = 250$$

۲. در طبقه‌ی نهم، سه سنگ آبی وارد آسانسور می‌شوند. اولی می‌خواهد به طبقه‌ی اول برود، دومی می‌خواهد به طبقه‌ی شانزدهم برود و سومی می‌خواهد به طبقه‌ی بیستم برود.

آسانسور به ترتیب باید به کدامیک از طبقات ۱، ۱۶ و ۲۰ برود تا کمترین زمان حرکت را داشته باشد؟



۳. اگر از هر یک از سکه‌های پول ۵ تا داشته باشید و پول شما ۴۰ تومان باشد. کدامیک درست است؟

$$250 + 50 + 25 = 325$$

(۲) ۵ تومانی - ۱۰ تومانی - ۵۰ تومانی

$$250 + 100 + 25 = 375$$

(۴) ۵ تومانی - ۲۰ تومانی - ۵۰ تومانی

$$100 + 50 + 25 = 175$$

(۱) ۵ تومانی - ۱۰ تومانی - ۲۰ تومانی

$$100 + 50 + 25 = 175$$

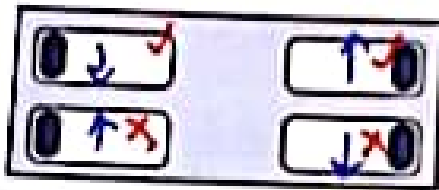
(۳) ۵ تومانی - ۱۰ تومانی - ۱۰۰ تومانی

$$250 + 100 + 50 = 400$$

(۵) ۱ تومانی - ۲۰ تومانی - ۵۰ تومانی



۷. در طرف چپ اتاق، مهسا و زهرا خوابیده‌اند. سر آن‌ها روی بالشتشان است و رویشان به روی هم، در طرف راست اتاق، مینا و لیلا خوابیده‌اند. سر آن‌ها روی بالشتشان است و به هم پشت کرده‌اند. گوش راست چند تا از دخترها روی بالش است؟



۱ (۲)

۳ (۳)

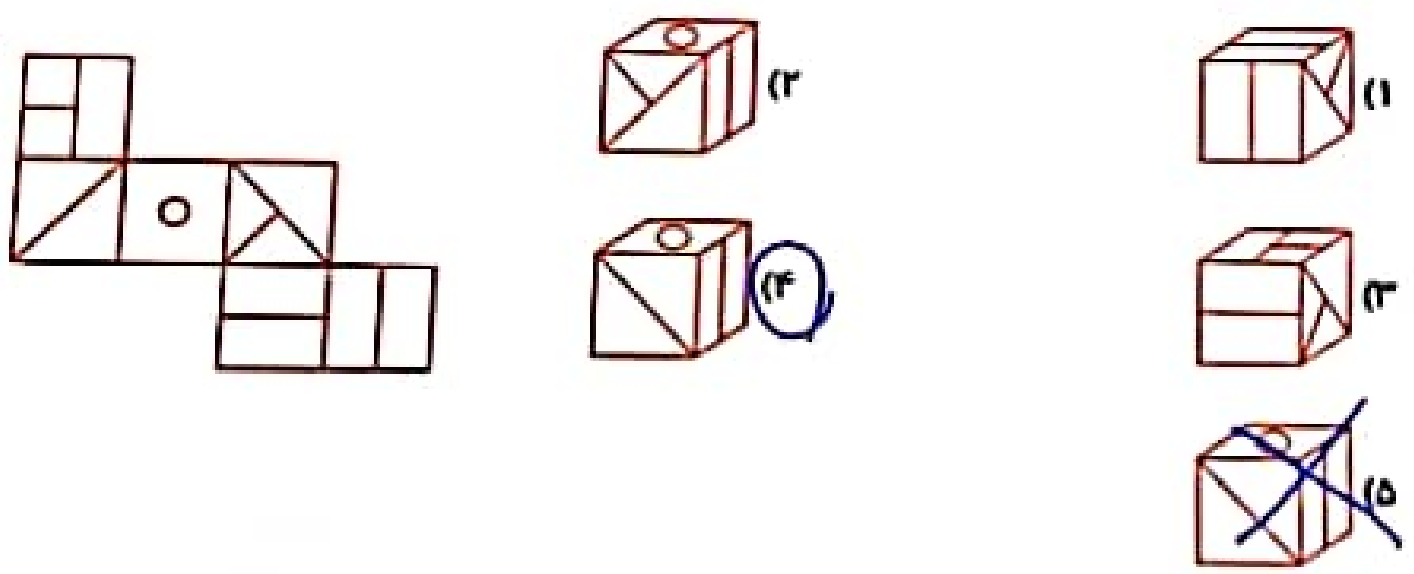
۱ (۱)

۲ (۳)


۴ (۵)

۸. اگر عدد ۳۴۷۱ را به صورت هزار و هفتصد و چهل و سه بنویسیم، در این صورت با توجه به همین قانون، عدد ۲۰۰۲۶۵۱۰۰۷۳۸ را به چه صورت باید بنویسیم؟  
 دو صد و بیست و هشت هزار و هفتصد و بیست و یک  
 ۲۰۰۲۶۵۱۰۰۷۳۸

۹. گسترده‌ی مقابل مربوط به کدام شکل است؟



۱۰. الگوی زیر کدام شکل را کم دارد؟ محل قرار گرفتن آن را نیز مشخص کنید.



۴. با اضافه کردن یک چوب کبریت تساوی درست بسازید. شکل حاصل را بکشید.

$$9 - 5 = 3$$

$$6 - 5 = 3$$

۵. معادله مقابل را حل کنید.

- ۲ = .....

لان سبت = ۱۰

- ۲ = .....

خزانه = ۵

- ۲۵ = .....

صنعت = ۱۰

- ? = .....

$10 + 5 = 15$   $10 + 5 = 15$

۶. به جای علامت سؤال چه عددی باید قرار گیرد؟

۵		
۴	۶	۷

$7 + 4 = 11$

۱۳		
۸	۲	۹

$2 + 13 = 15$

۸		
۷	۱۱	۶

$11 + 8 = 19$

$11 - 7 = 4$

$15 - 9 = 6$

$19 - [ ] = 7$

۱۲

