

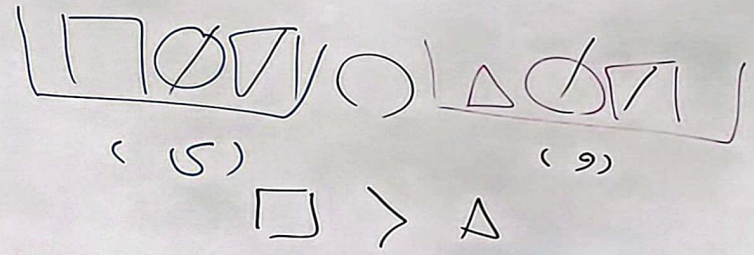
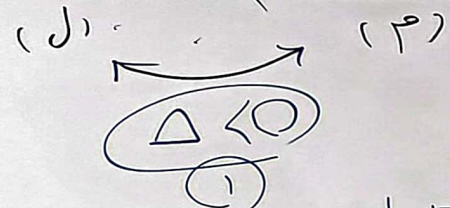
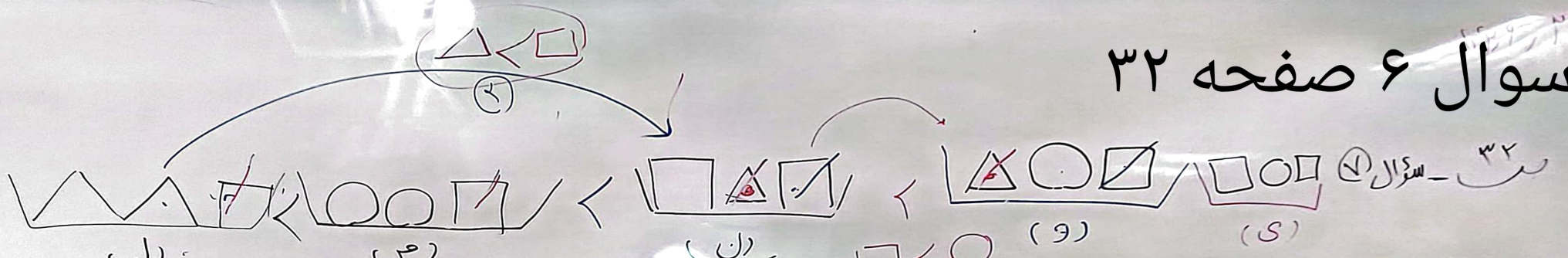
۲۲، ۹، ۲۲

ص ۳۲ - السؤال (۷)

۱۷	۹	۱۴	۸	۲۲
۲۴	۱۳	۱۴	۹	۵
۱۱	۷	۱	۲۵	۲۱
۳	۲۳	۱۷	۱۹	۲
۱۰	۱۹	۲۰	۴	۱۵

۵x۵

سوال ۶ صفحه ۳۲

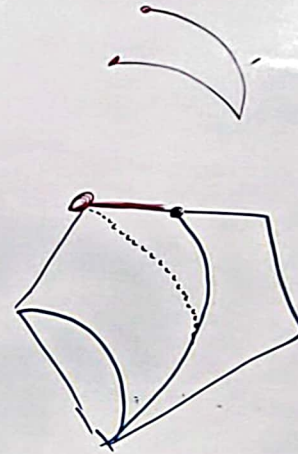
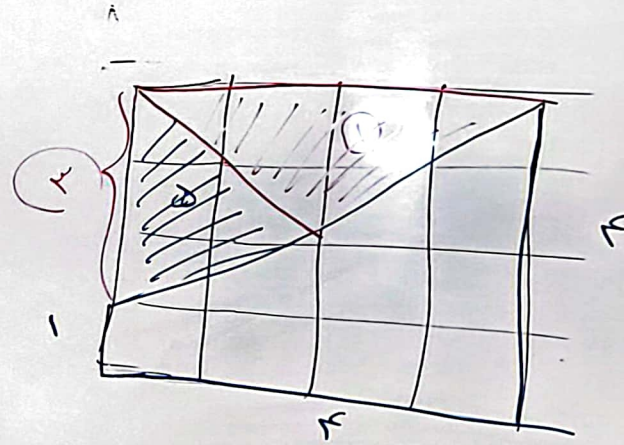


- برای مثال فرض
- ۱) $\Delta < \bigcirc$
 - ۲) $\Delta < \square \Rightarrow \Delta < \square < \bigcirc$
 - ۳) $\bigcirc > \square$
- ۵) سمت راست (9)




سوال ۲ و ۳ صفحه ۳۳

سوال ۴ ← صفحه ۳۳



سوال ۵ ← صفحه ۳۳



خط منحنی به ضلع
در حال شده در صورتی
در بقیه ترتیبی ها خط منحنی به گوشه وصل شدن