

طرح سنجش استعداد: مداد قرمز ۳ - توصیفی
مدت پاسخگویی و انجام فعالیت: ۴۵ دقیقه

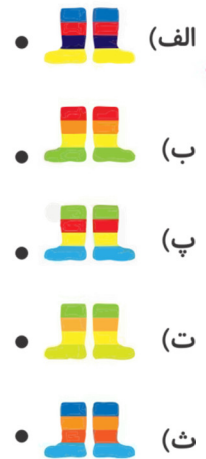
درس: استعداد فضایی اول دبستان
زمان برگزاری: هفته دوم اسفند

علوی

فعالیت‌های استعداد فضایی پایه‌ی اول

فعالیت ۱

۱۶- هر چتر با کدام چکمه هماهنگ است؟ وصل کنید.

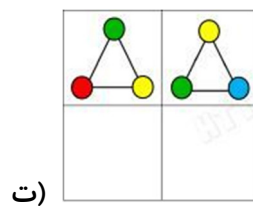
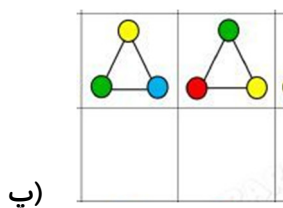
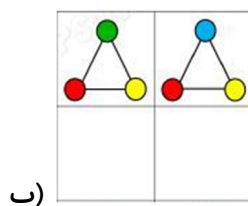
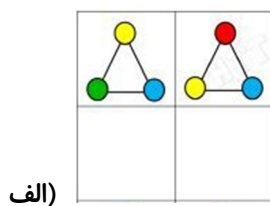


فعالیت ۲

۱۷- به جدول داده شده با دقت توجه کنید. هر شکل، نشان دهنده‌ی یک عدد است. با هر دو شکل، یک عدد دو

رقمی ساخته‌ایم. هر عدد را بنویسید.

۱	۲	۳	۴








طرح سنجش استعداد: مداد قرمز ۳ - توصیفی
مدت پاسخگویی و انجام فعالیت: ۴۵ دقیقه

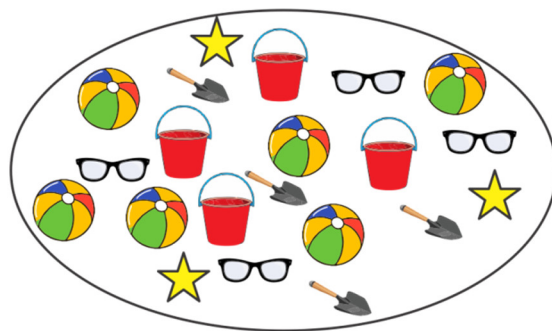
درس: استعداد فضایی اول دبستان
زمان برگزاری: هفته دوم اسفند

علوی

فعالیت ۳

۱۸- جدول زیر را طبق تعداد هر وسیله رنگ کنید. سپس به پرسش‌ها پاسخ دهید.




الف) از کدام وسیله، تعداد کمتری موجود است؟ (با علامت ✓ مشخص کنید).

-  (۱)  (۲)

ب) تعداد هر وسیله را بنویسید.

-  (۱) :
 (۲) :

فعالیت ۴

۱۹- به نمونه‌ی داده شده توجه کنید و طبق آن بگویید در هر شکل چند  وجود دارد؟



طرح سنجش استعداد: مداد قرمز ۳ - توصیفی
مدت پاسخگویی و انجام فعالیت: ۴۵ دقیقه

درس: استعداد فضایی اول دبستان
زمان برگزاری: هفته دوم اسفند

علوی

فعالیت ۵

۲۰- در یک روز برفی، سارا به همراه برادر و خواهرانش برای برف بازی به پارکی رفتند. پدر در کنار آدم برفی از آنها یک عکس یادگاری گرفت. تصاویر داده شده را با قیچی و از روی نقطه چین‌ها، برش دهید و در داخل کادر، طبق عکس اصلی در سمت راست، با چسب بچسبانید.

