



# ارمغان هفته - اول دبستان

شماره ی

۲۴

نام و نام خانوادگی: ..... تاریخ: ..... نام آموزگار: .....

ریاضی < ۲۰ تم

علوم < درس ۱۲: از خانه تا مدرسه (۱)

فارسی < نشانه های « ص ص » و « ذ »

## ریاضی

هر عدد را در جدول ارزش مکانی و به حروف، داخل ابرها بنویسید.



۴۹



ده تایی	یکی
4	9

۳۲



ده تایی	یکی
3	2

۲۴



ده تایی	یکی
2	4

۳۱



ده تایی	یکی
3	1

هر مسئله را با دقت بخوانید و برای آن شکل ساده بکشید و پاسخ سؤال را بنویسید.



الف) برنا برای دوستانش شکلات بسته ای خرید. داخل هر بسته ۵ شکلات قرار دارد. او به هر کدام از ۶ دوستش ۱ بسته شکلات داد. دوستانش روی هم چند دانه شکلات دارند؟ آنها 30 شکلات دارند.

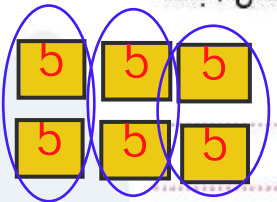
راه اول: با توجه به شکل و دسته ی 10 تایی دسته های ده تایی درست کردن می شود:  $5+5+5+5+5+5=30$

راه دوم: با توجه به الگوی عددی 5 تا 5 تا به دست می آوریم: 5 - 10 - 15 - 20 - 25 - 30

ب) پدر درنا و برنا 3 بسته ی 10 تایی لامپ خرید و 4 عدد لامپ هم برنا برای خانه خرید. آنها چند عدد لامپ در خانه دارند؟

$$30+4=34$$

آنها 34 لامپ در خانه دارند.



عددهای داده شده نمرتب هستند آن‌ها را به صورت مرتب در کادرها بنویسید.

۱۰ - ۳۰ - ۵۰ - ۴۰ - ۹۰ - ۷۰ - ۸۰ - ۲۰ - ۶۰

10	20	30	40	50	60	70	80	90
----	----	----	----	----	----	----	----	----

حاصل جمع و تفریق‌های زیر را به صورت ذهنی پیدا کنید.

$10 + 10 + 20 = 40$

$50 - 5 = 45$

$50 + 10 + 5 = 65$

$10 + 5 = 15$

$10 - 5 = 5$

$20 + 5 = 25$

### علوم

از خانه که به سمت مدرسه می‌روید، چه چیزهایی را در حال حرکت می‌بینید؟ (علامت بزنید.)




به نظر شما کدام گروه از دانش‌آموزان برای رفتن به مدرسه مسیر حرکت سخت‌تری دارند؟ دور آن‌ها را خط بکشید.






هر کدام از تصاویر زیر برای حرکت از چه چیزی استفاده می‌کند؟ زیر تصویر شکل آن را بکشید.



تصویر یک وسیله که حرکت می‌کند را بکشید و آن را به زیبایی رنگ کنید.



### فارسی

دوتا دوتا به هم وصل کنید و ... ربط را با رنگ قرمز بنویسید.

لباس صورتی

کف صابون

صورت تمیز

صدف دریایی



صلبون

دریایی

صورتی

تمیز

لباس

کف

صورت

صدف





۲

کلمه‌ی درست را انتخاب کنید و در جای خالی بنویسید.

«صابون - گذشته - دلپذیر - لذت - اذان»

الف) ما، تابستان **گذشته** به مسافرت رفتیم.

ب) صدای **اذان** را از مسجد شنیدم.

پ) او با **صابون** دستش را می‌شوید.

ت) من از خوردن کباب **لذت** می‌برم.

ث) در فصل بهار هوا **دلپذیر** است.

۳

نام تصاویر زیر را با انتخاب شکل مناسب (ز - ذ) کامل کنید.



موز



بُز



اذان



نماز



۴

برای هر یک از نشانه‌های زیر چند کلمه بنویسید و جدول را کامل کنید.

ص ص	س س
صابون	سبزه
صدف	سگه

وسایل و اندام حرکت کننده

حرکت در مکان‌های مختلف

انتخاب کلمه‌ی صحیح (ب - ربط)

جمله سازی (جای خالی)

عددنویسی (یکی و ده تایی، اعداد دو رقمی)

حل مسئله

الگویابی عددی

جمع و تفریق ذهنی

شاخص‌ها

خیلی خوب

خوب

قابل قبول

نیاز به تلاش بیشتر

