



تاریخ: .....

نام و نام خانوادگی: .....

۱. کدام یک از وسایل از سنگ ساخته نشده است؟ دور آن را خط بکش.



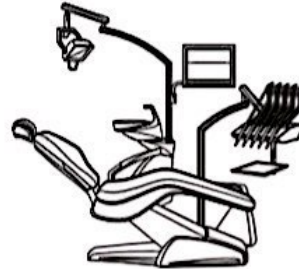
۲. از خرد شدن سنگ‌ها چه چیزهایی به وجود می‌آید؟ علامت بزن.

سنگ ریزه


آب

خاک

۳. کدام یک از وسایل زیر پیچیده نیست؟ رنگ بزن.



۴. برای خط‌کشی دفتر از کدام ابزار استفاده می‌کنی؟ علامت بزن.



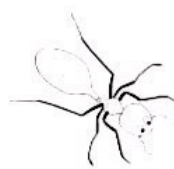
۵. برای چه کارهایی به خاک نیاز داریم؟ علامت بزن.

نانوائی

دامداری

کشاورزی

۶. جانورانی که داخل خاک زندگی می‌کنند را رنگ بزن.




تاریخ: .....

نام و نام خانوادگی: .....

۷. کدام وسیله از خاک ساخته شده است؟ علامت بزن.




۸. وسایلی که با هوا در ارتباطند را رنگ بزن.



۹. چه چیزی باعث جابه‌جایی حرکت ابرها می‌شود؟ علامت بزن.



۱۰. تصاویری که به هوا نیاز ندارند را علامت بزن.



۱۱. دور موارد سرد را خط بکش.






تاریخ: .....

نام و نام خانوادگی: .....

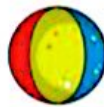
۱۳. در هر گیاه، قسمتی را که قابل خوردن است رنگ بزن.



۱۴. شکل گیاه به هم ریخته‌ی زیر را مرتب کن و آن را در کادر زیر بکش.



۱۵. مواردی که به آب نیاز دارند را علامت بزن.



۱۶. در کدام کار از آب استفاده نمی‌شود؟ علامت بزن.






## ارزشیابی نیمسال اول (۱)



تاریخ: .....

نام و نام خانوادگی: .....

۱۱. جانورانی که مثل هم حرکت می‌کنند را به هم وصل کن.



۱۲. کدام جانور زیر گوشت‌خوار است؟ رنگ بزن.



۱۵۰

