


درس: استعداد فضایی اول دبستان  
 طرح سنجش استعداد: مداد قرمز ۴ - توصیفی  
 زمان برگزاری: هفته چهارم اردیبهشت مدت پاسخگویی و انجام فعالیت: ۷۵ دقیقه

## علوی

### فعالیت‌های استعداد فضایی پایه‌ی اول

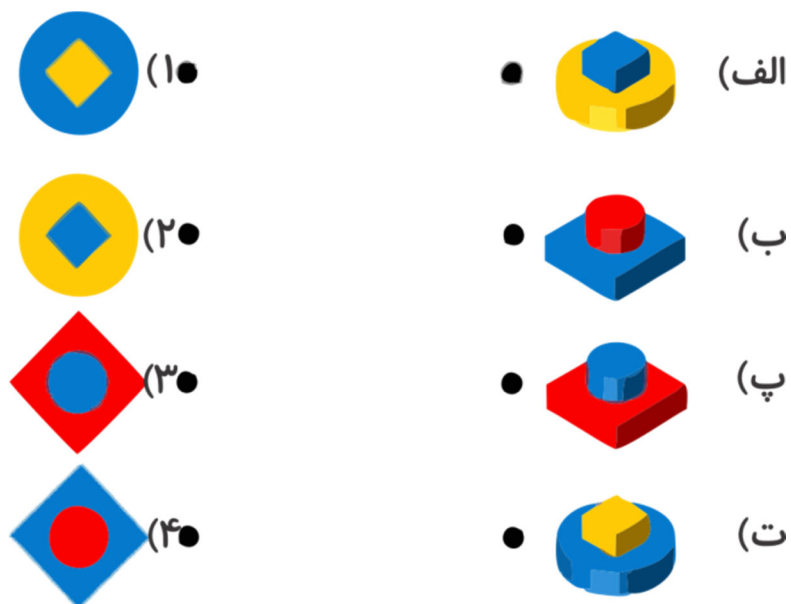
#### فعالیت ۱

۳۶- تصاویری که شکل آن‌ها شبیه به هم هستند را به یکدیگر وصل کنید.



#### فعالیت ۲

۳۷- اگر به هر یک از اشکال سمت راست از بالا نگاه کنید، کدام یک از تصاویر سمت چپ را خواهید دید؟



درس: استعداد فضایی اول دبستان  
 طرح سنجش استعداد: مداد قرمز ۴ - توصیفی  
 زمان برگزاری: هفته چهارم اردیبهشت مدت پاسخگویی و انجام فعالیت: ۷۵ دقیقه

# علوی

## فعالیت ۳

۳۸- با دقت به تصویر داده شده و قسمت‌های خالی آن نگاه کنید. در هر یک از قسمت‌های خالی، کدام تصویر قرار می‌گیرد؟



- ..... (الف)
- ..... (ب)
- ..... (پ)
- ..... (ت)
- ..... (ث)
- ..... (ج)

## فعالیت ۴

۳۹- با توجه به نمودار به پرسش‌ها پاسخ دهید.

الف) بیشترین میوه کدام است؟




(۲)

ب) کمترین میوه کدام است؟



(۲)

پ) تعداد چقدر بیشتر از  است؟

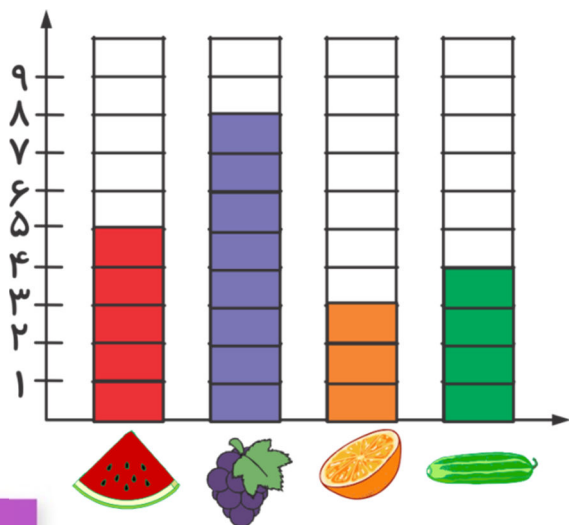


(۴)

(۳)

(۴)

(۳)



درس: استعداد فضایی اول دبستان  
طرح سنجش استعداد: مداد قرمز ۴ - توصیفی  
زمان برگزاری: هفته چهارم اردیبهشت مدت پاسخگویی و انجام فعالیت: ۷۵ دقیقه


علوی

فعالیت ۵

۴۰- تصویر داده شده، نقشه‌ی یک محله است. با دقت به آن نگاه کنید و به پرسش‌ها پاسخ دهید.



الف) در سمت راست تصویر، کدام گزینه قرار دارد؟



# علوی

درس: استعداد فضایی اول دبستان  
طرح سنجش استعداد: مداد قرمز ۴ - توصیفی  
زمان برگزاری: هفته چهارم اردیبهشت مدت پاسخگویی و انجام فعالیت: ۷۵ دقیقه



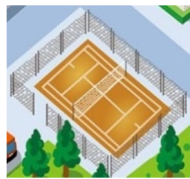
ب) کدام گزینه فاصله‌ی بیشتری با دارد؟



(۲)



(۱)



(۴)



(۳)

پ) چند اتومبیل در تصویر می‌بینید؟ با چوب‌خط نشان دهید.