

طرح سنجش استعداد: مداد قرمز ۳ - توصیفی
مدت پاسخگویی و انجام فعالیت: ۴۵ دقیقه

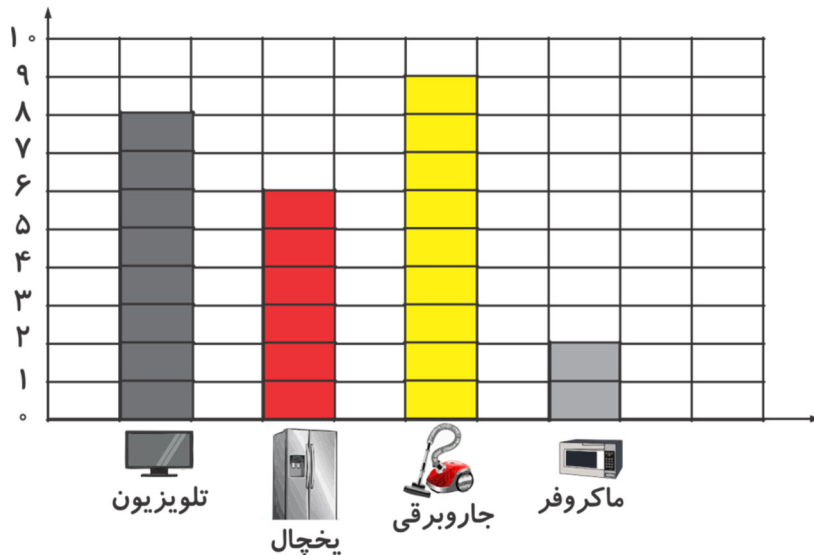
درس: استعداد فضایی دوم دبستان
زمان برگزاری: هفته دوم اسفند

علوی

فعالیت‌های استعداد فضایی پایه‌ی دوم

فعالیت ۱

۱۶- کیان در یک فروشگاه لوازم خانگی کار می‌کند. او تعداد فروش لوازم برقی در هفته‌ی دوم اسفند را در جدول زیر نشان داد. طبق این جدول به پرسش‌ها پاسخ دهید.



- الف) چند یخچال در این هفته فروخته شده است؟
ب) کدام وسیله از همه کمتر به فروش رفته است؟
پ) کدام وسیله از همه بیشتر به فروش رفته است؟
ت) تعداد فروش کدام وسیله از جاروبرقی کمتر و از یخچال بیشتر بوده است؟

فعالیت ۲

۱۷- به جدول داده شده با دقت توجه کنید. هر شکل، نشان دهنده‌ی یک عدد است. با هر سه شکل، یک عدد سه رقمی ساخته‌ایم. هر عدد را بنویسید.

6	7	8	9

الف)	ب)
پ)	ت)

طرح سنجش استعداد: مداد قرمز ۳ - توصیفی
مدت پاسخگویی و انجام فعالیت: ۴۵ دقیقه

درس: استعداد فضایی دوم دبستان
زمان برگزاری: هفته دوم اسفند

علوی

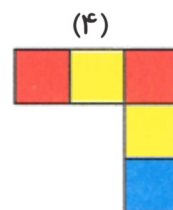
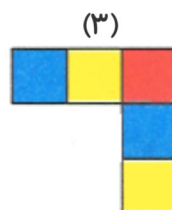

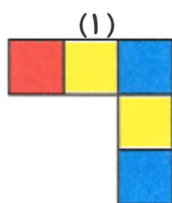

فعالیت ۳

۱۸- اگر بخواهید از محلی که الان هستید به آب‌خوری مدرسه بروید، چه چیزهایی می‌بینید؟ از چه جاهایی عبور می‌کنید؟ تصویر ۲ مورد را ساده و بدون رنگ آمیزی بکشید.

--	--

فعالیت ۴

۱۹- اگر از بالا به شکل داده شده نگاه کنیم، کدام شکل را می‌بینیم؟



طرح سنجش استعداد: مداد قرمز ۳ - توصیفی
مدت پاسخگویی و انجام فعالیت: ۴۵ دقیقه

درس: استعداد فضایی دوم دبستان
زمان برگزاری: هفته دوم اسفند

علوی

فعالیت ۵

۲۰- در یک روز برفی، سارا به همراه دوستانش برای بازی برف بازی به پارک رفتند و یک عکس یادگاری گرفتند. تصاویر داده شده را با قیچی و از روی نقطه چین‌ها، برش دهید و در داخل کادر، طبق عکس اصلی در سمت راست، با چسب بچسبانید.

