

مرور ریاضی

موضوع:


تاریخ

نام و نام خانوادگی

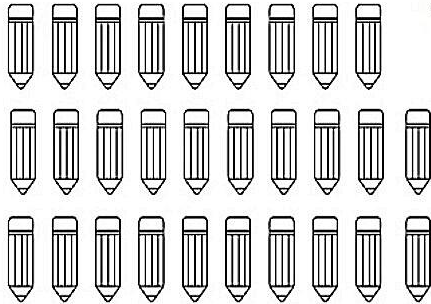
فصل ۱

هدف:

۱- عزیزم با کارت های (۵ - ۴ - ۸) هرچه می توانی عدد دورقمی بنویس.



۲- عزیزم ابتدا دسته های ده تایی جدا کن و سپس تعداد شکل را بنویس.



به عدد

به حروف

۳- حاصل هر عبارت را به روش خواسته شده به دست آورید.

$6 + 7 + 8 = \dots\dots\dots$



* با رسم چوب خط.

$16 - 7 = \dots\dots\dots$




* با رسم شکل

$13 - 7 + 4 = \dots\dots\dots$

* با کمک محور



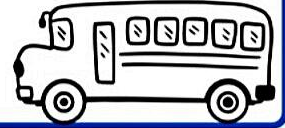
۴- دلبندم عددی دو رقمی بنویس که رقم یکانش ۶ و رقم دهگانش ۴ تا کمتر از یکان باشد.




۵- عزیزم الگوهای عددی زیر را با رسم شکل ادامه بده.

۳ و ۶ و ۹ و و و و

۶- در یک اتوبوس ۱۲ مسافر نشسته بودند، در ایستگاه اول ۵ نفر پیاده شدند و در ایستگاه دوم ۷ نفر سوار شدند حالا در این اتوبوس چند مسافر نشسته اند ؟ (با کمک محور).....



۷- حاصل جمع های زیر را بنویسد.



$$۳۰ + ۲۰ + ۵ + ۵ + ۲۰ + ۶ = \dots\dots\dots$$

$$۲۰ + ۳ + ۳۰ + ۱۰ + ۱۰ + ۷ = \dots\dots\dots$$

۸- همه ی جمع های مربوط به عدد ۵ را بنویس. (جمع نظام دار ۵)

$$\dots\dots + \dots\dots = \dots ۵ \dots$$

$$\dots\dots + \dots\dots = \dots ۵ \dots$$

$$\dots\dots + \dots\dots = \dots ۵ \dots$$

$$\dots\dots + \dots\dots = \dots ۵ \dots$$

$$\dots\dots + \dots\dots = \dots ۵ \dots$$

$$\dots\dots + \dots\dots = \dots ۵ \dots$$

۹- عزیزم با توجه به هر ساعت جاهای خالی را کامل کن.



ساعت از گذشته است



ساعت است




ساعت به مانده است

۱۰- داخل یک گلدان ۳۴ شاخه گل سرخ و سفید است اگر ۱۲ تا از گل ها سرخ و بقیه سفید باشند در این گلدان چند شاخه گل سفید است؟ با رسم چینه های ده تایی حل کن)



۱۱- عزیز دلم نوشتن عددها را ادامه بده ؟



مرور ریاضی

موضوع:

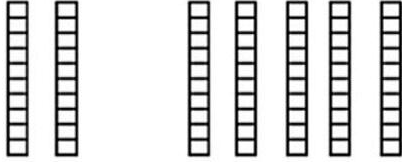
تاریخ:

نام و نام خانوادگی:

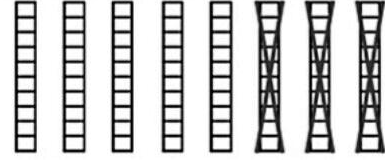
فصل ۲

هدف:

۱- با توجه به شکل حاصل جمع و تفریق ها را پیدا کنید .



..... + =



..... - =

۲- عزیزم با دقت جدول های جمع و تفریق زیر را کامل کن .

| | | | | |
|---|---|---|---|---|
| | ۸ | ۶ | ۵ | ۹ |
| ۷ | | | | |
| ۹ | | | | |

| | | | | |
|----|---|---|---|---|
| | ۸ | ۵ | ۶ | ۲ |
| ۱۸ | | | | |
| ۱۶ | | | | |



۳- حاصل جمع و تفریق های زیر را به روش فرآیندی به دست آورید . (گسترده نویسی)

$$\begin{array}{r} ۵۹ \\ - ۴۳ \\ \hline \end{array}$$



$$\begin{array}{r} ۲۹ \\ + ۵۷ \\ \hline \end{array}$$

۴- عزیزم ابتدا محور را عددگذاری کرده و سپس حاصل عبارت را با کمک محور به دست آورید .

$$\begin{array}{r} ۸۰ \\ - ۳۰ \\ \hline \end{array}$$



۵- دلبندم الگوهای عددی زیر را با نوشتن رابطه الگویی مناسب ادامه بده .

..... و و و و ۳۱ و ۲۸ و ۲۵

..... و و و و ۴۳ و ۳۹ و ۳۵



۶- درج‌های خالی عدد مناسب بنویسید.

* ۳ دسته ده تایی به اضافه ۴ دسته ده تایی می‌شود دسته ده تایی یعنی + =

* ۸ دسته ده تایی منهای دسته ده تایی می‌شود دسته ده تایی یعنی - ۲۰ =

۷- حاصل جمع و تفریق‌های زیر را به صورت تقریبی به دست آورید.

$$67 \longrightarrow$$

$$45 \longrightarrow$$

$$\begin{array}{r} 67 \\ - 34 \\ \hline \end{array}$$

$$\begin{array}{r} 45 \\ + 14 \\ \hline \end{array}$$



..... :




..... :

۸- ساعت چند است؟



۹- عزیزم به صورت نظام دار همه عدد‌های دو رقمی را بنویس که رقم یک آن (۳ و ۱ و ۹) و رقم دهگان آن (۲ و ۷) باشد. (با رسم جدول)



۱۰- عدد دو رقمی بنویسید که رقم یک آن بیشترین عدد یک رقمی و رقم دهگان آن دو تا کمتر از رقم یکانش باشد.

۱۱- با رقم‌های (۴-۰-۸) هر چه می‌توانید عدد‌های دو رقمی بیشتر از ۵۵ بنویسید.



مرور ریاضی

موضوع:

تاریخ

نام و نام خانوادگی

فصل ۲

هدف:

۱۲- در یک گلدان ۶۸ شاخه گل نرگس و رز وجود دارد. اگر تعداد گل های رز ۳۷ شاخه باشد. چند شاخه گل نرگس در گلدان است؟ (فرایندی)



۱۳- گل دانای من حاصل جمع های زیر را بنویس.

$$۱۰ + ۲۰ + ۲۵ = \dots\dots\dots$$




$$۱۰ + ۲۰ + ۶ + ۵ = \dots\dots\dots$$

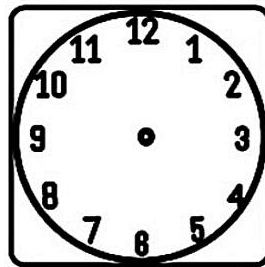
۱۴- رقم های (۹ و ۶ و ۲) در یکان و رقم های (۷ و ۱) در دهگان هر چه می توانی به صورت نظام دار عدد دو رقمی بنویس. (با روش شاخه ای)



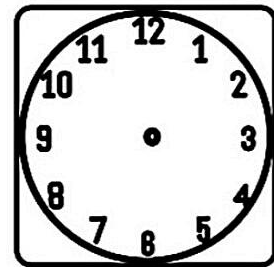
۱۵- دلبندم زمان های خواسته شده را با کشیدن عقربه ها نشان بده.



ساعت ۴ و ۵۵ دقیقه است.



ساعت ۸ است.



ساعت ۳ و ۲۰ دقیقه است.

۱۶- ریاضی دان کوچک حاصل جمع و تفریق ها را به صورت تقریبی بنویس.

$$\begin{array}{r} ۷۸ \longrightarrow \\ + ۱۳ \longrightarrow \\ \hline \end{array}$$

$$\begin{array}{r} ۴۵ \longrightarrow \\ + ۲۴ \longrightarrow \\ \hline \end{array}$$

$$\begin{array}{r} ۷۶ \longrightarrow \\ - ۴۷ \longrightarrow \\ \hline \end{array}$$

مرور ریاضی

موضوع:

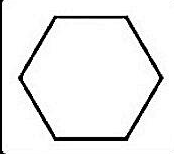
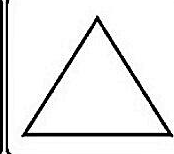
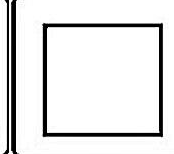
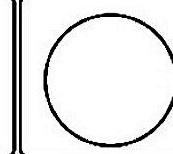
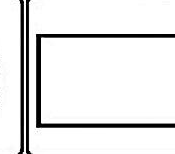
تاریخ

نام و نام خانوادگی

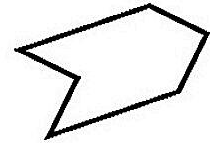

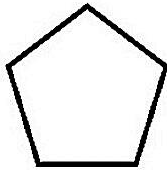
فصل ۳

هدف:


۱- عزیزم جدول زیر را کامل کن .

| | | | | | |
|---|---|---|---|--|------------|
|  |  |  |  |  | شکل هندسی |
| | | | | | نام شکل |
| | | | | | تعداد ضلع |
| | | | | | تعداد گوشه |

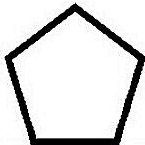
۲- برای هر یک از شکل های زیر در صورت داشتن تقارن یک خط تقارن رسم کنید .



۳- شکل های زیر را نام گذاری کنید، سپس تفاوت و شباهت آن دو را بنویسید .

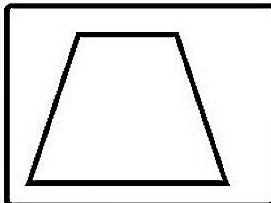


شباهت :




تفاوت :


۴- با رسم برش های لازم شکل های زیر به قسمت های مساوی خواسته شده تقسیم کنید .



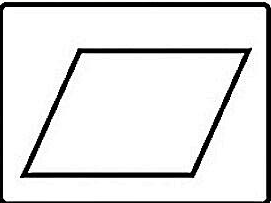
۳ قسمت مساوی



۴ قسمت مساوی




۱۰ قسمت مساوی



۲ قسمت مساوی

۵- عزیزم الگوی عددی زیر را ادامه بده .

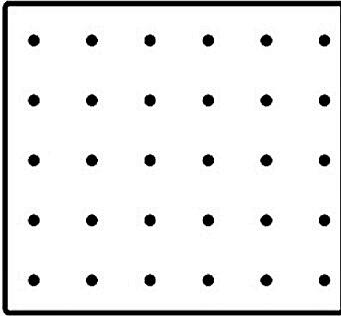
..... و و و و ۳۴ و ۳۰ و ۲۷ و ۲۵



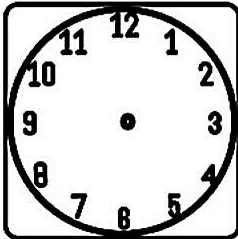
۶- نقطه ها را با خط کش به هم وصل کنید و شکلی که توضیح داده شده را رسم کنید . سپس نام شکل را بنویسید .

شکلی که چهار ضلع و چهار گوشه دارد و ضلع های رو به رو به هم برابر هستند .

نام شکل را بنویس

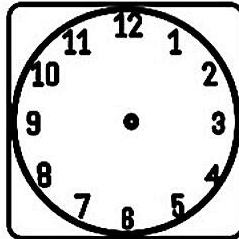


۷- زمان های زیر را با کشیدن عقربه نشان دهید . (عقربه کوچک قرمز و عقربه بزرگ آبی رسم شود) .



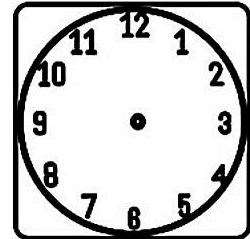
یک ربع بعد از ۸

..... :



یک ربع مانده به ۶


..... :



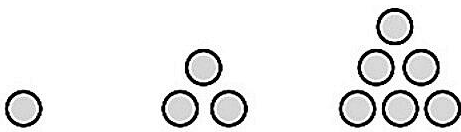
نیم ساعت گذشته از ۹

..... :

۸- با توجه به خط های تقارن سه قسمت دیگر را کامل کنید .



۹- اگر کشیدن شکل ها را ادامه دهید، شکل پنجم از چند دایره تشکیل شده است؟



شکل ۱

شکل ۲

شکل ۳

شکل ۴

شکل ۵

۱

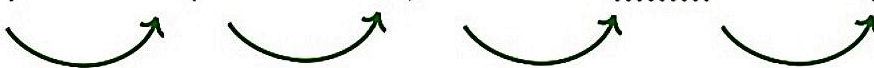
۳

۶

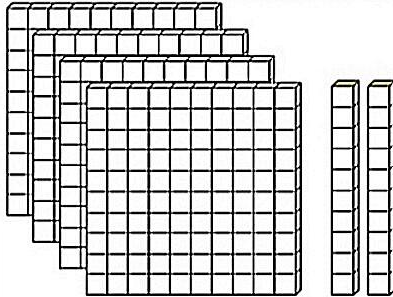
.....

.....

تعداد دایره ها



۱- با توجه به شکل جدول را کامل کن و عدد را بنویس.




| صدگان | دهگان | یکان |
|-------|-------|------|
| | | |

به عدد :

به حروف :


۲- به نخودی کمک کنید و بگویید چند ریال دارد ؟



اگر نخودی ۶۰ سکه اریالی به بانک بدهد چند سکه ده ریالی می گیرد؟

اگر نخودی ۴۰ سکه ۱۰ ریالی به بانک بدهد چند سکه صد ریالی می گیرد؟

۳- فاطمه ساعت ۲:۲۰ مشغول درس خواندن شد . بعد از یک ساعت و ربع درسش تمام شد با کمک ساعت های زیر و رسم عقربه ها نشان بده چه ساعتی درس فاطمه تمام شده است؟



۴- جدول زیر را با توجه به عدد داده شده کامل کنید.

| | | |
|-------------|--------------|--------------|
| سیصد و چهار | هفتصد و هفده | چهارصد و چهل |
| ۹۹۱ | | ۲۸۷ |

۵- عدد های زیر را با حذف رقم خواسته شده به صورت تقریبی بنویس.

حذف رقم یکان و دهگان ۷۸۳ → حذف رقم یکان ۴۵۶ →

۶- با کارت های ۹ و ۸ و ۴ عدد های سه رقمی بنویسید که رقم دهگان بیشتر از یکان و صدگان باشد؟



۷- جاهای خالی را کامل کن . (با رسم جدول ارزش مکانی حل شود)

۵ دسته صدتایی و ۸ دسته ده تایی می شود

۴ دسته صدتایی و ۹ تا یکی می شود

۸- قبل و بعد عدد های زیر را بنویس .

..... ، ۷۶۴ ،

..... ، ۳۰۷ ،

..... ، ۹۸۷ ،

..... ، ۴۹۹ ،

..... ، دویست و نه ،

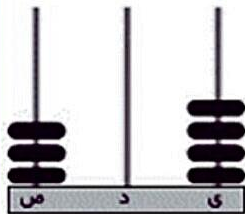
..... ، هشتصد ،



۹- جدول را کامل کنید و عدد را به حروف و رقم بنویسید .

عدد :

حروف :




| صدگان | دهگان | یکان |
|-------|-------|------|
| | | |

۱۰- نوشتن عددها را طبق الگو ادامه دهید .

..... و و و و و ۱۲۷ و ۱۲۶ و ۱۲۵

..... و و و و و ۴۶۰ و ۴۵۵ و ۴۵۰

..... و و و و و ۷۹۲ و ۷۹۰ و ۷۸۸



مرور ریاضی

موضوع:

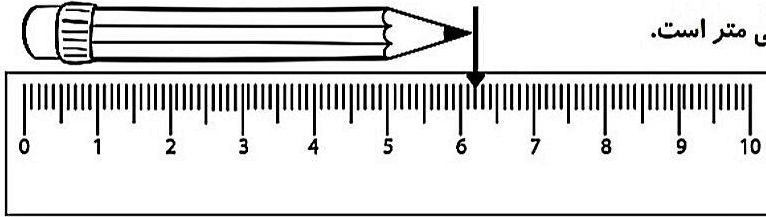
تاریخ

نام و نام خانوادگی

فصل ۵

هدف:


۱ - جاهای خالی را کامل کنید.



اندازه طول مداد..... سانتی متر و..... میلی متر است.

اندازه طول مداد..... میلی متر است.

۲ - ساعت چند است؟




* عقربه بزرگ چند دقیقه حرکت کند تا ساعت ۹ : ۴۵ شود؟

* مقدار حرکت عقربه بزرگ را با رنگ کردن نشان دهید.

۳ - به جای مربع چه عددی می توان نوشت؟ با روش حدس و آزمایش حل کنید.

$$\square + ۴۶ = ۸۷$$




۴ - در یک پارکینگ روی هم ۱۴ پژو و موتور پارک شده است. اگر تعداد چرخ های آن ها روی هم ۴۴ چرخ باشد، در این پارکینگ چند پژو و چند موتور پارک شده است؟




۵ - با خط کش، خطی آبی به اندازه ۷ سانتی متر و ۳ میلی متر رسم کنید.

طول خطی که رسم کرده اید..... میلی متر است



۶- نخودی ۹ سکه صدریالی، ۸ سکه ده ریالی و ۶ سکه یک ریالی دارد، حساب کنید او چند ریال دارد؟..... ریال
 آیا نخودی می تواند یک مداد ۹۵۰ریالی بخرد؟.....



۷- الگوی عددی زیر را با نوشتن رابطه الگویی مناسب ادامه دهید.

۸۳۵ ، ۸۴۰ ، ۸۴۵ ، & & &

۵ ، ۷ ، ۱۰ ، ۱۴ ، & & &

۸- مقایسه کنید و علامت مناسب بگذارید.

$500 + 40 + 5$ $100 + 200 + 10 + 9$

۸ سانتی متر ۸ میلی متر

۷ صدتایی و ۷ یکی ۷ ده تایی و ۸ یکی

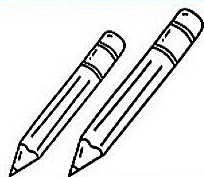
۹- به جای مربع چه عددی می توان نوشت ؟ با روش حدس و آزمایش حل کنید.

$82 - \square = 24$



۱۰- با کارت های ۶ و ۷ و ۵ عددهای سه رقمی بنویسید به طوری که رقم دهگان بیشتر از رقم یکان و صدگان باشد.
 این مسئله چند جواب دارد؟

۱۱- سارا طول مداد قرمز و زرد خود را با خط کش اندازه گرفت.



طول مداد قرمز سارا ، ۵ سانتی متر و ۶ میلی متر است یعنی..... میلی متر

طول مداد زرد سارا ، ۸۹ میلی متر است یعنی..... سانتی متر و..... میلی متر.

موضوع: مرور ریاضی

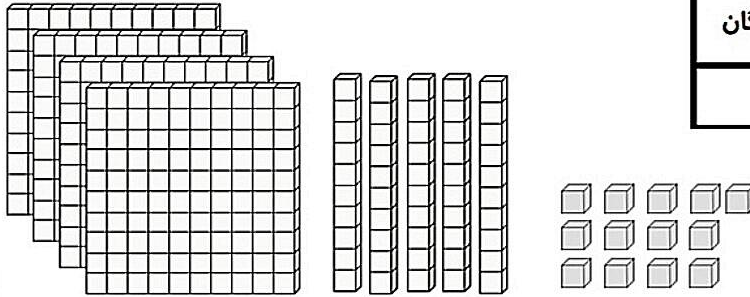
تاریخ:

نام و نام خانوادگی:

هدف: فصل ۶

هدف:

۱- ابتدا تا جایی که می توانید دسته های ده تایی یا صدتایی درست کنید، سپس عددی که شکل نشان می دهد را بنویسید.



| صدگان | دهگان | یکان |
|-------|-------|------|
| | | |

به عدد

به حروف

۲- فرزندم الگو های عددی زیر را ادامه بده. (نوشتن رابطه الگویی فراموش نشود)

۳۴، ۳۵، ۳۷، ۴۰ ، ، ، ،

۲۸۷، ۲۹۷ ، ، ، ،

۳- یگانه ۸ سکه صد ریالی و ۴ سکه ده ریالی و ۶ سکه یک ریالی دارد. اگر او یک دفترچه به قیمت ۴۹۸ ریال بخرد. چند ریال برایش باقی می ماند؟



۴- عزیز دلم قبل و بعد عدد های زیر را بنویس.

..... ، ۴۹۹ ،


..... ، ۳۰۷ ،

..... ، هشتصد ،

..... ، دویست و نه ،

۵- دلبندم ابتدا قسمت های مساوی را حذف کن، سپس مقایسه کرده و علامت مناسب بگذار.

$300 + 30 + 300 + 200 + 50 + 7 + 10$ ○ $300 + 20 + 30 + 8 + 40 + 200$



۶ - ستاره تابانم در هر ستون حاصل جمع و تفریق های زیر را به روش خواسته شده به دست آورید .

$$\begin{array}{r} 465 \\ + 237 \\ \hline \end{array}$$

فرایندی

$$\begin{array}{r} 800 \\ - 367 \\ \hline \end{array}$$

انتقالی

$$\begin{array}{r} 675 \\ - 243 \\ \hline \end{array}$$

فرایندی

$$\begin{array}{r} 579 \\ + 239 \\ \hline \end{array}$$

تکنیکی

۷ - با کارت های (۳ و ۸ و ۴) همه ی عددهای سه رقمی که رقم یکان آن بیشتر از رقم صدگانش باشد را بنویسید .

این مسئله چند جواب دارد ؟



۸ - عزیزم جاهای خالی را کامل کن .

مداد آبی مهدی ۳۴ میلی متر است یعنی سانتی متر و میلی متر .

مداد زرد او ۵ سانتی متر و ۶ میلی متر است یعنی میلی متر .

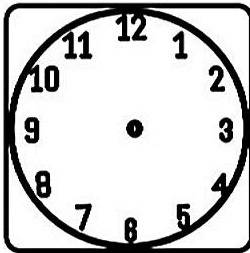
مداد سبز ۱۲ سانتی متر است یعنی میلی متر .



۹ - اگر اکنون ساعت ۲:۳۰ باشد .

یک ربع بعد ساعت چند است ؟

با رسم عقربه ها روی صفحه ساعت نشان بده .





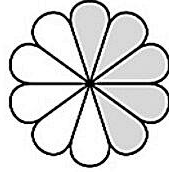
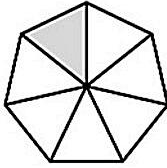
۱۰ - اگر تعداد دانش آموزان دبستان ادب ۲۳۴ نفر و دانش آموزان دبستان آزادی ۵۶۷ نفر باشد، این دو مدرسه

روی هم چند دانش آموز دارند؟.....

تعداد دانش آموزان دبستان آزادی چند نفر بیشتر از دانش آموزان دبستان ادب است؟.....

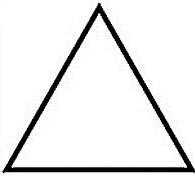


۱- عزیزم به شکل‌ها نگاه کن و بنویس در هر قسمت چه بخشی از شکل رنگ شده است.




..... قسمت از مساوی قسمت از مساوی قسمت از مساوی قسمت از مساوی

۲- ستاره دانا. ۱ قسمت از ۴ قسمت مساوی مثلثی رنگ شده است. با رسم شکل نشان دهید.



۳- در یک کیسه ۸ مهره زرد، ۵ مهره قرمز و ۲ مهره آبی ریخته ایم. اگر بدون نگاه کردن به داخل کیسه بخواهیم یک مهره بیرون بیاوریم. شانس بیرون آمدن کدام رنگ بیشتر است؟ چرا؟



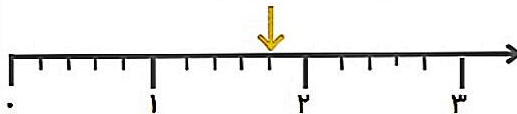
جاهای خالی را کامل کنید.

- * مهره از مهره داخل کیسه آبی است.
- * مهره از مهره داخل کیسه زرد است.
- * مهره از مهره داخل کیسه قرمز است.

۴- با توجه به محور مشخص کنید فلش چه نقطه ای را نشان می دهد؟

در این محور هر واحد به قسمت کوچک تقسیم شده است.

نقطه مشخص شده واحد و قسمت از قسمت کوچک مساوی را نشان می دهد.

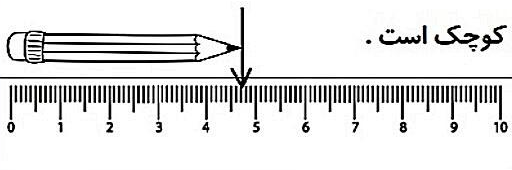


۵- عزیزم جاهای خالی را با توجه به شکل کامل کن.

اندازه ی طول مداد بین و سانتی متر است.

اندازه ی طول مداد سانتی متر و میلی متر است.

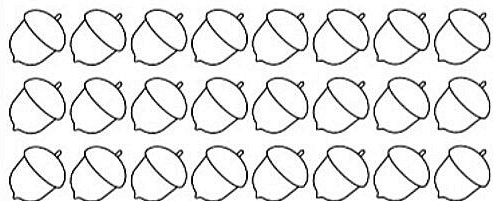
اندازه ی طول مداد سانتی متر و قسمت از ۱۰ قسمت کوچک است.



۶ - قد امین ۱۵۳ سانتی متر است . خواهرش ۱۳ سانتی متر از او بلندتر است . قد این دو نفر روی هم چند سانتی متر است ؟

۷ - عزیز دلم با کارت های (۹ و ۷ و ۲) هر چه می توانید عدد دو رقمی بنویس ؟
بیشترین عددی که نوشتی چیست ؟

۸ - فرزندم ابتدا دسته بندی کن و سپس جاهای خالی را کامل کن .



..... دسته تایی می شود

..... دسته تایی می شود

۹ - مقایسه کنید و در جای خالی علامت مناسب بگذارید .

$200 + 3 + 70$ ○ $200 + 20 + 7 + 40$


۷۸۸ ○ ۷۸۷



۹۰۹ ○ ۹ صدتایی و ۹ ده تایی

۹۰۰ ○ ۹۰۸

۱۰ - دلبندم با توجه به ساعت رو به رو پاسخ بده .



* ساعت چند است ؟

* عقربه بزرگ چه کسری از صفحه ساعت حرکت کرده است ؟

۱۱ - در باغی ۱۳۲ درخت انار و ۴۳۶ درخت سیب کاشته شده است . تعداد درختان سیب چندتا بیشتر از

درختان انار است ؟ (روش فرآیندی)



۱۲ - عزیز دلم یک مستطیل بکش و آن را به ۸ قسمت مساوی تقسیم کن ، سپس ۳ قسمت را رنگ کن . حالا بنویس چه

کسری از شکل رنگ نشده است ؟





مرور ریاضی

موضوع:

تاریخ

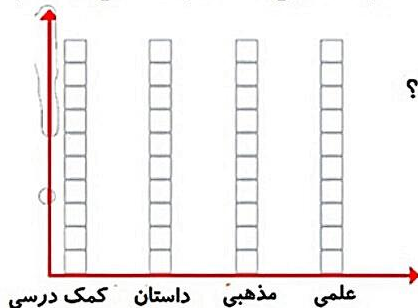
نام و نام خانوادگی

فصل ۸

هدف:

۱- مهرداد در یک سال تحصیلی ۶ کتاب کمک درسی، ۱۰ کتاب داستان، ۸ کتاب مذهبی، ۶ کتاب علمی از کتابخانه مدرسه امانت گرفت و خواند.

نمودار را کامل کنید و سپس بگویید مهرداد به چه نوع کتابی بیشتر علاقه دارد؟ چرا؟



۲- عزیزم عددهای زوج را زرد و عددهای فرد را آبی رنگ بزن.



۳- در یک روستا ۵ دانش آموز تعداد گوسفندان خود را شمردند و در کلاس اعلام کردند. آموزگار جدول زیر را درست کرد. با کامل کردن نمودار تصویری آن را رسم کنید. برای هر ۱۰ گوسفند یک بکشید.



| | | | | | |
|-------|------|-----|------|-----|--------------|
| محمود | احمد | حسن | محسن | علی | دانش آموز |
| ۵۲ | ۱۲ | ۴۷ | ۱۹ | ۳۱ | تعداد |
| | | | | | تعداد تقریبی |



۴- با توجه به محور مشخص کنید فلش چه نقطه ای را نشان می دهد؟ در این محور هر واحد به قسمت کوچک تقسیم شده است.


نقطه مشخص شده واحد و قسمت از قسمت کوچک مساوی را نشان می دهد.




۵- عددی پیدا کنید که اگر با ۲۷ جمع کنیم، جواب ۵۳ شود. (راهبرد حدس و آزمایش)



۶ - جاهای خالی را با توجه به عملیات ماشین ورودی و خروجی کامل کنید .

| | | | | | |
|----|---|----|---|---|---|
| ۱۴ | ➔ | | ➔ | |  |
| | | ۱۰ | | | |
| ۱۰ | | | | | |
| | | | | ۷ | |

۷ - عزیز دلم ابتدا دسته بندی کن و سپس جاهای خالی را کامل کن .



..... دسته تایی می شود

..... دسته تایی می شود

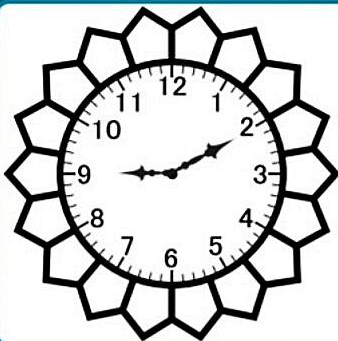
۸ - شیوا ۲ دفتر و یک پاک کن خرید و ۹۵۰ تومان پول داد . قیمت دفتر ۴۰۰ تومان بود . قیمت پاک کن را پیدا کنید ؟



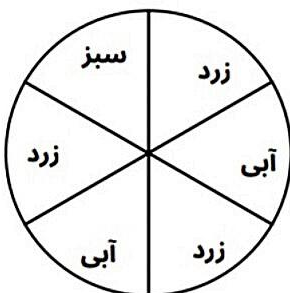
۹ - دلبندم با توجه به ساعت رو به رو پاسخ بده .

* ساعت چند است ؟


* نیم ساعت بعد ساعت چند می شود ؟



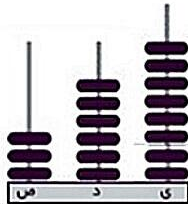
۱۰ - اگر یک صفحه چرخنده به شکل زیر داشته باشیم بعد از چرخاندن احتمال ایستادن عقربه روی کدام رنگ بیشتر است؟ چرا؟



..... با احتمال کمتر روی کدام رنگ می ایستد؟ چرا؟



۱- جدول را کامل کنید و عدد را به حروف و رقم بنویسید.



| | | |
|---|---|---|
| ص | د | ی |
| | | |

عدد:

حروف:

۲- باز شده عدد های زیر را بنویسید.

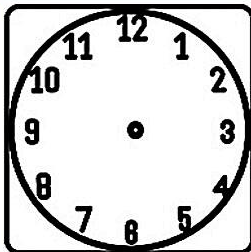
$752 = \dots\dots\dots$

$907 = \dots\dots\dots$

۳- ساعت هفت و نیم است،

چهار ساعت بعد ساعت چند است؟.....

با رسم عقربه ها روی ساعت نشان بده.



۴- با کارت های ۹ و ۷ و ۲ عدد های سه رقمی بنویسید که حاصل جمع رقم یکان و صدگان برابر رقم دهگان باشد؟



۵- حاصل جمع و تفریق های زیر را بنویسید.

$98+9 = \dots\dots\dots$

$20+100+30+200+8 = \dots\dots\dots$

$109-8 = \dots\dots\dots$

۶- با شابلون یک مستطیل و یک مربع رسم کنید. سپس تفاوت و شباهت آن دو را بنویسید.

شباهت:

تفاوت:

۷ - کتابی ۸۵ صفحه دارد مریم هفته گذشته ۳۴ صفحه از کتابش را خوانده است. اگر او این هفته ۳۱ صفحه دیگر بخواند (روش فرآیندی).

..... او چند صفحه از کتاب را خوانده است؟

..... چند صفحه از کتابش باقی مانده است؟

۷- حاصل جمع و تفریق های زیر را به صورت تقریبی به دست آورید.

$$۸۵ \longrightarrow$$

$$۲۸ \longrightarrow$$

$$\underline{\quad} - ۳۶ \longrightarrow$$

$$\underline{\quad} + ۵۳ \longrightarrow$$

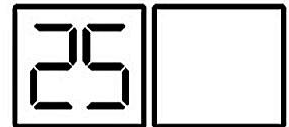
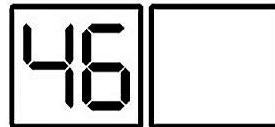
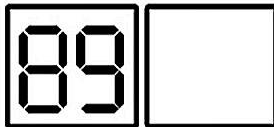
۸- الگوی عددی را ادامه دهید.

۷۳۴ ، ۷۳۷ ، ۷۴۰ ،

۹۲۴ ، ۹۳۴ ،

۹- با رقم های (۳ و ۷) در دهگان و رقم های (۵ و ۲) در یکان هرچه می توانید به صورت نظام دار عدد دو رقمی بنویس (با روش شاخه ای)

۱۰- عزیزم عددهای دیجیتالی نوشته شده را بخوان و به فارسی بنویس.




۱۱- قبل و بعد عددهای زیر را بنویسید.

..... ، ۸۹۹ ،

..... ، ۱۷۸ ،

..... ، ۲۴۳ ،

..... ، چهارصد و چهل و نه ،





مرور ریاضی

موضوع:


تاریخ

نام و نام خانوادگی

فصل ۱ تا ۸

هدف:

۱ - ستاره دانا، با رقم های (۵ و ۳) در یکان و رقم های (۷ و ۸) در دهگان، هر چه می توانی به صورت نظام دار عدد دو رقمی بنویس. (با رسم جدول)



۲ - سارا ۹۹ ریال دارد . او برای خرید یک دفترچه ۲۳ ریال و برای خرید پاک کن ۴۵ ریال پرداخت کرد . (روش فرایندی)

الف) سارا چند ریال از پولش را خرج کرده است؟

ب) اکنون چند ریال پول برایش باقی مانده است؟



۳ - دلبندم با شابلون یک مربع و یک شش ضلعی رسم کرده سپس شباهت و تفاوت آن ها را بنویس .


شباهت:

تفاوت:

۴ - غنچه دانایم الگوهای عددی زیر را با نوشتن رابطه ی الگویی مناسب ادامه بده.

..... ، ، ، ، ۱۸ ، ۱۳ ، ۹ ، ۶

..... ، ، ، ، ۸۶۵ ، ۸۵۵ ، ۸۴۵



۵- عزیزدلم حاصل جمع و تفریق ها را به روش تکنیکی بنویس.

۴۶۳

+ ۱۵۹

۶۷۸


- ۳۹۷

۳۷۵

+ ۴۸۸

۷۰۰

- ۳۴۲




۶- گل بهارم با توجه به شکل به سوالات پاسخ بده.

چه کسری از صفحه رنگ شده است؟


احتمال برخورد تیر به قسمت رنگی بیشتر است یا قسمت سفید؟ چرا؟

.....


۷- عزیزم بنویس ساعت چند است و ساعت سوم را با رسم عقربه ها نشان بده؟



..... :



..... :



یک ربع مانده به ۵

۸- ستاره تابانم با کارت های (۸ - ۵ - ۳) عددهای سه رقمی بنویس طوری که حاصل جمع یکان و صدگان برابر دهگان باشد.

۹- دلبندم مقایسه کن و علامت < = > بگذار.

$۲+۴۰۰+۷۰+۱۰$ ○ $۲۰۰+۴+۲۰+۱۰۰$

۴ سانتی متر ○ ۳۷ میلی متر

۵۰۳ ○ ۵ صدتایی و ۳ ده تایی

۵ سانتی متر و ۴ میلی متر ○ ۴۵ میلی متر

۱۰- با توجه به محور مشخص کنید فلش چه نقطه ای را نشان می دهد؟

در این محور هر واحد به قسمت کوچک تقسیم شده است.

نقطه مشخص شده واحد و قسمت از قسمت کوچک مساوی را نشان می دهد.

