

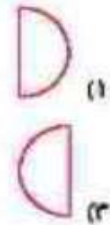
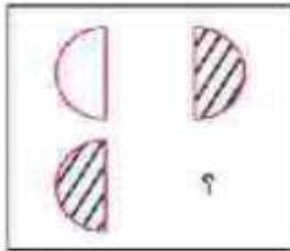
علوی

درس: استعداد فضایی دوم دبستان
طرح بسجش استعداد: جمادای ۲- توصیفی
مدت پاسخگوی و انجام فعالیت: ۴۵ دقیقه

فعالیت‌های استعداد فضایی پایه‌ی دوم

فعالیت ۱

۷۱- در جای ؟ کدام شکل قرار می‌گیرد؟



فعالیت ۲

۷۲- در تصویر زیر به ردپاها دقت کن.

هر کدام از ردپاها مربوط به کدام کفش است؟ به هم وصل کن.

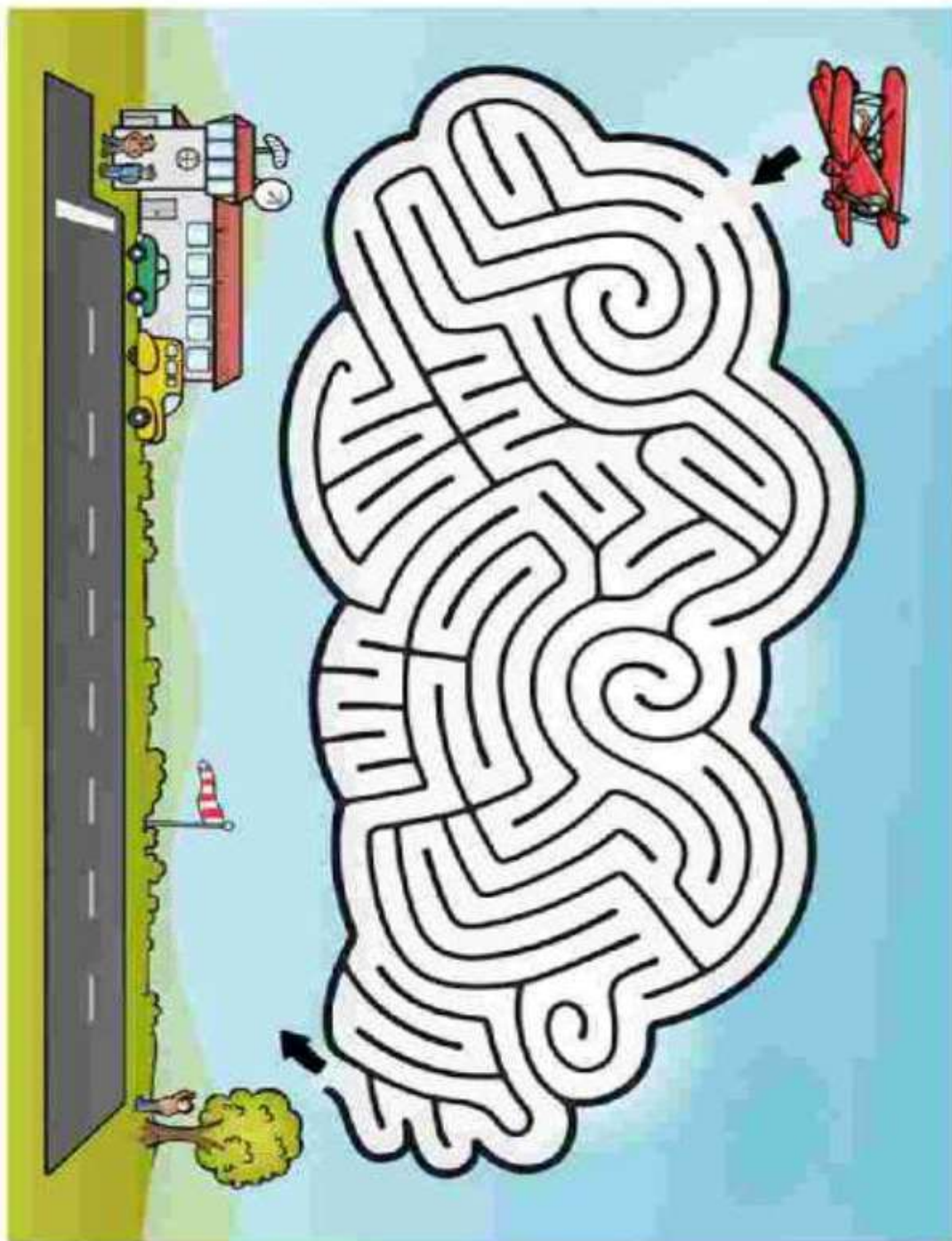


علوی

فعالیت ۳

درس: استعداد فضایی دوم دبستان
طرح بسجش استعداد: جمادای ۲- توصیفی
زمان برگزاری: هفته چهارم اردیبهشت
مدت پاسخگویی و انجام فعالیت: ۴۵ دقیقه

۷۳- فرزندم با انتخاب مسیر مناسب، هواپیما را به فرودگاه هدایت کن.

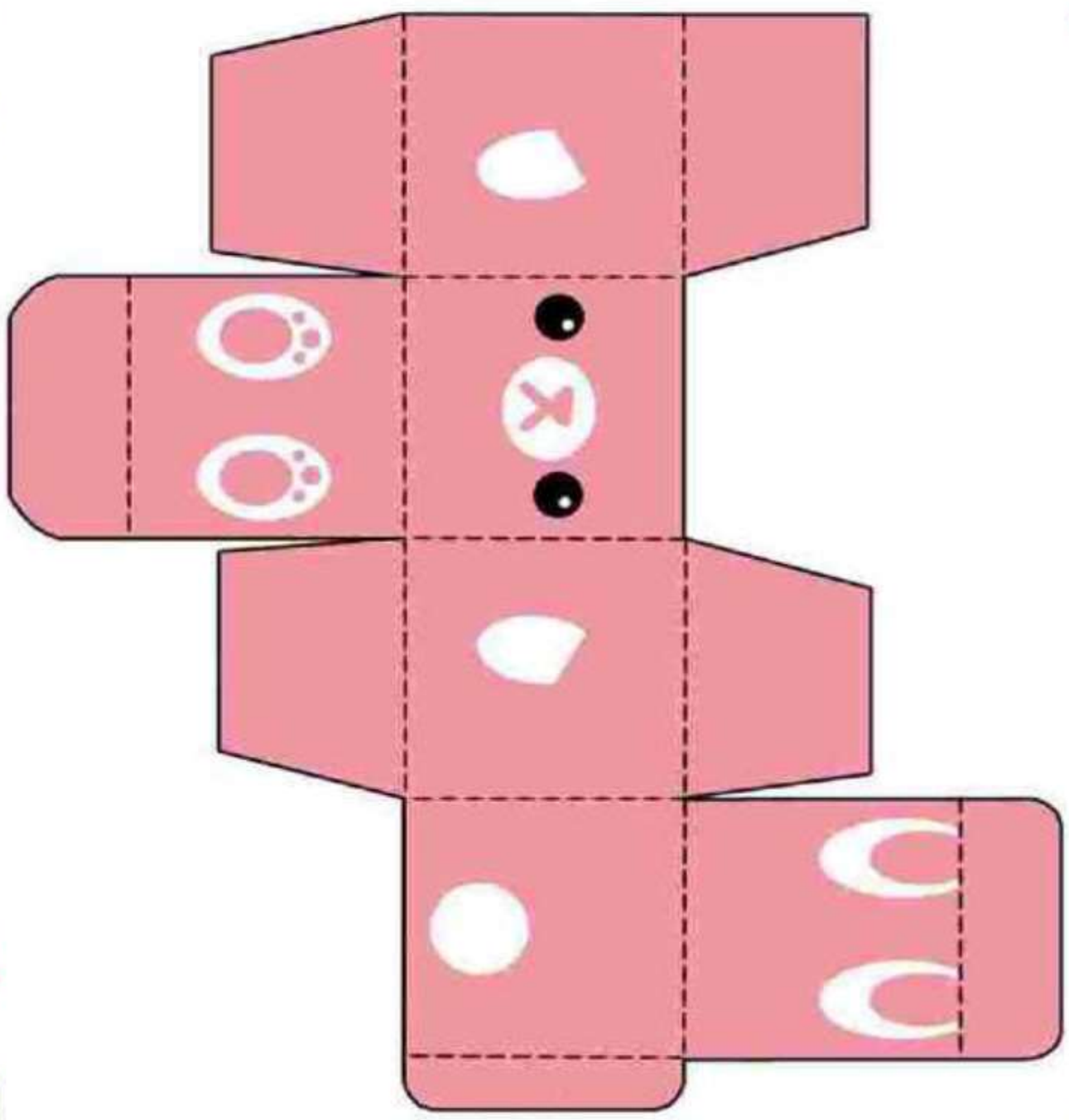


درس: استعداد فضایی دوم دبستان طرح سنجش استعداد: جمادای ۲- توصیفی
زمان برگزاری: هفته چهارم اردیبهشت مدت پاستگویی و انجام فعالیت: ۴۵ دقیقه

علوی

فعالیت ۴

۷۴- با استفاده از قیچی تصویر زیر را از برگه جدا کن و سپس از روی خطوط تا بزن. به کمک چسب و با خلاقیت خود آنرا به یک جعبه‌ی زیبا تبدیل کن.



درس: استعداد فضایی دوم دبستان
زمان برگزاری: هفته چهارم اردیبهشت
طرح سنجش استعداد: جامداتی ۲- توصیفی
مدت پاسخگویی و انجام فعالیت: ۴۵ دقیقه

علوی

پاسخنامه استعداد فضایی پایه‌ی دوم

فعالیت ۱

۷۱- گزینه‌ی ۱ (۱- /۵- نمره) (کلمه صیغی) (قدرت جسم ذهنی) (گویه: ۳۲ و ۳۵) (آسان)

فعالیت ۲

۷۲-



۱/۵- نمره) (انتخاب صحیح هر مورد ۲/۵- نمره) (کلمه صیغی) (صورت‌نویاری ذهنی) (گویه: ۳۳-۳۸) (متوسط)

فعالیت ۳

۷۳- انتخاب مسیر صحیح

(۱- نمره) (نکسا رحمانی) (سیرپایی) (گویه: ۳۱) (دشوار)

فعالیت ۴

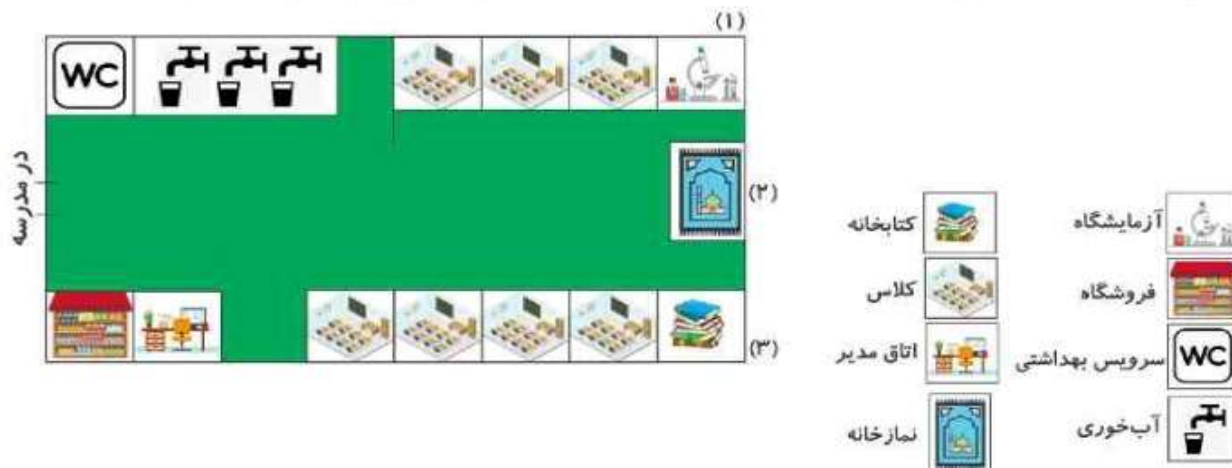
۷۴- برش صحیح - تا زدن از روی خطوط به درستی (۱- نمره) (ساخت جعبه) (۱- نمره)

(۲- نمره) (نکسا رحمانی) (ساخت کاردستی و انجام) (گویه: ۳۶ و ۳۷) (دشوار)

فعالیت‌های استعداد فضایی پایه‌ی دوم

فعالیت ۱

۱۶- تصویر داده شده، نقشه‌ی یک مدرسه از بالا است. با دقت به آن نگاه کنید و به پرسش‌ها پاسخ دهید.



الف) کدام قسمت فروشگاه قرار دارد؟ دور آن خط قرمز بکشید.

ب) در این مدرسه چند کلاس وجود دارد؟

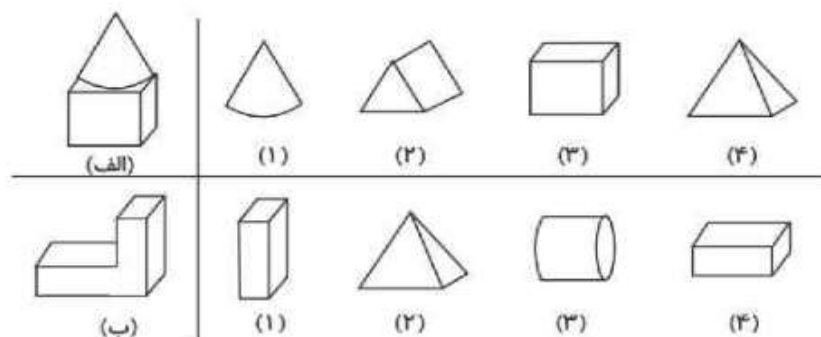
پ) هر یک از مکان‌های (۱)، (۲) و (۳) چه نام دارند؟

۱) (۲) (۳)

ت) شما کدام مکان را در مدرسه بیشتر دوست دارید؟ دور آن خط آبی بکشید.

فعالیت ۲

۱۷- هر یک از تصاویر سمت چپ با کدام یک از تصاویر سمت راست ساخته می‌شود؟ آن‌ها را رنگ کنید.



طرح سنجش استعداد: مداد قرمز ۳ - توصیفی
مدت پاسخگویی و انجام فعالیت: ۴۵ دقیقه

درس: استعداد فضایی دوم دبستان
زمان برگزاری: هفته دوم اسفند

علوی


فعالیت ۳

۱۸- آیا می‌توانید موش را راهنمایی کنید تا از مسیر عبور کرده و به پنیر برسد؟




فعالیت ۴

۱۹- در تصاویر زیر ۴ اختلاف پیدا کنید.



فعالیت ۵

۲۰- به طراح جدول زیر کمک کنید تا خانه‌ها را مانند دو ردیف بالا رنگ کند.



فعالیت ۶

۲۱- به حیوانات داخل جدول دقت کنید و به پرسش‌ها پاسخ دهید.





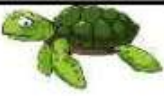



الف) اگر لاک‌پشت از محل خود، ۲ خانه به سمت راست و یک خانه به سمت بالا بیاید به کدام حیوان می‌رسد؟

ب) اگر خرگوش از خله‌ی خود حرکت کند، ۲ خانه به پایین و ۵ خانه به راست و یک خانه به بالا برود به کدام حیوان می‌رسد؟

پ) کدام حیوان به شیر نزدیک‌تر است؟

۲) خرگوش

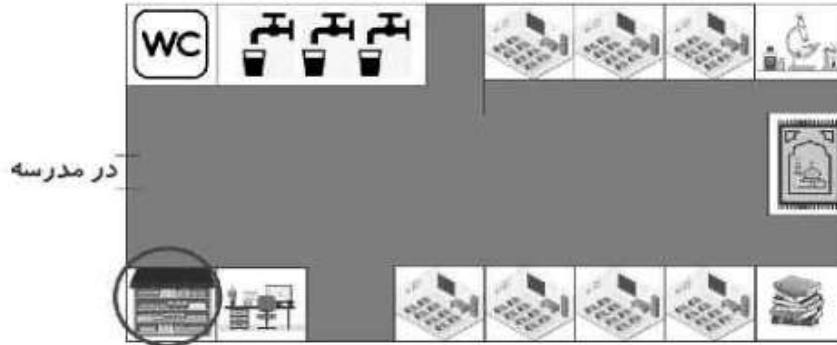
۱) خرس

پاسخنامه استعداد فضایی پایه دوم

فعالیت ۱

۱۶- الف) گوشه‌ی سمت چپ پایین



ب) ۷ کلاس

پ) ۱) آزمایشگاه - ۲) نمازخانه - ۳) کتابخانه

ت) بسته به نظر دانش آموز

۳) (نمره) (هر مورد ۵/۰ = نمره) (اندروزگو) (نقشه خوانی - دید از بالا) (گویه: ۲۱، ۲۲ و ۲۴) (دشوار)

فعالیت ۲

۱۷- الف) ۱ و ۳

ب) ۱ و ۴

۱) (نمره) (هر مورد ۵/۰ = نمره) (اندروزگو) (تجسم اشکال هندسی) (گویه: ۲۲، ۲۵، ۲۷، ۲۸، ۲۹ و ۴۰) (متوسط)

فعالیت ۳

۱۸-



۱) (نمره) (اندروزگو) (ییدا کردن مسیر) (گویه: ۲۱، ۲۲ و ۲۴) (متوسط)

علوی

فعالیت ۴

درس: استعداد فضایی دوم دبستان
زمان برگزاری: هفته دوم اسفند

طرح سنجش استعداد: مداد قرمز ۳ - توصیفی
مدت پاسخگویی و انجام فعالیت: ۴۵ دقیقه


۱۹- پیدا کردن ۴ اختلاف صحیح، قابل قبول است.



(۲ نمره) (هر مورد ۵/۰ = نمره) (اندرزگو) (تجسم و تصویرسازی ذهنی) (گویه: ۲۲، ۲۳، ۲۷ و ۴۰) (متوسط)

فعالیت ۵

-۲۰-



(۲ نمره) (هر مورد ۲۵/۰ = نمره) (اندرزگو) (تجسم و ترسیم) (گویه: ۲۲، ۲۳، ۲۷، ۲۸ و ۲۹) (متوسط)

فعالیت ۶

۲۱- الف) شیر (۲۵/۰ = نمره)

ب) پرنده (۲۵/۰ = نمره)

ب) گزینه ۱ (۵/۰ = نمره)

۱) نمره) (اندرزگو) (نقشه‌خوانی و پیدا کردن مسیر) (گویه: ۲۱، ۲۲، ۲۳ و ۲۴) (آسان)

طرح سنجش استعداد: مداد قرمز ۳ - توصیفی
مدت پاسخگویی و انجام فعالیت: ۴۵ دقیقه

درس: استعداد فضایی دوم دبستان
زمان برگزاری: هفته دوم اسفند

فعالیت‌های استعداد فضایی پایه‌ی دوم

فعالیت ۱

۱۶- کیان در یک فروشگاه لوازم خانگی کار می‌کند. او تعداد فروش لوازم برقی در هفته‌ی دوم اسفند را در جدول زیر نشان داد. طبق این جدول به پرسش‌ها پاسخ دهید.



- الف) چند یخچال در این هفته فروخته شده است؟
ب) کدام وسیله از همه کمتر به فروش رفته است؟
پ) کدام وسیله از همه بیشتر به فروش رفته است؟
ت) تعداد فروش کدام وسیله از جاروبرقی کمتر و از یخچال بیشتر بوده است؟

فعالیت ۲

۱۷- به جدول داده شده با دقت توجه کنید. هر شکل، نشان دهنده‌ی یک عدد است. با هر سه شکل، یک عدد سه رقمی ساخته‌ایم. هر عدد را بنویسید.

6	7	8	9


<p>الف) </p>	<p>ب) </p>
<p>پ) </p>	<p>ت) </p>

طرح سنجش استعداد: مداد قرمز ۳ - توصیفی
مدت پاسخگویی و انجام فعالیت: ۴۵ دقیقه

درس: استعداد فضایی دوم دبستان
زمان برگزاری: هفته دوم اسفند

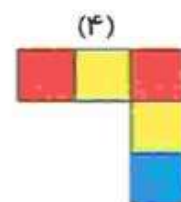
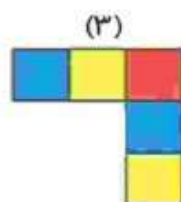
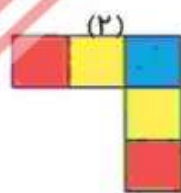
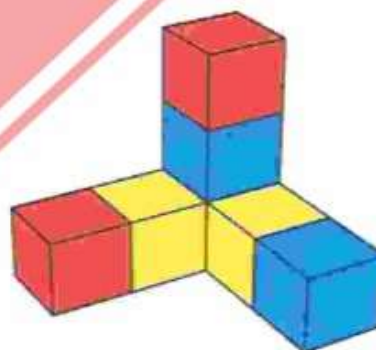
فعالیت ۳

۱۸- اگر بخواهید از محلی که الان هستید به آب خوری مدرسه بروید، چه چیزهایی می بینید؟ از چه جاهایی عبور می کنید؟ تصویر ۲ مورد را ساده و بدون رنگ آمیزی بکشید.



فعالیت ۴

۱۹- اگر از بالا به شکل داده شده نگاه کنیم، کدام شکل را می بینیم؟



طرح سنجش استعداد: مداد قرمز ۳ - توصیفی
مدت پاسخگویی و انجام فعالیت: ۴۵ دقیقه

درس: استعداد فضایی دوم دبستان
زمان برگزاری: هفته دوم اسفند

فعالیت ۵

۲۰- در یک روز برفی، سارا به همراه دوستانش برای برف بازی به پارک رفتند و یک عکس یادگاری گرفتند. تصاویر داده شده را با قیچی و از روی نقطه چین‌ها، برش دهید و در داخل کادر، طبق عکس اصلی در سمت

راست، با چسب بچسبانید.



درس: استعداد فضایی دوم دبستان
زمان برگزاری: هفته دوم اسفند

طرح سنجش استعداد: مداد قرمز ۳ - توصیفی
مدت پاسخگویی و انجام فعالیت: ۴۵ دقیقه



درس: استعداد فضایی دوم دبستان
 طرح سنجش استعداد: مداد قرمز ۳ - توصیفی
 مدت پاسخگویی و انجام فعالیت: ۴۵ دقیقه

پاسخنامه استعداد فضایی پایه‌ی دوم

فعالیت ۱

ب) ماکروفر

۱۶- الف) ۶

ت) تلویزیون

پ) جاروبرقی

(۲ نمره) (هر مورد ۵/۰ نمره) (فاطمه صباغی) (تفسیر نمودار) (گویه: ۳۱، ۳۳ و ۳۴) (آسان)



فعالیت ۲

ت) 986

پ) 697

ب) 878

۱۷- الف) 976

(۲ نمره) (هر مورد ۵/۰ نمره) (فاطمه صباغی) (تجسم و تصویرسازی ذهنی) (گویه: ۳۳، ۳۵، ۳۸ و ۴۰) (متوسط)



فعالیت ۳

۱۸- هر مورد صحیحی قابل قبول است.

کیفیت نقاشی نمره‌ای ندارد. فقط تصویرسازی ذهنی حائز اهمیت است.

(۲/۵ نمره) (هر مورد ۱/۲۵ نمره) (فاطمه صباغی) (تجسم و تصویرسازی ذهنی) (گویه: ۳۱، ۳۳ و ۳۸) (متوسط)



فعالیت ۴

۱۹- شکل شماره ۴

(۵/۰ نمره) (فاطمه صباغی) (قدرت تجسم شکل‌های سه بعدی) (گویه: ۳۳، ۳۷، ۳۸ و ۳۹) (نشواری)



فعالیت ۵

۲۰- برش صحیح (۱/۵ نمره)

چسباندن در کادر (۱/۵ نمره)

(۳ نمره) (فاطمه صباغی) (برش و ساخت پازل) (گویه: ۳۳، ۳۵ و ۳۶) (متوسط)

طرح سنجش استعداد: جامدادی ۱- توصیفی
مدت پاسخگویی و انجام فعالیت: ۴۵ دقیقه


درس: استعداد فضایی دوم دبستان
زمان برگزاری: هفته سوم دی

علوی

فعالیت‌های استعداد فضایی پایه‌ی دوم

فعالیت ۱

۳۱- با استفاده از قیچی تصویر زیر را از برگه جدا و سپس از روی خطوط تا بزن. به کمک چسب و با خلاقیت خود آن را به یک جعبه‌ی زیبا تبدیل کن.



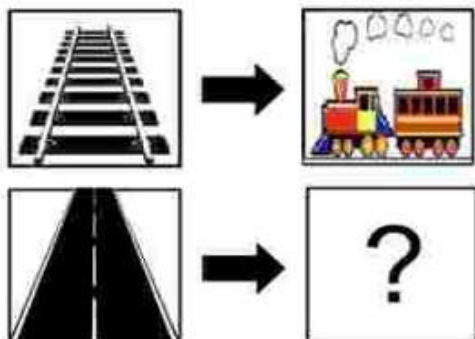
طرح سنجش استعداد: جامدادی ۱ - توصیفی
مدت پاسخگویی و انجام فعالیت: ۴۵ دقیقه

درس: استعداد فضایی دوم دبستان
زمان برگزاری: هفته سوم دی

علوی

فعالیت ۲

۳۲- به جای علامت سؤال شکل کدام گزینه را انتخاب می‌کنی؟



(۴)



(۳)



(۲)



(۱)

فعالیت ۳

۳۳- الف) در تصویر زیر کدام پسر بچه دست راستش بر روی سینه و دست چپ او نزدیک کمرش است؟ (دور آن خط بکش.)

ب) کدام پسر بچه بلوز آبی کم‌رنگ و شلوار و کفش هم‌رنگ پوشیده است؟ (زیر آن خط قرمز بکش.)



طرح سنجش استعداد: جامدادی ۱ - توصیفی
مدت پاسخگویی و انجام فعالیت: ۴۵ دقیقه

درس: استعداد فضایی دوم دبستان
زمان برگزاری: هفته سوم دی

علوی

فعالیت ۴

۳۴- قطعات پازل جدا شده را به جای خالی مناسب خود وصل کن.



طرح سنجش استعداد: جامدادی ۱
مدت پاسخگویی و انجام فعالیت: ۴۵ دقیقه

درس: استعداد فضایی دوم دبستان
زمان برگزاری: هفته سوم دی

علوی

پاسخنامه استعداد فضایی پایمی دوم

فعالیت ۱

۳۱- برش صحیح - تازدن از روی خطوط به درستی (۱ نمره) ساخت جعبه (۱ نمره)

(۲ نمره) (فازده رحابچی) (ساخت کارستی و احجام) (گویه: ۳۶، ۳۷ و ۳۹) (دشور)

فعالیت ۲

۳۲- گزینه‌ی ۲۰-



(۵/۰ نمره) (فازده رحابچی) (تصویرسازی ذهنی) (گویه ۳۲ و ۳۸) (آسان)

فعالیت ۳

۳۳-



(۱ نمره) (هر مورد ۵/۰ نمره) (فازده رحابچی) (تشخیص صحیح شکل) (گویه: ۳۳) (متوسط)

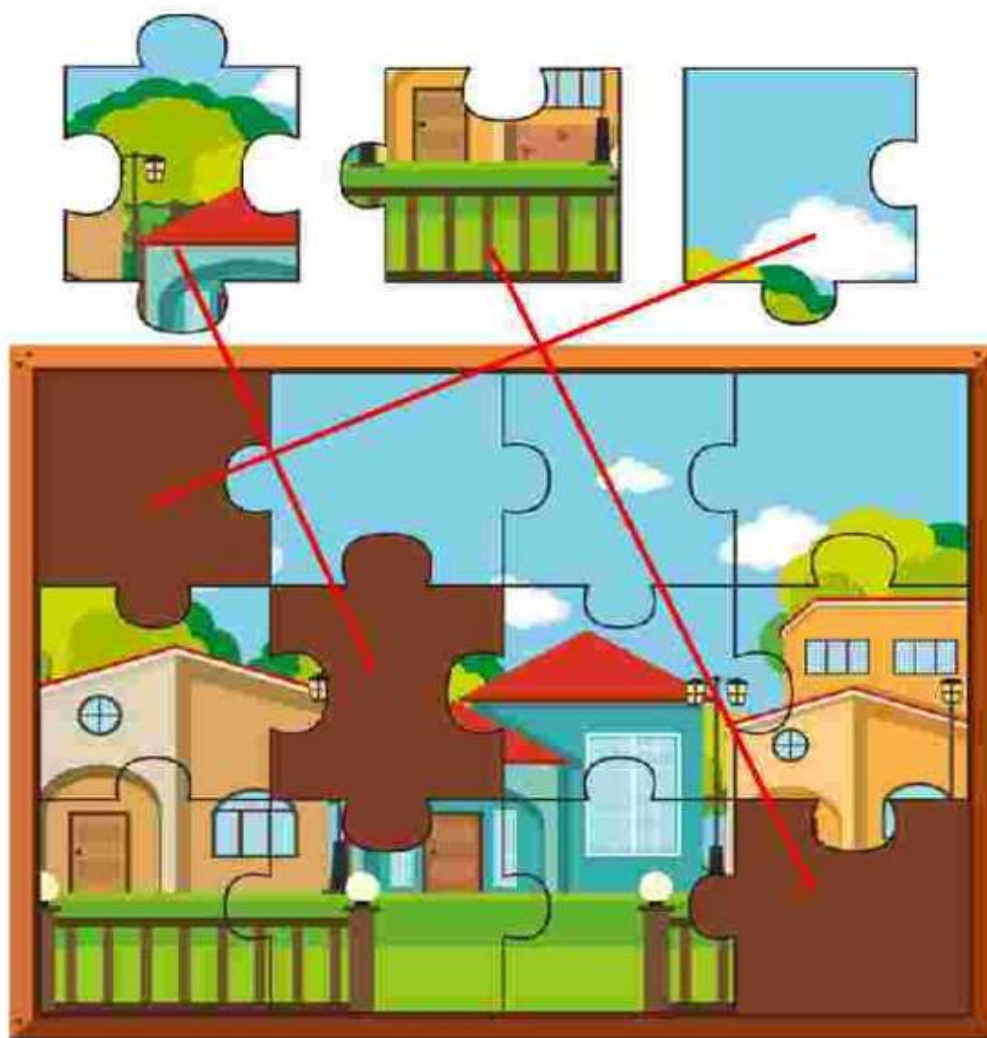
طرح سنجش استعداد: جامدای ۱
مدت پاسخگویی و انجام فعالیت: ۴۵ دقیقه

درس: استعداد فضایی دوم دبستان
زمان برگزاری: هفته سوم دی

علوی

فعالیت ۴

۳۳-



(۱/۵ نمره) (هر جای خالی ۰/۵ نمره) (فائزه زحرفچی) (مرتب کردن پارک) (گویه: ۴۵) (متوسط)