


درس: استعداد فضایی دوم دبستان
 طرح سنجش استعداد: مداد قرمز ۴ - توصیفی
 زمان برگزاری: هفته چهارم اردیبهشت مدت پاسخگویی و انجام فعالیت: ۷۵ دقیقه

علوی

فعالیت‌های استعداد فضایی پایه‌ی دوم

فعالیت ۱

۳۶- با دقت به تصاویر داده شده نگاه کنید. از هر شکل هندسی چند تا وجود دارد؟



الف) مثلث:

ب) بیضی:

پ) مستطیل:

ت) دایره:

ث) مربع:

فعالیت ۲

۳۷- با دقت به تصویر مرغ و قطعات پازل آن نگاه کنید. در هر یک از خانه‌های مشخص شده کدام قطعه قرار می‌گیرد؟

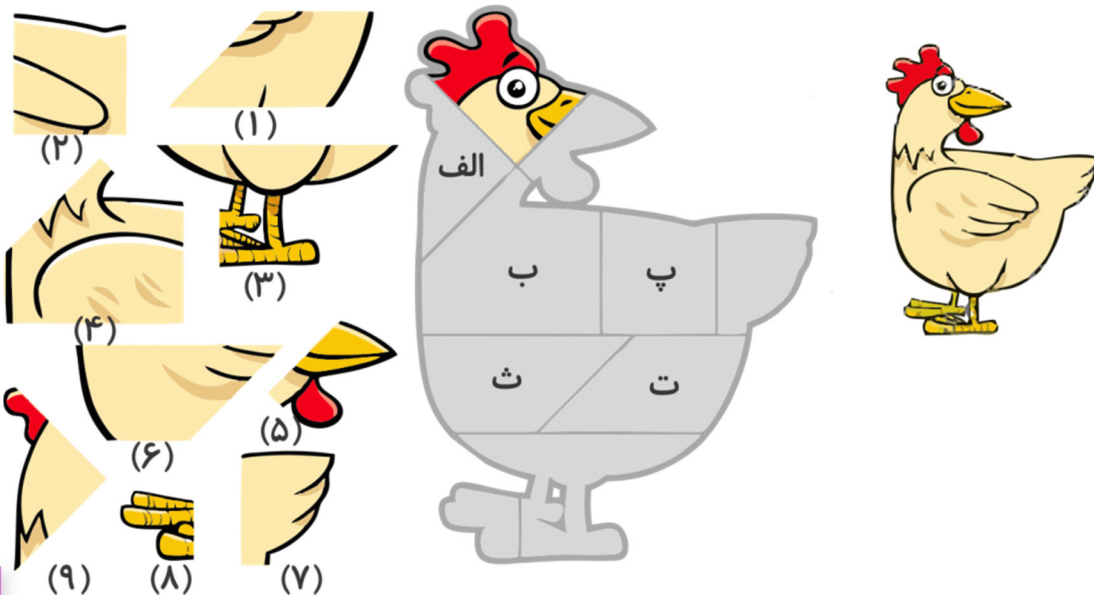
ب)

الف)

ث)

ت)

پ)

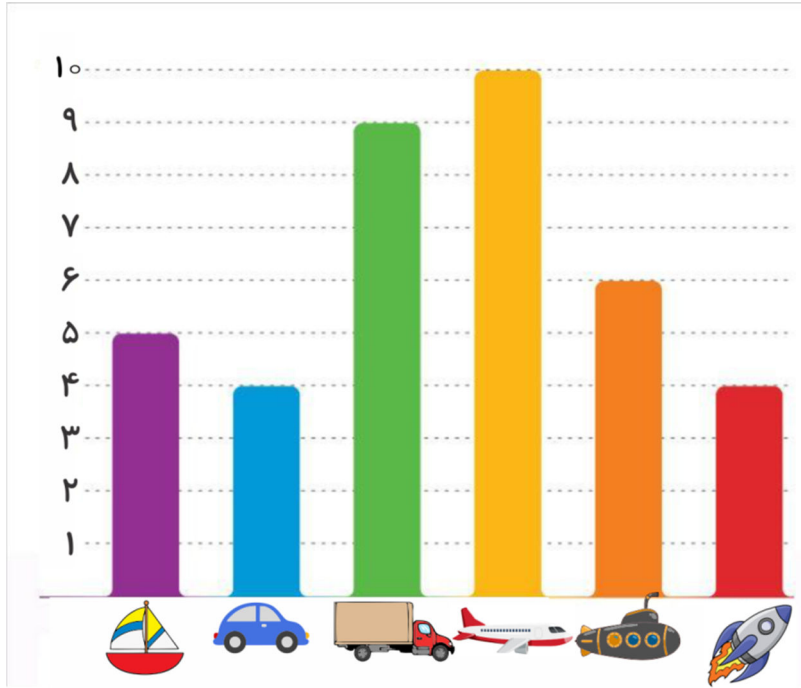


درس: استعداد فضایی دوم دبستان
طرح سنجش استعداد: مداد قرمز ۴ - توصیفی
زمان برگزاری: هفته چهارم اردیبهشت مدت پاسخگویی و انجام فعالیت: ۷۵ دقیقه

علوی

فعالیت ۳

۳۸- به نمودار داده شده که مربوط به وسایل نقلیه است توجه کنید و به پرسش‌ها پاسخ دهید.



الف) بیشترین و کمترین تعداد مربوط به کدام وسایل نقلیه است؟

(۱) بیشترین ←
(۲) کمترین ←

ب) تعداد کامیون‌ها چقدر بیشتر از زیردریایی‌ها است؟

.....

پ) مجموع تعداد کل وسایل نقلیه چقدر است؟

.....

ت) کدام وسایل نقلیه با هم تعداد برابری دارند؟

.....

ث) با توجه به تعداد وسایل نقلیه، بیان کنید کدام یک قبل و کدام یک بعد از قایق قرار می‌گیرند؟

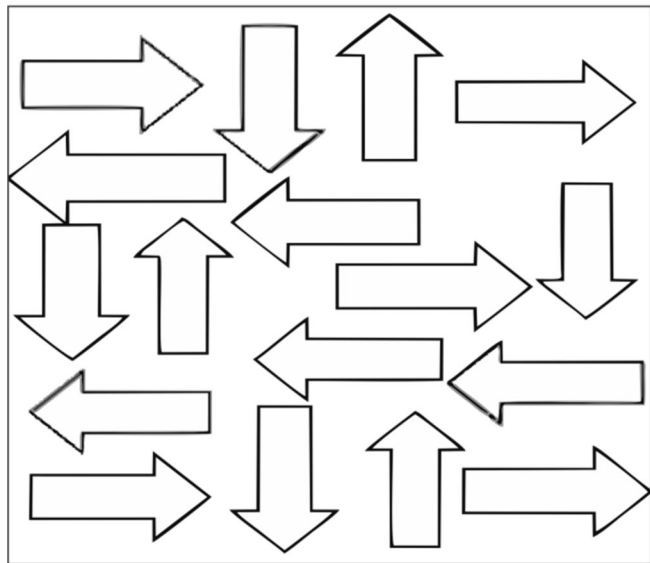
.....

درس: استعداد فضایی دوم دبستان
طرح سنجش استعداد: مداد قرمز ۴ - توصیفی
زمان برگزاری: هفته چهارم اردیبهشت مدت پاسخگویی و انجام فعالیت: ۷۵ دقیقه

علوی

فعالیت ۴

۳۹- به پیکان‌های (فلش‌های) رنگی داده شده با دقت نگاه کنید. چند پیکان به رنگ‌های داده شده وجود دارد؟



الف) قرمز:

ب) آبی:

پ) زرد:

ت) سبز:

درس: استعداد فضایی دوم دبستان
 طرح سنجش استعداد: مداد قرمز ۴ - توصیفی
 زمان برگزاری: هفته چهارم اردیبهشت مدت پاسخگویی و انجام فعالیت: ۷۵ دقیقه

علوی

فعالیت ۵

۴۰- اگر به هر یک از اشکال سمت چپ از بالا نگاه کنید، کدام یک از تصاویر سمت راست را خواهید دید؟

