


درس: استعداد فضایی سوم دبستان
طرح سنجش استعداد: مداخله ۴- توصیفی
زمان برگزاری: هفته چهارم اردیبهشت
مدت پاسخگویی و انجام فعالیت: ۷۵ دقیقه

علوی

فعالیت‌های استعداد فضایی پایه سوم

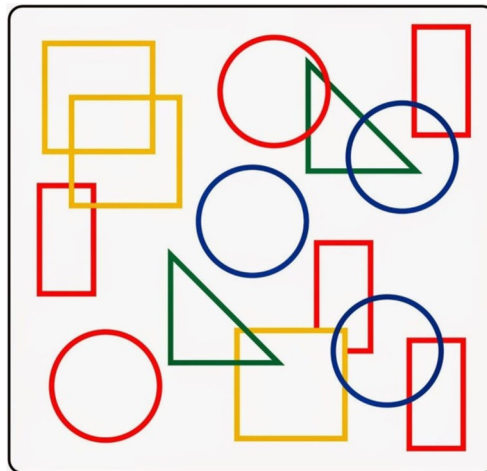
فعالیت ۱

۳۶-۶ مورد از حیواناتی را که در تصویر می‌بینید نام ببرید.



فعالیت ۲

۳۷- با دقت به تصویر داده شده نگاه کنید، سپس به پرسش‌ها پاسخ دهید.



الف) در تصویر داده شده چند دایره وجود دارد؟

ب) روی کدام شکل یک دایره آبی و یک دایره قرمز وجود دارد؟

پ) کدام شکل بیشترین تعداد را دارد؟

۴) دایره آبی قرمز

۳) دایره آبی

۲) مستطیل قرمز

۱) مربع زرد





درس: استعداد فضایی سوم دبستان
 طرح سنجش استعداد: مداد قرمز ۴- توصیفی
 زمان برگزاری: هفته چهارم اردیبهشت
 مدت پاسخگویی و انجام فعالیت: ۷۵ دقیقه





علوی





فعالیت ۳





۳۸- اگر به هر یک از اشکال سمت چپ از بالا نگاه کنید، کدام یک از تصاویر سمت راست را خواهید دید؟

- (الف)
- (ب)
- (پ)
- (ت)

			
الف	[۱]	[۲]	[۳]

			
ب	[۱]	[۲]	[۳]

			
پ	[۱]	[۲]	[۳]

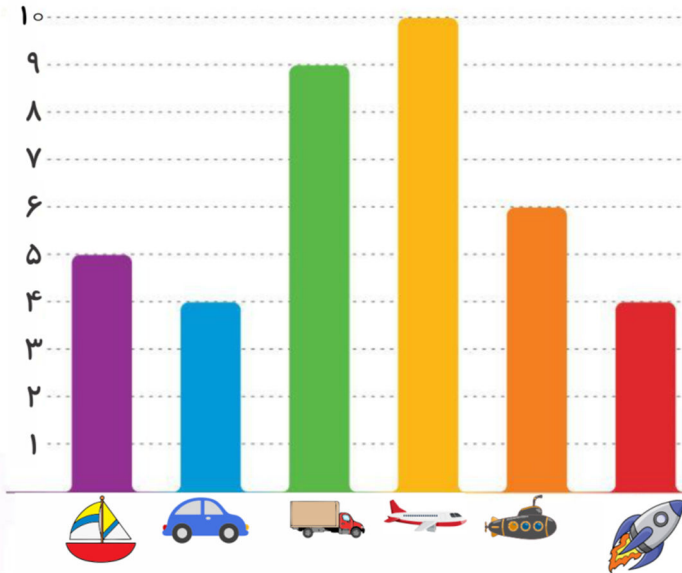
			
ت	[۱]	[۲]	[۳]

درس: استعداد فضایی سوم دبستان
طرح سنجش استعداد: مداخله ۴- توصیفی
مدت پاسخگویی و انجام فعالیت: ۷۵ دقیقه

علوی

فعالیت ۴

۳۹- به نمودار داده شده که مربوط به وسایل نقلیه است، توجه کنید و به پرسش‌ها پاسخ دهید.



الف) بیشترین و کمترین تعداد مربوط به کدام وسایل نقلیه است؟

(۱) بیشترین ←
(۲) کمترین ←

ب) کدام وسایل نقلیه با هم تعداد برابری دارند؟

پ) وسایل نقلیه‌ی زمینی، آبی و هوایی را نام ببرید.

(۱) وسایل زمینی ←

(۲) وسایل آبی ←

(۳) وسایل هوایی ←

ت) اختلاف تعداد بیشترین وسیله‌ی هوایی با کمترین وسیله‌ی دریایی چقدر است؟

.....

ث) مجموع وسایل هوایی و آبی چه تعدادی است؟

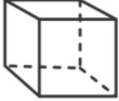

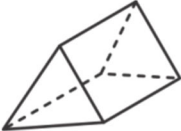







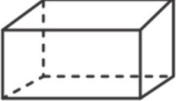





.....

درس: استعداد فضایی سوم دبستان
 طرح سنجش استعداد: مداخله ۴- توصیفی
 زمان برگزاری: هفته چهارم اردیبهشت
 مدت پاسخگویی و انجام فعالیت: ۷۵ دقیقه

علوی

فعالیت ۵

۴۰- هر یک از تصاویر سمت راست شبیه کدام یک از اشکال سمت چپ هستند؟

	(۱ ●)	●		(الف)
	(۲ ●)	●		(ب)
	(۳ ●)	●		(پ)
	(۴ ●)	●		(ت)
	(۵ ●)	●		(ث)
	(۶ ●)	●		(ج)
	(۷ ●)	●		(چ)
	(۸ ●)	●		(ح)