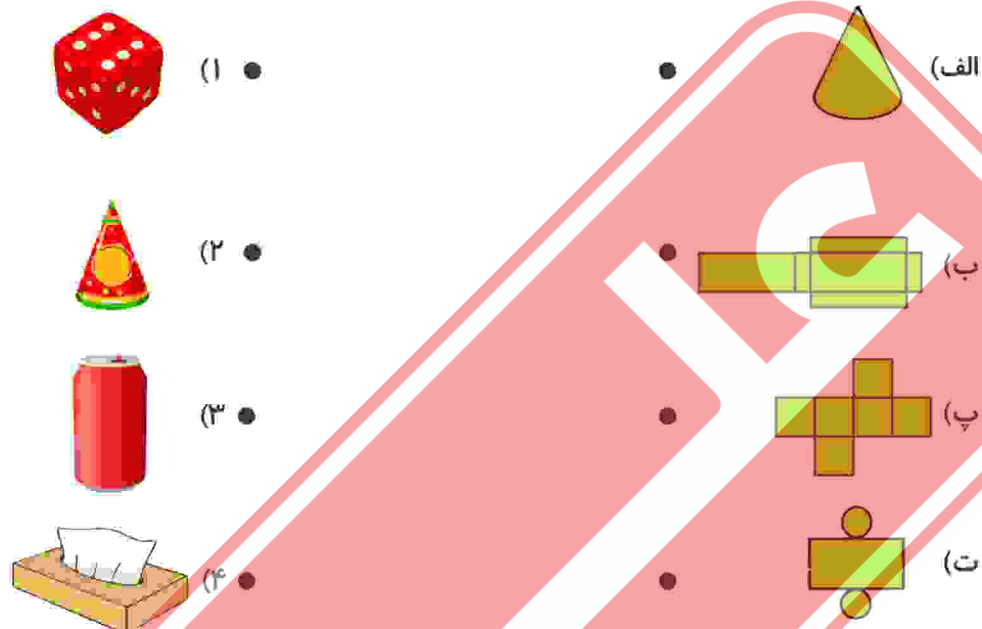


فعالیت‌های استعداد فضایی پایه‌ی ششم

فعالیت ۱

۳۶- هر یک از شکل‌های سمت چپ را به گسترده‌ی آن در سمت راست وصل کنید.

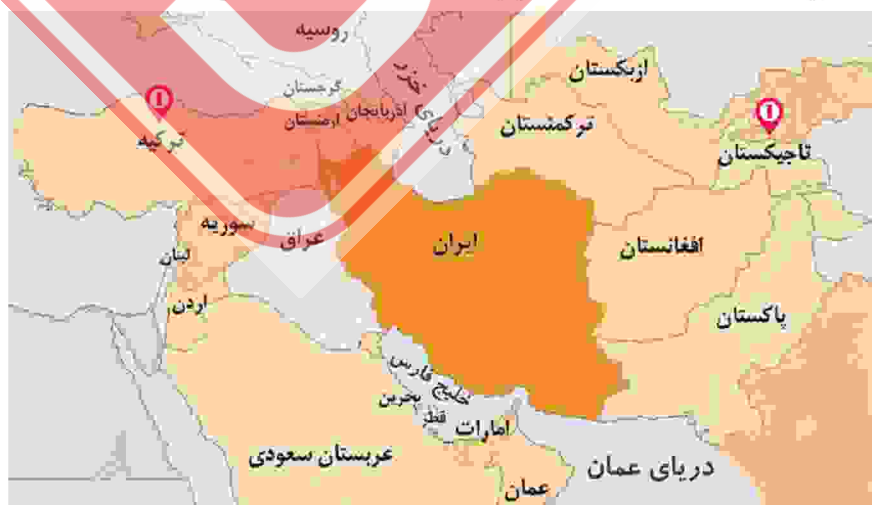


فعالیت ۲

۳۷- پدر شایان تاجر است.

الف) اگر در حال حاضر در کشور تاجیکستان باشد و بخواهد به کشور ترکیه برود، از کدام کشورها باید عبور کند؟
تاجیکستان ← ← ترکیه

ب) کدام کشور از ایران فاصله‌ی کمتری دارد؟
(۱) ازبکستان (۲) تاجیکستان (۳) سوریه (۴) ترکمنستان



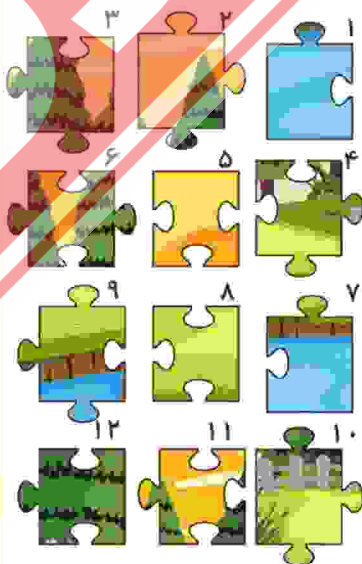

فعالیت ۳

۳۸- هر یک از تصاویر سمت راست را در تصویر سمت چپ پیدا کنید و دور آن خط بکشید. (۸ مورد)



فعالیت ۴

۳۹- با دقت به تصویر داده شده و قطعات پازل آن نگاه کنید. در هر یک از خانه‌های مشخص شده کدام قطعه قرار می‌گیرد؟



- (الف)
- (ب)
- (پ)
- (ت)
- (ث)
- (ج)

فعالیت ۵

۴۰- ارز دیجیتال شکلی از پول است که برخلاف ارزهای رایج، به صورت فیزیکی تولید نمی‌شود و مجازی است و

انواع مختلفی دارد: از جمله بیت کوین، اتریوم، تتر و ...

مادر النا در این زمینه فعالیت می‌کند. او روز شنبه ۱۵ مهر قیمت لحظه‌ای ارزهای دیجیتال را بررسی کرد. طبق جدول داده شده به پرسش‌ها پاسخ دهید.

الف) بیت کوین (Bit coin) چند تومان است؟

ب) طبق نمودار هفتگی، قیمت اتریوم (Ethereum) در هفته کاهش داشته یا افزایش؟

پ) در این جدول کدام ارز از همه ارزان‌تر است؟ قیمت آن چند تومان است؟

ت) اگر مادر النا ۵۰,۰۰۰ تومان داشته باشد، می‌تواند تتر (Tether USDt) بخرد؟ چرا؟

قیمت لحظه‌ای ارزهای دیجیتال

#	ارز دیجیتال	قیمت	قیمت ریالی	حجم بازار	معاملات روزانه	روزانه	هفتگی	نمودار هفتگی
1	بیت کوین Bitcoin	خرید \$27,923.86	۱,۴۰۵,۹۶۶,۱۴۲ تومان	۵۴۴.۹ میلیارد دلار	۱۳.۶۲ میلیارد دلار	1.34%	3.72%	
2	اتریوم Ethereum	خرید \$1,639.42	۸۲,۵۴۴,۷۱۵ تومان	۱۹۷.۹ میلیارد دلار	۴,۹۱۹ میلیارد دلار	0.75%	-1.93%	
3	تتر Tether USDt	خرید \$1.00	۵۰,۳۲۹ تومان	۸۳.۴۰ میلیارد دلار	۱۹.۲۰ میلیارد دلار	0.04%	0.06%	
4	باینس کوین BNB	خرید \$213.63	۱۰,۷۵۶,۴۴۰ تومان	۳۲.۸۶ میلیارد دلار	۲۷۴.۳ میلیون دلار	0.70%	-0.51%	
5	ریپل XRP	خرید \$0.5229	۲۶,۳۲۹ تومان	۲۸.۰۳ میلیارد دلار	۶۸۰.۱ میلیون دلار	0.53%	1.30%	
6	USDC	خرید \$1.00	۵۰,۳۵۴ تومان	۲۵.۵۰ میلیارد دلار	۲,۵۸۵ میلیارد دلار	0.01%	0.00%	
7	Solana	خرید \$23.62	۱,۱۸۹,۰۴۴ تومان	۹,۷۶۵ میلیارد دلار	۴۰۲.۹ میلیون دلار	1.06%	16.70%	