

نام و نام خانوادگی: تاریخ: نام آموزگار:

- ریاضی < فصل ۲: مرور فصل
 علوم < درس ۵: حرکت بدن (۲)
 فارسی < درس ۶ و ۷: سرود ملی (۳)، فرهنگ بومی قرآن < درس ۵: جلسه سوم و چهارم
 مطالعات اجتماعی < درس ۸: راه‌ها و حمل و نقل (۱)
 هدیه‌های آسمان < درس ۷: رنگین کمان جمعه (۲)

ریاضی

کسرهای زیر را ساده کنید.



الف) $\frac{9 \times 4}{16 \times 18} =$

ب) $\frac{5 \times 6 \times 8}{12 \times 4 \times 20} =$

۲ نصف ۱۲ میلیون بیش‌تر است یا ۷ برابر ۸ صد هزار؟



۳ کسرهای را به عدد مخلوط و عددهای مخلوط را به کسر تبدیل کنید.



الف) $\frac{66}{9} =$

ب) $9\frac{7}{8} =$

پ) $\frac{18}{5} =$

ت) $8\frac{1}{6} =$

۴ احمد ۲۰۰۰ تومان و رضا ۸۰۰۰ تومان دارد. احمد $\frac{4}{5}$ و رضا $\frac{5}{9}$ پول خود را خرج کرده‌اند. کدام یک بیش‌تر خرج کرده است؟

۵ عددهای زیر را از کوچک به بزرگ و از چپ به راست مرتب کنید.



$\frac{1}{6}, \frac{2}{2}, \frac{5}{6}, \frac{8}{6}$

علوم

۱ کامل کنید.

الف) هنگام ضربه زدن به توپ با بالا آمدن پا، ماهیچه‌های جلویی ران، می‌شوند.
ب) ماهیچه‌های معده به‌طور کار می‌کنند.

۲ مفاهیم زیر را تعریف کنید.

الف) عصب:

ب) مفصل:

پ) غضروف:

۳ ماهیچه‌ها در انجام چه کارهایی به ما کمک می‌کنند؟

۴ وظایف استخوان‌ها را در بدن بنویسید.

فارسی

۱ معنی کلمه‌های زیر را بنویسید.

<input type="text"/>	← سرشته	<input type="text"/>	← دَرّ	<input type="text"/>	← پر گهر
<input type="text"/>	← ایزد	<input type="text"/>	← نپرورم	<input type="text"/>	← خاره

۲ شعر زیر را تکمیل کنید.

خوشا مرز ایران و سیم

زمینش

به باغ اندرون

همه

۳ در جاهای خالی حرف ربط یا اضافه‌ی مناسب بنویسید.

قهرمان، دست‌های خود بالا برد و

احساسات مردمی در ورزشگاه بودند پاسخ داد.

۴ برای کلمه‌های داده شده، دو هم‌خانواده بنویسید.

.....
.....

جاودان ←


.....
.....

موافق ←

مطالعات اجتماعی

۱ چند مورد از نکات ایمنی در جاده‌ها را نام ببرید.

۲ تصاویر مربوط به وسایل حمل و نقل درون شهری را علامت بزنید.



۳ کالاهایی که به گیلان وارد و از آن صادر می‌شود را از انتهای کتاب جدا کرده و در جای مناسب بچسبانید.

.....



کالاهای وارداتی

.....



کالاهای صادراتی

هدیه‌های آسمان - قرآن





جاهای خالی را با کلمه‌ی مناسب پر کنید.





نماز جمعه رکعت است. به کسی که نماز جمعه را برای مردم می‌خواند می‌گویند. قبل از خواندن نماز جمعه می‌خوانند. در رکعت اول بعد از حمد و سوره را انجام می‌دهند. در رکعت دوم بعد از می‌ایستند و را انجام می‌دهند.

مراحل غسل را به ترتیب بنویسید.

کلمات هم‌معنی را هم رنگ کنید.

غُلام	عَمَل	جَنَّة	ءامَنَ
بهشت	ایمان آورد	پسر	انجام داد

	آشنایی با وظایف استخوان
	شناخت حروف ربط
	آشنایی با نکات ایمنی
	آشنایی با مراحل غسل

	توانایی ساده کردن کسرها
	تشخیص ارزش مکانی اعداد
	تبدیل اعداد مرکب
	شناخت حرکات ماهیچه‌های بدن

شاخص‌ها

-  خیلی خوب
-  خوب
-  قابل قبول
-  نیاز به تلاش بیشتر