

# ارمغان هفته - پنجم دبستان

شماره‌ی

۱۲

نام و نام خانوادگی: ..... تاریخ: ..... نام آموزگار: .....

مطالعات اجتماعی < دوره مباحث

هدیه‌های آسمان < دوره مباحث

قرآن < دوره مباحث

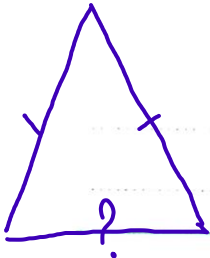
ریاضی < دوره مباحث

علوم < دوره مباحث

فارسی < دوره مباحث

## ریاضی

۱ محیط مثلث متساوی الساقین  $\frac{1}{4}$  است. اگر اندازه‌ی یکی از ساق‌ها  $1\frac{2}{3}$  باشد، اندازه‌ی ضلع سوم را بیابید.



مثلث متساوی الساقین سه اندازه‌ی دو ضلع کنار هم برابر است.

$$1\frac{2}{3} \times 2 = \frac{5}{3} \times 2 = \frac{10}{3} = 3\frac{1}{3}$$

مجموع دو ساق:  $1\frac{2}{3} \times 2 = \frac{5}{3} \times 2 = \frac{10}{3} = 3\frac{1}{3}$

با توجه به عدد ۳۹۰۰۸۷۶۹۳۵ به سوالات زیر پاسخ دهید:

الف) عدد را به حروف بنویسید. **سه میلیارد و هشتصد و هشتاد و نه هزار و صد و بیست و پنج**

ب) ارزش مکانی کدام رقم بیش تر است؟ **سه در یکان میلیارد**

پ) اگر عدد را بر ۱۰ تقسیم کنیم، ارزش مکانی رقم ۶ چه تغییری می‌کند؟ **دهگان یکی‌ها**

د) رقم کمتری شود

۳ جمع و تفریق زیر را انجام دهید.

$$\begin{array}{r} 3 \ 15' \ 33'' \\ + 7 \ 50' \ 55'' \\ \hline 10 \ 65' \ 88'' \\ + 1 \ 00'' \\ \hline 11 \ 66' \ 88'' \end{array}$$

$$\begin{array}{r} 10 \ 65' \ 88'' \\ + 1 \ 00'' \\ \hline 11 \ 66' \ 88'' \end{array}$$

$$\begin{array}{r} 10 \ 65' \ 88'' \\ + 1 \ 00'' \\ \hline 11 \ 66' \ 88'' \end{array}$$

$$\begin{array}{r} 10 \ 65' \ 88'' \\ + 1 \ 00'' \\ \hline 11 \ 66' \ 88'' \end{array}$$

$$\begin{array}{r} 10 \ 65' \ 88'' \\ + 1 \ 00'' \\ \hline 11 \ 66' \ 88'' \end{array}$$

$$\begin{array}{r} 10 \ 65' \ 88'' \\ + 1 \ 00'' \\ \hline 11 \ 66' \ 88'' \end{array}$$

$$\begin{array}{r} 10 \ 65' \ 88'' \\ + 1 \ 00'' \\ \hline 11 \ 66' \ 88'' \end{array}$$

$$\begin{array}{r} 10 \ 65' \ 88'' \\ + 1 \ 00'' \\ \hline 11 \ 66' \ 88'' \end{array}$$

$$\begin{array}{r} 10 \ 65' \ 88'' \\ + 1 \ 00'' \\ \hline 11 \ 66' \ 88'' \end{array}$$

$$\begin{array}{r} 10 \ 65' \ 88'' \\ + 1 \ 00'' \\ \hline 11 \ 66' \ 88'' \end{array}$$

$$\begin{array}{r} 10 \ 65' \ 88'' \\ + 1 \ 00'' \\ \hline 11 \ 66' \ 88'' \end{array}$$

$$\begin{array}{r} 10 \ 65' \ 88'' \\ + 1 \ 00'' \\ \hline 11 \ 66' \ 88'' \end{array}$$

$$\begin{array}{r} 10 \ 65' \ 88'' \\ + 1 \ 00'' \\ \hline 11 \ 66' \ 88'' \end{array}$$

$$\begin{array}{r} 10 \ 65' \ 88'' \\ + 1 \ 00'' \\ \hline 11 \ 66' \ 88'' \end{array}$$

$$\begin{array}{r} 10 \ 65' \ 88'' \\ + 1 \ 00'' \\ \hline 11 \ 66' \ 88'' \end{array}$$

$$\begin{array}{r} 10 \ 65' \ 88'' \\ + 1 \ 00'' \\ \hline 11 \ 66' \ 88'' \end{array}$$

$$\begin{array}{r} 10 \ 65' \ 88'' \\ + 1 \ 00'' \\ \hline 11 \ 66' \ 88'' \end{array}$$

$$\begin{array}{r} 10 \ 65' \ 88'' \\ + 1 \ 00'' \\ \hline 11 \ 66' \ 88'' \end{array}$$

$$\begin{array}{r} 10 \ 65' \ 88'' \\ + 1 \ 00'' \\ \hline 11 \ 66' \ 88'' \end{array}$$

$$\begin{array}{r} 10 \ 65' \ 88'' \\ + 1 \ 00'' \\ \hline 11 \ 66' \ 88'' \end{array}$$


$$\begin{array}{r} 10 \ 65' \ 88'' \\ + 1 \ 00'' \\ \hline 11 \ 66' \ 88'' \end{array}$$

۳۱ و ۲۵ و ۱۹ و ۱۳ و ۷  
+۹ +۹ +۹ +۹

در الگو مقابل، عدد ۳۰۱ چندمین عدد است؟

$$(50 \times 6) + 1 = 301$$

۵ کشاورزی در خمس زمین خود ۳۰ درخت کاشته است. این کشاورز در کل زمین خود چند درخت کاشته است؟ ثلث درخت‌های این کشاورز چند درخت خواهد شد؟



۳۰ درخت در کل زمین کاشته است.

$$30 \times 5 = 150$$

درخت ۱۵۰ ÷ ۳ = ۵۰



## علوم

تغییر شیمیایی چه نوع تغییری است؟

تغییری که در آن ماهیت ماده عوض شود. در این تغییر معمولاً رنگ، بو و مزه تغییر می کنند.

۲ در یک کاوش علمی، طرح پرسش بعد از کدام مرحله صورت می گیرد؟

(۴) آزمایش

(۳) نظریه سازی

(۲) فرضیه سازی

(۱) مشاهده

۳ در زمان فرود آمدن فرفره کدام عامل مؤثر است؟

(۴) هر سه مورد

(۳) وزن

(۲) باد

(۱) جنس فرفره

۴ هر یک از فسیل‌ها در چه آب و هوایی یافت می شوند؟ وصل کنید.

محیط گرم و خشک دارای آب زیرزمینی

محیط‌هایی با آب و هوای گرم و مرطوب



۵ برجسب اندام مربوط به هر ستون را در جدول بچسبانید.

ماهیچه مخطط (ارادی)

ماهیچه صاف (غیر ارادی)

دست و پا لب

فری - معده

## فارسی

۱ صداهای زیر را در جدول دسته بندی کنید.

«شرشر باران - درس معلم - صحبت‌های مادر - بوق ماشین»

شنیدنی‌ها


شرشر باران - بوق ماشین

گوش دادنی‌ها

درس معلم - صحبت‌های مادر



۲ کلمات هم معنی را به هم وصل کنید.



۳ هر کدام از کلمه‌های زیر را با «بن» ترکیب کنید و کلمه‌ی مرکب جدید بسازید.

(خار - بید - چنار)

خاربن      بیدبن      چناربن

۴ معنی بیت زیر را ساده و روان بنویسید.

اجزای مرده به تأثیر آفتاب بستان میوه چمن و لاله‌زار کرد  
به خاطر تابش نور خورشید، خاک خشک و بی‌روح جان گرفت و به بوستان میوه و چمن و لاله‌زار تبدیل شد.

۵ برای هر کدام از واژگان زیر یک کلمه‌ی هم‌آهنگ بنویسید.

دلگشای      سرای      دانا      توانا      شکوه      کوه

مطالعات اجتماعی

۱- تقسیم وظایف      ۲- وضع قوانین و مقررات      ۳- تصمیم‌گیری‌ها

۲ پاسخ صحیح را علامت بزنید.

الف) کدام ترس نابه‌جا است؟

۱) ترس از حیوانات موزی      ۲) ترس از آمپول      ۳) ترس از ارتفاع      ۴) ترس از صدای مهیب

ب) چه محصولاتی از گیلان صادر می‌شود؟

۱) نفت - خرما      ۲) خرما - زعفران      ۳) نفت - زیتون      ۴) برنج - زیتون

۳ هر چه رودها به دهانه‌ی خود نزدیک می‌شوند، سرعت آب ..... می‌شود و رودها ..... می‌شوند.

۱) کم‌تر، باریک‌تر      ۲) بیش‌تر، باریک‌تر      ۳) کم‌تر، پهن‌تر      ۴) بیش‌تر، پهن‌تر

فرش - قالی بافی

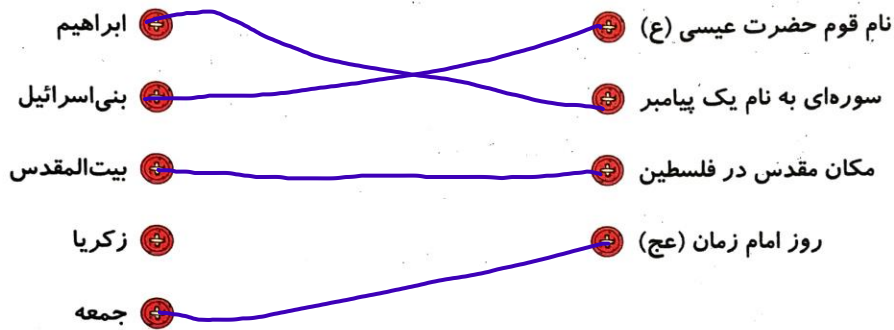
صنایع مصرفی

آهن - پتروشیمی

صنایع مادر

### هدیه‌های آسمان - قرآن

موارد مرتبط را به هم وصل کنید. (یک مورد اضافی است.)



کلمات هم معنی را مانند هم رنگ کنید.

بپردازید	ءامن	انجام دادند	کارهای خوب	ءاتوا	مُحْسِنِينَ
پیامبران	صالحات	رُسل	نیکوکاران	عَمِلُوا	ایمان آورد

- ◀ آشنایی با انواع صداها
- ◀ شناخت ترکیب وصفی و اضافی
- ◀ تفاوت خوب گوش کردن و شنیدن
- ◀ مفهوم شورا
- ◀ شناخت پیامبران و معنی کلمات

- ◀ حل مسائل با مفاهیم محیط، کسر و جرم
- ◀ الگویابی
- ◀ عدد نویسی و مفهوم ارزش مکانی
- ◀ شناخت عدسی، منشور و فسیل
- ◀ شناخت ماهیچه‌های ارادی و غیر ارادی

- شاخص‌ها**
- خوبی خوب
  - خوب
  - قابل قبول
  - نیاز به تلاش بیشتر