

طرح سنجش استعداد مداد قرمز ۳- توصیفی
مدت پاسخگویی و انجام فعالیت: ۴۵ دقیقه

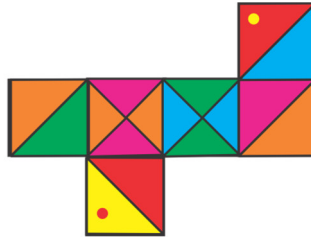
درس: استعداد فضایی پنجم دبستان
زمان برگزاری: هفته دوم اسفند

علوی

فعالیت‌های استعداد فضایی پایه‌ی پنجم

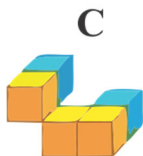
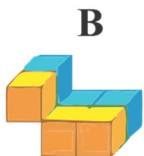
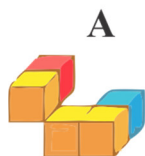
فعالیت ۱

۳۶- اگر گسترده‌ی زیر را ببندیم، کدام مکعب حاصل می‌شود؟



فعالیت ۲

۳۷- کدام قطعه شکل را کامل می‌کند؟



فعالیت ۳

۳۸- در یک آموزشگاه زبان، تعداد دانش‌آموزان زبان‌های مختلف، در یک نمودار دایره‌ای آورده شده است. هر رنگ، نشان

دهنده‌ی زبان خاصی است که در سمت راست مشخص می‌باشد. طبق رنگ‌ها و نمودار، به پرسش‌ها پاسخ دهید.



الف) تمایل دانش‌آموزان بیشتر به یادگیری کدام زبان است؟

ب) کدام زبان، تعداد دانش‌آموز کمتری دارد؟

پ) اگر از تعداد زیاد به تعداد کم، دانش‌آموزان زبان‌های مختلف

را بنویسیم، در رتبه‌ی دوم، کدام زبان می‌آید؟

ت) زبان فرانسه تعداد دانش‌آموز بیشتری دارد یا هندی؟

فعالیت ۴

۳۹- با توجه به نقشه‌ی استان ایلام و راهنمای آن به پرسش‌ها پاسخ دهید.



الف) مرکز این استان کدام است؟

ب) مرکز شهرستان دهلران چه نام دارد؟

پ) دو شهرستان کنار کشور عراق را نام ببرید.

ت) بین دره‌شهر و لرستان چه حدی وجود دارد؟

ث) در راهنمای نقشه ----- نشان دهنده‌ی چیست؟

طرح سنجش استعداد مداد قرمز ۳- توصیفی
مدت پاسخگویی و انجام فعالیت: ۴۵ دقیقه

درس: استعداد فضایی پنجم دبستان
زمان برگزاری: هفته دوم اسفند

علوی

فعالیت ۵

۴۰- با استفاده از قیچی، تصویر داده شده را از برگه جدا کنید و سپس از روی نقطه چین‌ها تا کنید و به کمک چسب و با خلاقیت خود، آن را به یک کاردستی زیبا تبدیل کنید.

