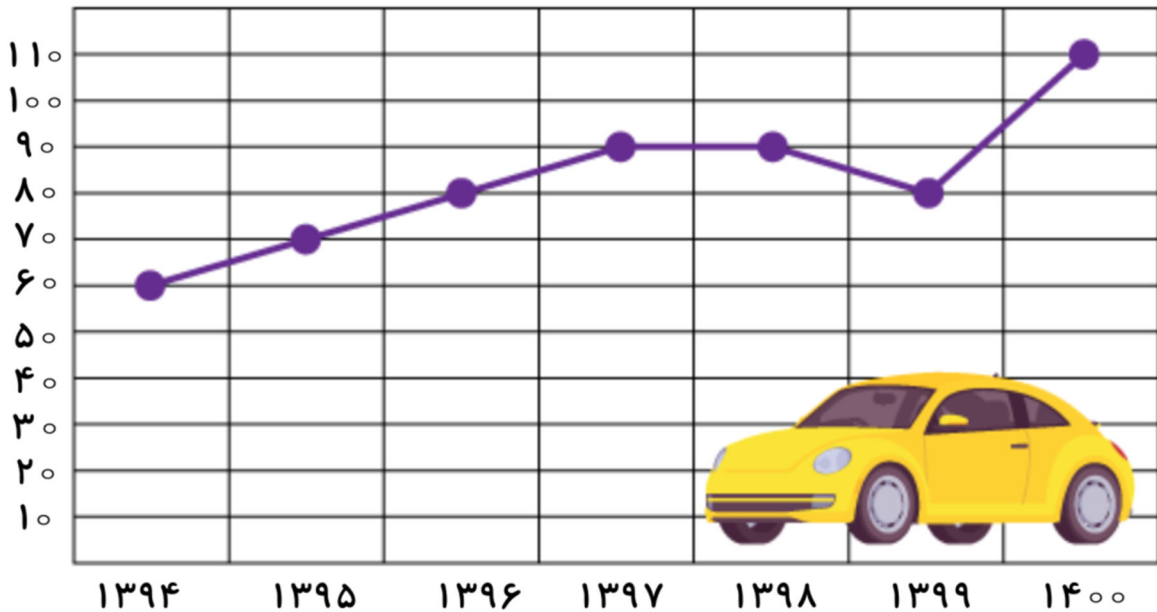


فعالیت‌های استعداد فضایی پایه‌ی پنجم

فعالیت ۱

۵۶- با توجه به نمودار تعداد فروش اتومبیل در یک نمایشگاه خودرو، به پرسش‌های داده شده پاسخ دهید.



الف) در نمودار داده شده تعداد فروش اتومبیل در چند سال نمایش داده شده است؟

ب) بیشترین و کمترین تعداد فروش در چه سال‌هایی و به چه تعداد صورت گرفته است؟

(۱) بیشترین در سال: - تعداد اتومبیل فروخته شده:

(۲) کمترین در سال: - تعداد اتومبیل فروخته شده:

پ) در کدام سال‌ها تعداد فروش اتومبیل یکسان بوده است؟

(۱) و (۲) و


ت) در سال ۱۳۹۷ چه تعداد ماشین بیشتر از سال ۱۳۹۵ فروخته شده است؟

درس: استعداد فضایی پنجم دبستان
 طرح سنجش استعداد مداد قرمز ۴ - توصیفی
 زمان برگزاری: هفته چهارم اردیبهشت مدت پاسخگویی و انجام فعالیت: ۷۵ دقیقه

علوی

فعالیت ۲

۵۷- به تصویر سمت راست و قطعات پازل با دقت نگاه کنید. در هر یک از خانه‌های مشخص شده کدام قطعه قرار می‌گیرد؟

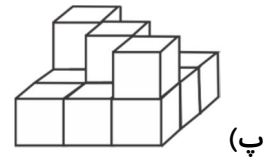
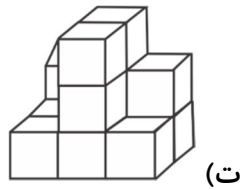
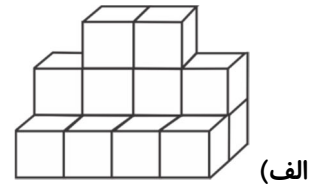
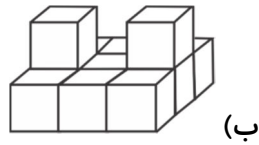


	الف	
	ب	
ت		پ

- (الف)
- (ب)
- (پ)
- (ت)

فعالیت ۳

۵۸- در هر یک از اشکال داده شده چند مکعب وجود دارد؟



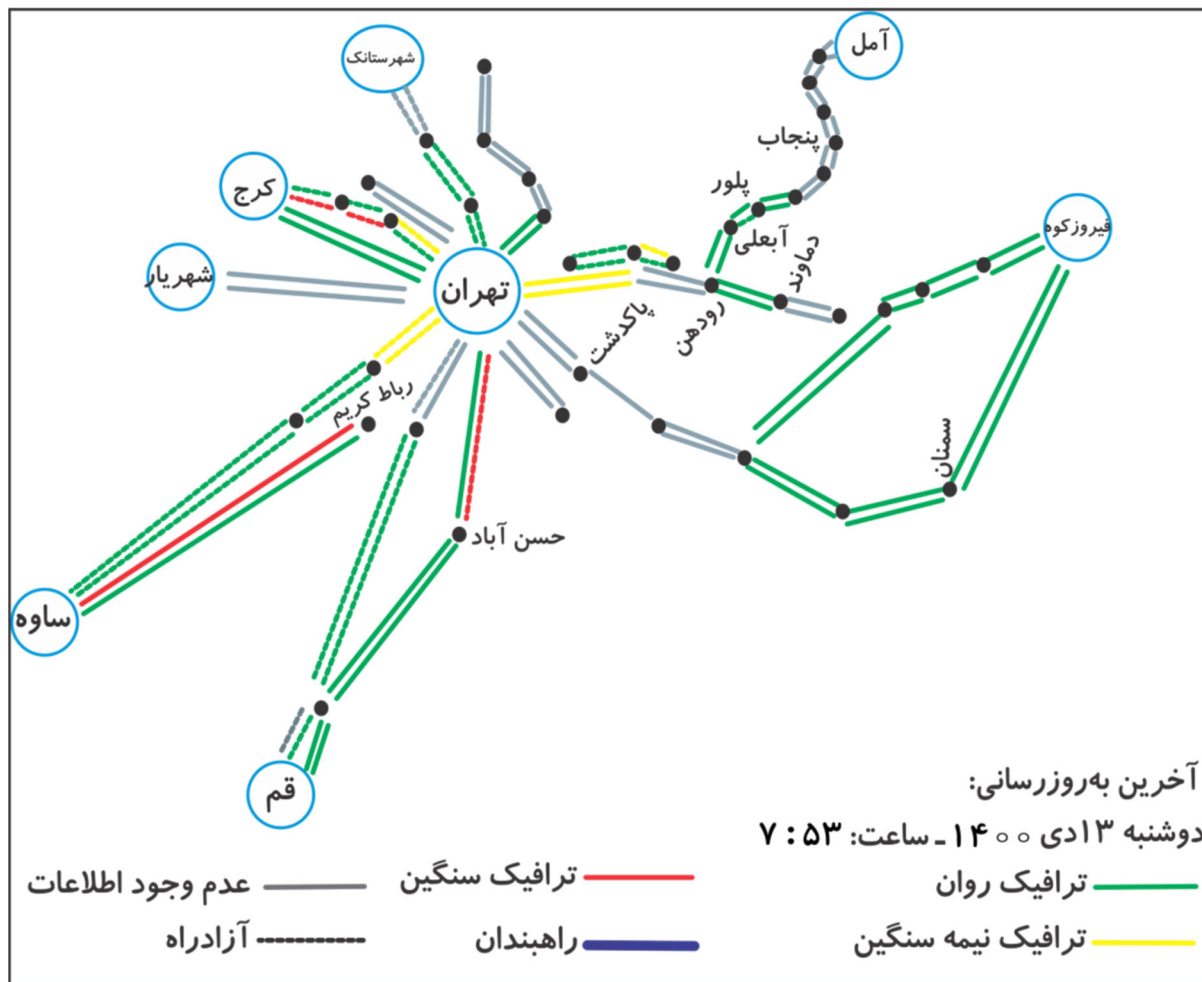
- (الف)
- (ب)
- (پ)
- (ت)

درس: استعداد فضایی پنجم دبستان
 طرح سنجش استعداد مداد قرمز ۴ - توصیفی
 زمان برگزاری: هفته چهارم اردیبهشت
 مدت پاسخگویی و انجام فعالیت: ۷۵ دقیقه

علوی

فعالیت ۴

۵۹- به نقشه‌ی ترافیکی با مرکزیت استان تهران توجه کنید. سپس به پرسش‌های داده شده پاسخ دهید.



الف) با توجه به راهنمای نقشه، آخرین به روز رسانی در چه زمانی صورت گرفته است؟

(۱) روز: (۲) ماه: (۳) سال: (۴) ساعت:

ب) هر یک از رنگ‌های داده شده در راهنمای نقشه بیانگر چه وضعیتی از ترافیک است؟

(۱) سبز: (۲) مشکی (آبی تیره):

(۳) زرد: (۴) قرمز:

پ) بین کدام دو شهر ترافیک سنگین وجود دارد؟ (فقط در یک مسیر)

(۱) تهران - پاکدشت (۲) رباط کریم - ساوه

(۳) سمنان - فیروزکوه (۴) تهران - شهریار

ت) کدام یک از شهرهای (مناطق) داده شده در مسیر رودهن به آمل نیست؟

(۱) آبعلی (۲) پلور

(۳) پنجاب (۴) دماوند

درس: استعداد فضایی پنجم دبستان
طرح سنجش استعداد مداد قرمز ۴ - توصیفی
زمان برگزاری: هفته چهارم اردیبهشت مدت پاسخگویی و انجام فعالیت: ۷۵ دقیقه

علوی

فعالیت ۵

۶۰- به تصویر داده شده با دقت نگاه کنید. از هر شکل چند تا می بینید؟

راهنمایی: در شمارش اشکال، به شکل های به وجود آمده از روی هم افتادن اشکال توجه کنید.

مثلث ←

مربع ←

دایره ←

