

طرح سنجش استعداد: مداد قرمز ۱ - توصیفی  
مدت پاسخگویی و انجام فعالیت: ۴۵ دقیقه

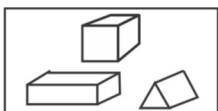
درس: استعداد فضایی چهارم دبستان  
زمان برگزاری: هفته سوم آبان

علوی

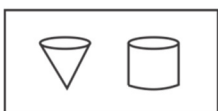
### فعالیت‌های استعداد فضایی پایه‌ی چهارم

#### فعالیت ۱

۳۶- هر یک از تصاویر سمت راست، از ترکیب کدام مجموعه شکل‌های سمت چپ تشکیل شده است؟ وصل کنید.



(۱) •



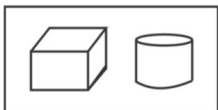
(۲) •



(۴) •



(۴) •



(۵) •



(الف) •



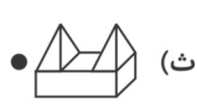
(ب) •



(پ) •




(ت) •



(ث) •

#### فعالیت ۲

۳۷- زنبور را از بهترین مسیر به گل برسانید.



طرح سنجش استعداد: مداد قرمز ۱ - توصیفی  
مدت پاسخگویی و انجام فعالیت: ۴۵ دقیقه

درس: استعداد فضایی چهارم دبستان  
زمان برگزاری: هفته سوم آبان

## علوی



### فعالیت ۳

۳۸- هر یک از تصاویر سمت راست را در تصویر سمت چپ پیدا کنید و دور آن خط بکشید. (۴ مورد)



### فعالیت ۴

۳۹- با دقت به تصویر داده شده و قطعات پازل آن نگاه کنید. در هر یک از خانه‌های مشخص شده کدام قطعه قرار می‌گیرد؟



الف) ..... (ب) ..... (پ) ..... (ت) ..... (ث) ..... (ج) .....

طرح سنجش استعداد: مداد قرمز ۱ - توصیفی  
مدت پاسخگویی و انجام فعالیت: ۴۵ دقیقه

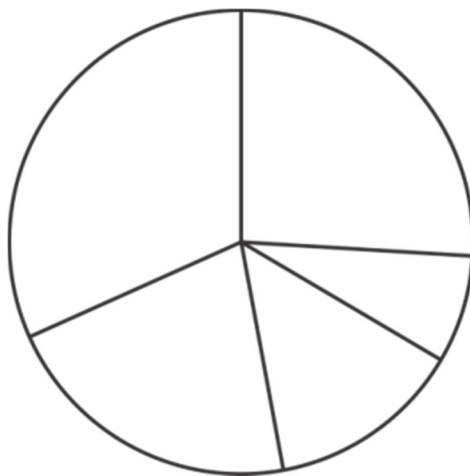
درس: استعداد فضایی چهارم دبستان  
زمان برگزاری: هفته سوم آبان


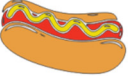

# علوی

## فعالیت ۵

۴۰- رستورانی تصمیم دارد تا بهترین غذای خود را انتخاب کند. او از ۹۵ نفر از مشتریان در مورد ۵ غذای پرفروش خود نظرسنجی کرد. اگر ۲۵ نفر برگر، ۳۰ نفر هات داگ، ۱۳ نفر پیتزا، ۲۰ نفر مرغ سوخاری و ۷ نفر ساندویچ تست را انتخاب کرده باشند، نمودار دایره‌ای زیر را تکمیل کرده سپس طبق نمونه جدول را طبق تعداد افراد کامل کرده و به پرسش زیر پاسخ دهید.

الف) از بین این ۵ غذا، غذای مورد علاقه‌ی شما کدام است؟ .....



غذا	تعداد افراد
	
	
	<input type="checkbox"/> <input type="checkbox"/> <input type="checkbox"/>
