

طرح سنجش استعداد: مدارمزا ۱ - توصیفی
مدت پاسخگویی و انجام فعالیت: ۴۵ دقیقه

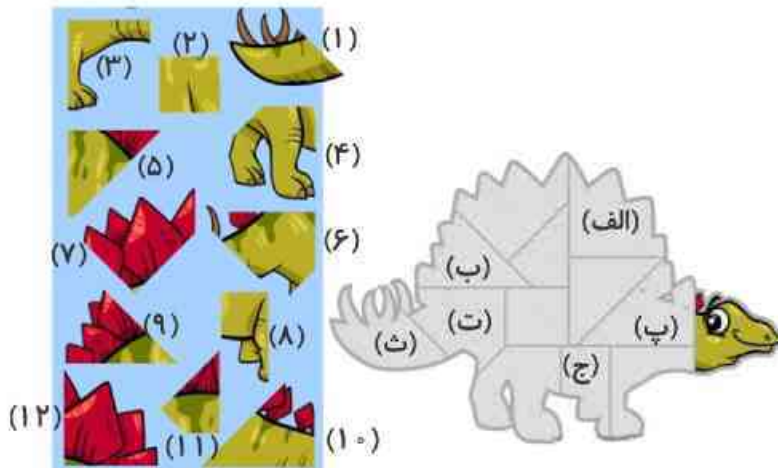
درس: استعداد فضایی چهارم دبستان
زمان برگزاری: هفته سوم آبان

علوی

فعالیت‌های استعداد فضایی پایه‌ی چهارم

فعالیت ۱

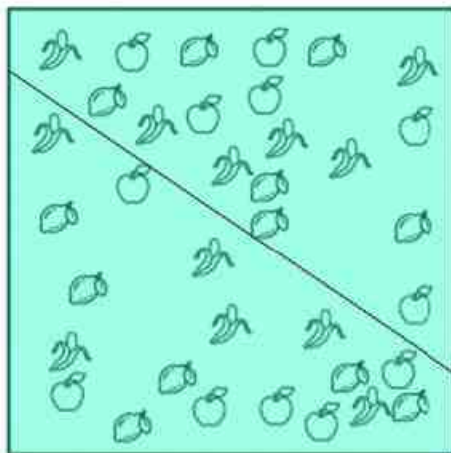
۳۶- به تصویر داده شده و قطعات پازل توجه کنید. در خانه‌های مشخص شده، کدام قطعه قرار می‌گیرد؟



- (الف)
- (ب)
- (پ)
- (ت)
- (ث)
- (ج)

فعالیت ۲

۳۷- آیا می‌توانید با کشیدن فقط دو خط صاف دیگر، این مربع را به شش قسمت تقسیم کنید، به طوری که هر قسمت شامل دو سیب، دو لیمو و دو موز باشد؟



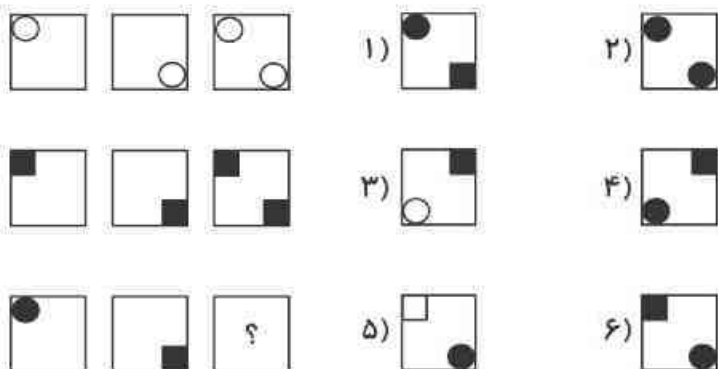
طرح سنجش استعداد: مدادقرمز ۱ - توصیفی
مدت پاسخگویی و انجام فعالیت: ۴۵ دقیقه

درس: استعداد فضایی چهارم دبستان
زمان برگزاری: هفته سوم آبان

علوی

فعالیت ۳

۳۸- در کادر زیر سه ردیف مربع مشاهده می کنید، به نظر شما جای خالی با کدام مربع کامل خواهد شد؟



فعالیت ۴

۳۹- در نمودار زیر، قیمت دلار از سال ۸۸ تا ۹۹ آورده شده است.



الف) در چه سالهایی افزایش ناگهانی قیمت دلار وجود نداشته است؟

۹۵ تا ۹۹ (۴)

۹۶ تا ۹۹ (۳)

۸۸ تا ۹۶ (۲)

۸۸ تا ۹۸ (۱)

ب) در کدام سالها قیمت دلار بین ۳ و ۴ هزار تومان بوده است؟

پ) تفاوت قیمت دلار بین سالهای ۹۴ و ۹۹ چند تومان بوده است؟

ت) با توجه به روند افزایش قیمت دلار، فکر می کنید در سال ۱۴۰۰ قیمت دلار افزایش یا کاهش داشته است؟

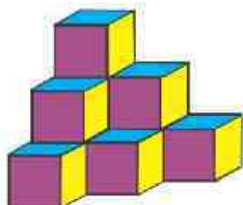
طرح سنجش استعداد: مدار قرمز ۱ - توصیفی
مدت پاسخگویی و انجام فعالیت: ۴۵ دقیقه

درس: استعداد فضایی چهارم دبستان
زمان برگزاری: هفته سوم آبان

علوی

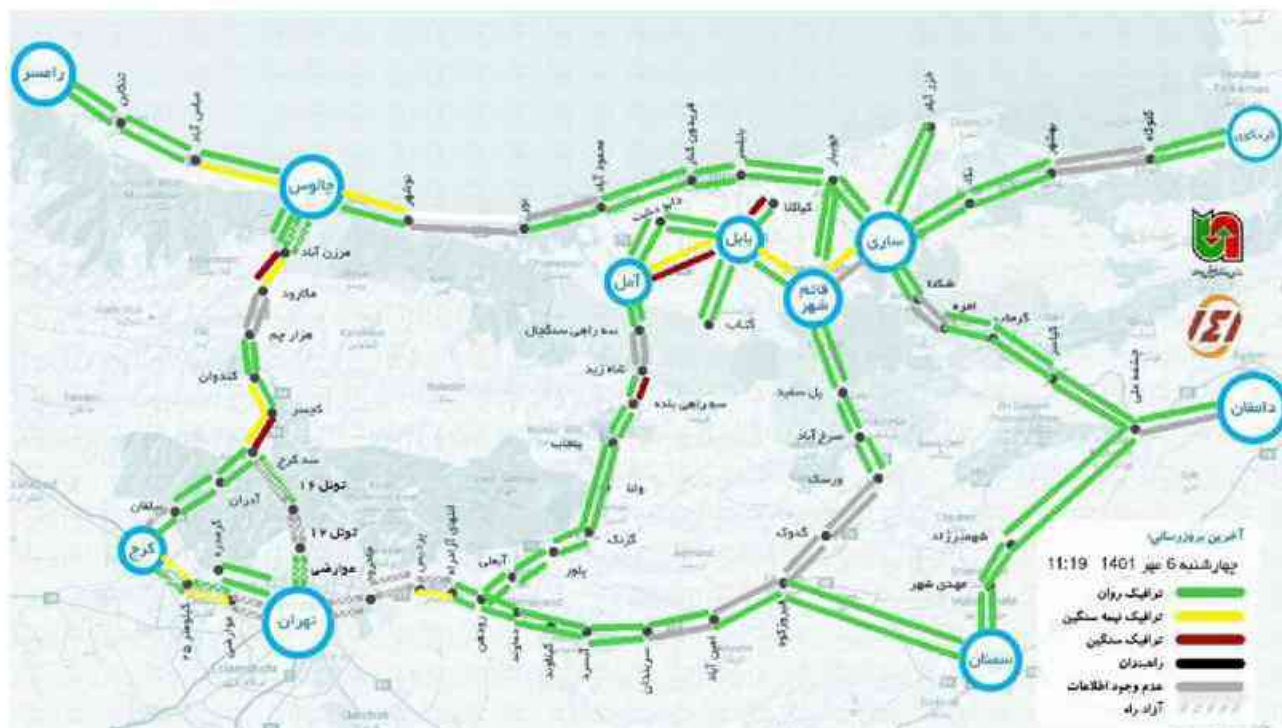
فعالیت ۵

۴۰- چند مکعب در تصویر می بینید؟



فعالیت ۶

۴۱- با توجه به نقشه‌ی ترافیکی مازندران به پرسش‌ها پاسخ دهید.



الف) آخرین به روز رسانی در چه زمانی بوده است؟

چهارشنبه - روز: ماه: سال: ساعت:

ب) رنگ سبز و قرمز نشانه‌ی چیست؟

پ) بین کدام یک از مسیرهای زیر ترافیک سنگین و نیمه سنگین است؟

۱) ساری - قائم شهر ۲) بابل - آمل ۳) چالوس - نوشهر ۴) بابل - قائم شهر

ت) کدام یک از شهرهای زیر، به ساری نزدیک تر است؟

۱) بابل ۲) چالوس ۳) تهران ۴) قائم شهر