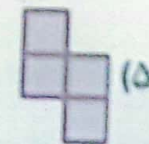

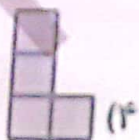
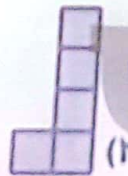


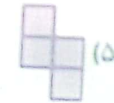

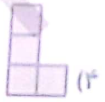
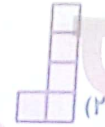

بِسْمِ اللّٰهِ الرَّحْمٰنِ الرَّحِیْمِ

Book Estadad Tahili 4 (00.02.11)_Compressed.pdf - Read-only


۵. با استفاده از کدام یک از آجرها می توان شکل زیر را ساخت؟ (می توان آجرها را چرخاند یا پشت و رو کرد، اما نباید روی هم قرار بگیرند.)



۵. با استفاده از کدام یک از آجرها می توان شکل زیر را ساخت؟ (می توان آجرها را چرخاند یا پشت و رو کرد، اما نباید روی هم قرار بگیرند.)



۶. کیلومترشمار یک ماشین عدد ۱۸۷۵۶۹ را نشان می‌دهد که یعنی ماشین ۱۸۷۵۶۹ کیلومتر راه رفته است. همه‌ی رقم‌های این عدد متفاوت هستند. بعد از چند کیلومتر دیگر باز هم کیلومترشمار عددی را نشان می‌دهد که همه‌ی رقم‌هایش متفاوت هستند؟



- (۱) بعد از ۳۱ کیلومتر
- (۲) بعد از ۳۱۱ کیلومتر
- (۳) بعد از ۳۱۱۱ کیلومتر
- (۴) بعد از ۳۱۱۱۱ کیلومتر

- (۱) بعد از ۷۷۷ کیلومتر
- (۲) بعد از ۴۳۱ کیلومتر
- (۳) بعد از ۱۱۱ کیلومتر

۷. تام، سنگ آبی، می‌خواهد گنج را که تحت حفاظت روباه‌های در آن، گنج با ستاره‌ی آبی و پایگاه‌های روباه‌ها، حفارهای کناری پایگاه‌هاشان را بسازند.

۱۰



۷. نام، سنگ آبی، می خواهد گنج را که تحت حفاظت روباه های شرور است، به دست آورد. او نقشه ای دارد که در آن، گنج با ستاره ی آبی و پایگاه های روباه ها با مثلث های سبز علامت گذاری شده اند. روباه ها می توانند خانه های کناری پایگاه های شان را ببینند.

مسئله: اگر نام نخواهد روباه ها متوجهش شوند، از خانه ی قرمز کدام مسیر باید بزود؟

مخففها: D: پایین، U: بالا، R: راست، L: چپ

تعداد گام های هر جهت، بعد از علامت جهت نوشته شده است.

$R_7 U_5 R_7 D_1$ (1)

$U_7 R_1 U_7 R_1 U_7 R_7 D_7$ (2)

$R_1 U_6 R_5 D_7$ (3)

$R_6 U_5$ (4)



خدمت‌ی کناری پایگاه‌هایشان را ببینند.

مسئله: اگر تام نخواهد روباه‌ها متوجهش شوند، از خانه‌ی قرمز کدام مسیر باید برود؟

مخفف‌ها: D: پایین، U: بالا، R: راست، L: چپ

تعداد گام‌های هر جهت، بعد از علامت جهت نوشته شده است.

$$R_2 U_5 R_3 D_1 \quad (1)$$

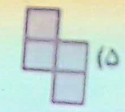
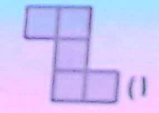

$$U_2 R_1 U_2 R_1 U_2 R_3 D_2 \quad (2)$$

$$R_1 U_6 R_5 D_2 \quad (3)$$

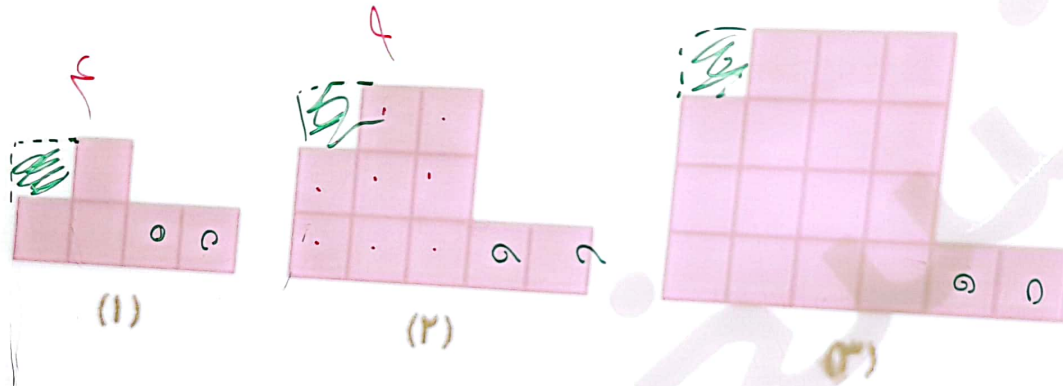
$$R_6 U_5 \quad (4)$$



۵. با استفاده از کدام یک از آجرها می توان شکل زیر را ساخت؟ (می توان آجرها را چرخاند یا پشت و رو کرد، اما نباید روی هم قرار بگیرند.)



۱. به الگوی زیر توجه کنید:



الف) شکل چهارم و پنجم این الگو را رسم کنید.

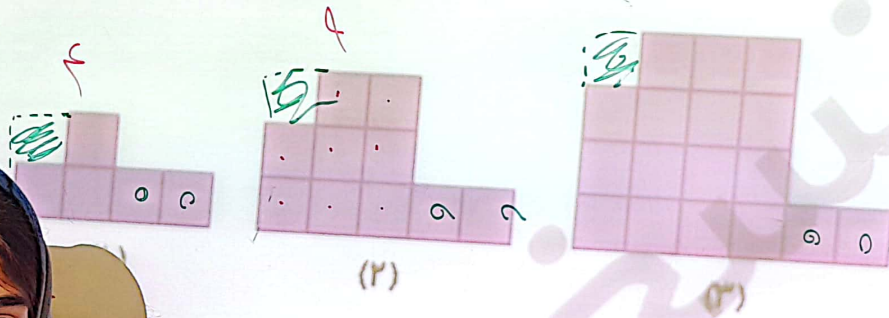
$$(1 \times 2) + 1$$

$$(2 \times 2) + 1$$

$$(3 \times 2) + 1$$

اسان	هوش بصري	A
------	----------	---

الف) الگوی زیر توجه کنید:




الف) شکل چهارم و پنجم این الگو را رسم کنید.

$$(4) = 1 + 2 =$$

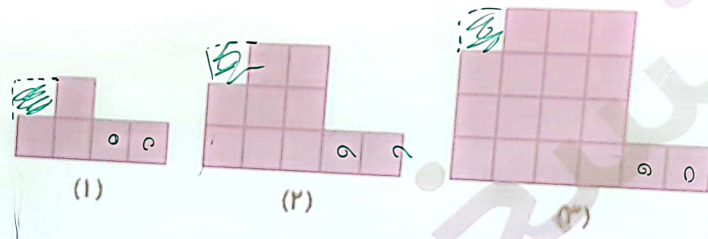
$$+ 1$$

$$(2 \times 3) + 1$$



آسان	هوش منبری	A
------	-----------	---

۱. به الگوی زیر توجه کنید:



الف) شکل چهارم و پنجم این الگو را رسم کنید.

