


نقاش کوپولهی من:

به اطراف و دور و بر خودت نگاه کن، انگار همه چیز عوض شده است. ننه سرما کولهبارش را برداشته و باید خداحافظی کند و جای خودش را به عمو نوروز بدهد. بله! بهار آمده و با خودش نوروز را آورده است. ما خانواده‌های ایرانی، این روزها خندان و شاد هستیم و می‌خواهیم با هم، آمدن نوروز را جشن بگیریم و اولین روز سال را به هم تبریک بگوییم. لحظه‌ی شروع سال نو، یک سفره پهن می‌کنیم و در آن چیزهایی می‌گذاریم که با نشانه‌ی «س» شروع می‌شود. مانند: سیب، سبزه، سنج و...



درنا گفت: من دوست دارم مانند سیزه‌ی سفره‌ی هفت‌سین که نماد شادابی و خرمی است، همیشه خوش‌اخلاق باشم. شما دوست داری به جای چه چیزی در سفره‌ی هفت‌سین باشی؟ چرا؟

بر اساس تفکر و خلاقیت دانش آموز و تقویت کاوشگری برای معنای نماد های هفت سین!



به درنا و برنا کمک کن تا تصاویر مربوط به سفره‌ی هفت‌سین را رنگ بزنند و اگر چیزی کم دارند داخل سفره بکش.




هنرمند کوپولوی من:



هر سال به نام یک حیوان نام‌گذاری شده است. عزیزم می‌دانی امسال سال چه حیوانی است؟ با کمک بزرگ‌ترهایت یک کاردستی به شکل حیوان سال درست کن و آن را در کادر زیر بچسبان. برای این کار می‌توانی از وسایل مختلفی مانند کاغذ رنگی، فوم، قیچی و یا هر وسیله‌ای که در خانه داری استفاده کنی.

سال اسب ۱۴۰۵



از پدر یا مادر کمک بگیر و

تحقیق کن سال تولدت، سال چه حیوانی بوده است؟ نقاشی آن حیوان را بکش.

سال تولد: بر اساس سال تولد دانش آموز



بازیکن کوپه‌لوی من:

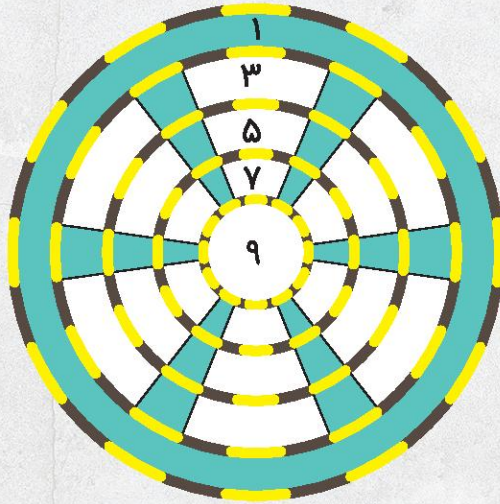


بازی جَدّاب و دوست‌داشتنی «دارت» را دوست داری؟
درنا و برنا در تعطیلات عید مشغول بازی «دارت» بودند. آن‌ها هر کدام ۵ تیر را به هدف
پرتاب کردند و امتیاز تیرهایشان را در جدولی نوشتند.



۷
۹
۵
۱
۱

۲۳



۳
۵
۳
۹
۱

۲۱



جمع امتیازات درنا و برنا را محاسبه کن.

به نظر شما درنا برنده بازی است یا برنا؟ . **برنا، زیرا او امتیازات بیشتری کسب کرده است.**

بازی دانش آموز با بزرگترها



دوست داری این بازی را با اعضای خانواده یا دوستان انجام دهی؟
پنج بار چشمانت را ببند و نوک مداد را روی هدف بالا بگذار.
حالا امتیازها را داخل جدول زیر بنویس. برنده‌ی بازی چه کسی است؟



امتیازهای من

--	--	--	--	--

امتیازهای

--	--	--	--	--

امتیازهای

--	--	--	--	--



نویسنده‌ی کوهپه‌لوی من:



درنا و برنا در باغی مشغول بازی بودند. بازی آن‌ها به این صورت بود که با صدای آخر یک کلمه‌ی جدید بگویند که با آن صدا شروع شده باشد. شما هم به درنا و برنا در این بازی کمک کن و کلمه‌ها را روی سنگ‌های دور برکه بنویس.



هنرمند کوچولوی من:




دوست داری به مناسبت عید نوروز شما هم یک کارت تبریک به بزرگ‌ترها یا دوستانت

بر اساس خلاقیت دانش آموز

هدیه بدهی؟

آفرین به شما هنرمند خلاق

وسایل لازم:



کاغذ رنگی



حالا می‌توانی در این کارت تبریک یک نامه‌ی زیبا بنویسی.


وقتی این هدیه را به دوستانت یا بزرگ‌ترها دادی، یک عکس زیبا از خودت و عیدی زیبایی بگیر و اینجا بچسبان.



ممیطبان کوپولوی من:



در روزهای تعطیلی عید نوروز، درنا و برنا مشغول تماشای برنامه‌ی تلویزیونی مستند حیوانات بودند. آن‌ها با حیوانات زیادی آشنا شدند. به درنا و برنا کمک کن تا نام هر حیوان را در گروه خودشان بنویسند.



آبزیان	حشرات	خزندگان	پزندگان
<p>دلفین ماهی ستاره دریایی</p>	<p>ملخ مگس زنبور</p>	<p>مار لاک پشت کرم خاکی</p>	<p>خروس گنجشک جوجه</p>



می‌دانی زنبورهای عسل با استفاده از شهد گل‌های بهاری چه‌طور عسل درست می‌کنند؟
 کاوشگر کوچولو ضمن ضبط کردن صدای خودت، مراحل تولید عسل را توضیح بده.



تحقیق دانش آموز

به صورت کلی: شهد داخل گلها را می‌مکند و داخل کندو به شکل عسل درست می‌کنند.

نویسنده‌ی گویپهلوی من:



بر اساس خلاقیت دانش آموز

می‌توانی برای تصویر زیر یک داستان زیبا بنویسی؟

خروسی که نوک خودش را دوست نداشت



یکی بود، یکی نبود....

.....

.....

.....

.....

.....

.....

.....



آیا می‌دانی نام قوی‌ترین خروس ایرانی چیست؟
خروس لاری
با کمک بزرگتره‌ایت تصویر آن را از اینترنت پیدا و چاپ کن و اینجا بچسبان.



ریاضی‌دان کوچک‌پولوی من:

مسئله‌های زیر را با دقت بخوان و آن‌ها را حل کن.



مادر درنا شیرینی‌های خوشمزه‌ای برای عید نوروز پخته است. او ۵ جعبه شیرینی که در هر کدام ۱۰ عدد شیرینی قرار دارد آماده کرده است. او چند شیرینی آماده کرده است؟ (با کمک چوب خط)

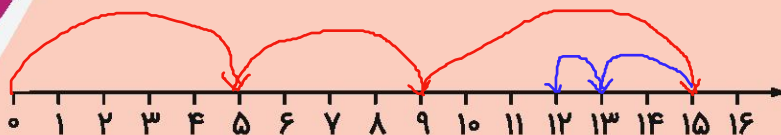
$$10 + 10 + 10 + 10 + 10 = 50$$

چوب خط نیز کشیده شود.

او ۵۰ شیرینی آماده کرده است.



برای پذیرایی از مهمان‌های نوروزی در یک سبد ۵ خیار، ۴ سیب و ۶ پرتقال گذاشتیم. درنا ۲ خیار و یک سیب برداشت، چند میوه در سبد باقی مانده است؟ (با کمک محور)

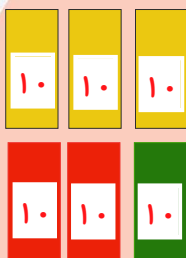


$$5 + 4 + 6 - 2 - 1 = 12$$

..... ۱۲ میوه در سبد باقی مانده است.



برنا از پدرش ۳۰ تومان، از مادرش ۲۰ تومان و از خاله مریم ۱۰ تومان عیدی گرفته است. برنا چند تومان پول دارد؟ (به کمک شکل)



$$30 + 20 + 10 = 60$$

برنا ۶۰ تومان پول دارد.

