

۹- در جای خالی کلمه یا عدد مناسب بنویسید.

۳ کیلومتر و ۵۰ متری یعنی متر

برای کشیدن دایره از وسیله ای به نام استفاده می کنیم.

هر عددی در یک ضرب شود جواب میشود.

در ضرب وقتی عددها را جا به جا کنیم حاصل نمیگردد.

ساعت ۱۹:۳۰ همان در بعد از ظهر است.

شعاع دایره قطر آن است.





اگر صورت دو کسری مساوی باشند آن وقت کسری بزرگتر است که مخرج آن باشد.

ربع هر چیز از شش آن است.

دایره شعاع دارد.

واحد اندازه گیری چرخ است.

۱۰- برای جاهای خالی را با عدد مناسب و شکلها را با رنگ کردن کامل کن

 <p>..... واحد و واحد</p>	 <p>..... واحد و واحد</p>
 <p>۳ واحد و $\frac{5}{6}$ واحد</p>	 <p>$\frac{2}{3}$ واحد بعد از عدد ۳</p>

۱۱- عبارات های زیر را کامل کنید.

$$(6 \times 3) - (2 \times 3) = \dots - \dots = \dots$$

$$(3 \times 5) + (4 \times 5) = \dots + \dots = \dots$$

$$(8 \times 7) = (\dots \times \dots) + (\dots \times \dots) = \dots$$

۱۲- ضربهای زیر را به روش خواسته شده بنویسید.

شکل:	جمع:	ساعت میشود.	$2 \times 6 =$
محور:	الگو:	ساعت میشود.	$3 \times 4 =$

۱۳- شکل مورد کلمه عبارت را نشان می دهد.



(ب) $\frac{4}{6} > \frac{2}{3}$

(الف) $\frac{4}{6} = \frac{2}{3}$

(ج) هر سه مورد

(الف) $\frac{2}{3} > \frac{4}{6}$

پانزدهم

نیاز به تلاش بیشتر

قابل قبول

خوب

خیلی خوب