

ارمغان هفته - چهارم دبستان

شماره‌ی

۳۰

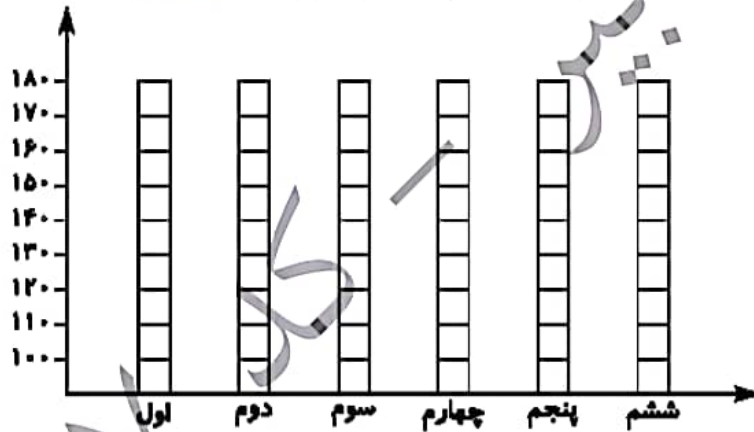
نام و نام خانوادگی: تاریخ: نام آموزگار:

ریاضی < فصل ۷ آملر و احتمال: نمودار خط شکسته
 علوم < درس ۱۲: گوناگونی گیاهان
 فارسی < درس ۱۷: مدرسه‌ی هوشمند (۲) - نیایش
 مطالعات اجتماعی < درس ۲۲: روزهای مهم (۱)
 هدیه‌های آسمان < درس ۱۹: خدا چون از تو ممنوم (۲)
 قرآن < درس ۱۵: جلسه‌ی دوم

ریاضی

تعداد دانش‌آموزان پایه‌های مختلف دبستان علوی در شهر تهران به صورت تقریبی به شرح زیر است. نمودار ستونی آن را کامل کنید و سپس به سؤالات پاسخ دهید.

پایه	اول	دوم	سوم	چهارم	پنجم	ششم
تعداد	۱۷۰	۱۲۰	۱۳۰	۱۱۰	۱۳۰	۱۴۰



الف) کدام پایه بیشترین دانش‌آموز را دارد؟

ب) کدام پایه کمترین دانش‌آموز را دارد؟

پ) تعداد دانش‌آموزان کدام پایه‌ها برابرند؟

در نمودار خط شکسته، هر نماد چه مفهومی دارد؟





تعداد گل‌های فروخته شده‌ی یک گل فروش از روز شنبه تا چهارشنبه به شرح زیر بوده است:


روز	شنبه	یکشنبه	دوشنبه	سه‌شنبه	چهارشنبه
تعداد شاخه	۲۴	۱۸	۲۰	۲۲	۲۱

الف) نمودار خط شکسته‌ی آن را رسم کنید.

ب) در چه روزی فروش او رشد داشته است؟

علوم

برچسب نام هر قسمت را در محل خود قرار دهید.



ج) جاهای خالی را کامل کنید.

- الف) تک لپه‌ای‌ها دارای برگ‌های و هستند.
- ب) گیاهانی مانند کاج، باقلا و گوجه‌فرنگی با تولیدمثل می‌کنند.
- پ) هاگدان سرخس پشت برگ‌هایش و به صورت و به رنگ دیده می‌شود.
- ت) اولین بخش گیاه که از پوسته‌ی دانه خارج می‌شود است.
- ث) لوبیا، گل رز و سیب جزء گیاهان و لپه‌ای هستند.

کدام یک از گیاهان زیر با دانه تولیدمثل نمی‌کند؟

- ۱) گندم
- ۲) لاله
- ۳) خزه
- ۴) کاج





۴ در مورد گیاهان تک لپه‌ای چه می‌دانید؟ مثال بزنید.

.....

۵ محصول نهایی غذاسازی در گیاهان چیست؟

(۱) قند و اکسیژن (۲) کربن دی‌اکسید و آب (۳) قند و آب (۴) اکسیژن و کربن دی‌اکسید

فارسی

۱ برای کلمات زیر یک هم‌خانواده بنویسید.

<input type="text"/>	←	واقعی	<input type="text"/>	←	نفس
<input type="text"/>	←	متنقل	<input type="text"/>	←	عمیق

۲ جمع کلمات زیر را بنویسید.

قانون: تصویر: انگشت:

۳ جاهای خالی را با کلمه‌های (سپس، و بعد، اولین) کامل کنید.

مهتاب روزی بود که به مدرسه‌ی جدید رفته بود، دانش‌آموزان دستشان را روی صفحه‌ای رنگی قرار می‌دادند و وارد کلاس می‌شدند. مهتاب نشانی پایگاه رایانه‌ای مدرسه را به پدر و مادرش داد. کنار پدر مشغول کار با رایانه شد باهم سری به پایگاه مدرسه زدند.

۴ اجزای جمله‌های زیر را مشخص کنید. (فعل - فاعل - مفعول)

فناوری و پیشرفت‌های علمی، هر بیننده و شنونده را شگفت زده می‌کند.

۵ حضور و غیاب در مدرسه‌ی هوشمند را با مدارس معمولی مقایسه کنید و یک خوبی آن را بیان کنید.

.....

مطالعات اجتماعی

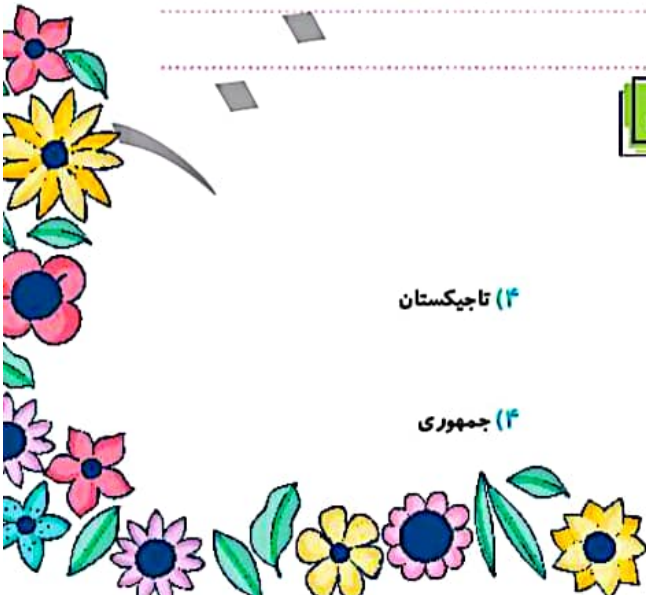
۱ عبارت صحیح را انتخاب کنید.


الف) در کدام یک از کشورهای زیر، جشن‌های نوروزی برپا نمی‌شود؟

(۱) عراق (۲) افغانستان (۳) آذربایجان (۴) تاجیکستان

ب) خودکفا بودن کشور براساس کدام یک از شعارهای انقلاب ماست؟

(۱) اسلامی بودن (۲) استقلال (۳) آزادی (۴) جمهوری



با گذاشتن علامت  جدول را کامل کنید.

مناسبت‌ها	تعطیلات	عید نوروز	روز درختکاری	عید فطر	مبعث پیامبر اکرم (ص)	روز طبیعت
مذبی						
دینی						

کدام یک از اعیاد مذهبی در تمام کشورهای اسلامی تعطیل است؟

هدیه‌های آسمان - قرآن







چرا در روز قیامت برخی چهره‌ها خندان و برخی چهره‌ها غمگین هستند؟

معنای عبارات قرآنی زیر را بنویسید.

(الف) و انزل لکم من السماء ماء:

(ب) هُوَ الَّذِي أَنْزَلَ عَلَيْكَ الْكِتَابَ:

(پ) هُوَ الَّذِي خَلَقَ لَكُمْ مَا فِي الْأَرْضِ جَمِيعًا:

	تشخیص فعل، فاعل و مفعول
	درک مطلب
	آشنایی با روزهای مهم در ایران
	آشنایی با اعیاد مذهبی
	روز قیامت
	معنای عبارات قرآنی

	کاربرد نمودار ستونی
	کاربرد نمودار خط شکسته
	تشخیص اجزای گول
	روش‌های تولید مثل گیاهان
	کلمات هم معنی
	کلمات مترادف و جمع
	کاربرد (سپس، و، بعد، اولین) در جمله

شاخص‌ها

-  خلی خوب
-  خوب
-  قابل قبول
-  نیاز به تلاش بیشتر

ارمغان هفته - چهارم دبستان

شماره‌ی

۲۱

نام و نام خانوادگی: تاریخ: نام آموزگار:

مطالعات اجتماعی < درس ۲۲: روزهای مهم (۲)
هدیه‌های آسمان < دوره
قرآن < درس ۱۵: جلسه‌ی سوم

ریاضی < فصل ۷: آمار و احتمال
علوم < درس ۱۳: زیستگاه
فارسی < درس ۱۷: ستایش

ریاضی

یک تاس را پرتاب می‌کنیم. جملات سمت راست را به عبارتهای مناسب در سمت چپ وصل کنید.

- | | |
|------------------------|----------------------------|
| عدد ۳ بیاید | به طور حتم اتفاق می‌افتد |
| عدد بیش‌تر از ۶ بیاید | به احتمال کم‌تر |
| عدد کوچک‌تر از ۷ بیاید | به احتمال برابر |
| عدد زوج بیاید | به طور حتم اتفاق نمی‌افتد. |

برای هر کدام از عبارتهای زیر، یک مثال بزنید.

- الف) به طور حتم اتفاق نمی‌افتد:
ب) به احتمال کم‌تر اتفاق می‌افتد:
پ) به احتمال بیش‌تر اتفاق می‌افتد:
ت) به احتمال برابر اتفاق می‌افتد:
ث) به طور حتم اتفاق می‌افتد:

یک سکه را ۲۰ بار پرتاب می‌کنیم، انتظار دارید که چند بار پشت بیاید؟ چرا؟

در یک کلاس ۱۸ نفره ۱ نفر در فروردین، ۳ نفر در اردیبهشت، ۲ نفر در خرداد، ۲ نفر در مرداد، ۳ نفر در شهریور و ۷ نفر در بهمن متولد شده است. اگر به طور تصادفی یکی از دانش‌آموزان را انتخاب کنیم، احتمال هر یک از عبارتهای زیر با یک جمله بیان کنید.

الف) دانش‌آموز در تابستان متولد شده باشد.

ب) دانش‌آموز در پاییز متولد شده باشد.

پ) دانش‌آموز در زمستان متولد شده باشد.

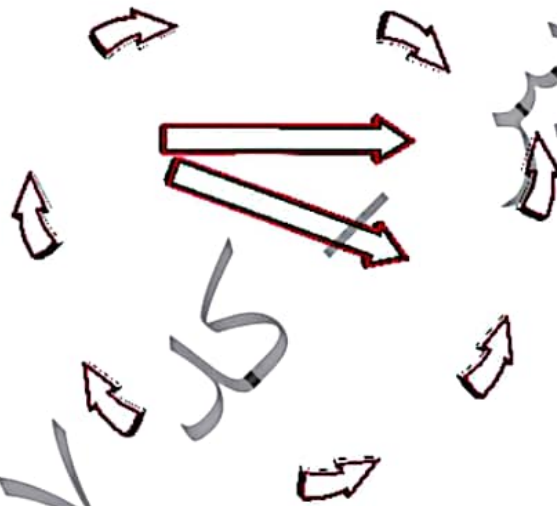
علوم

درستی و نادرستی هر عبارت را مشخص کنید.

- الف) فعالیت انسان‌ها گاهی باعث تخریب زیستگاه‌ها نمی‌شود.
- ب) یکی از راه‌های جلوگیری از آلودگی محیط زیست بازیافت نیست.
- پ) به ارتباط چند زنجیره‌ی غذایی، شبکه‌ی غذایی می‌گویند.
- ت) صدای هواپیما آلودگی صوتی ایجاد می‌کند.

۲ چه عاملی باعث مرگ و میر آبزیان می‌شود؟

۳ با توجه به فلش‌ها، برجسب‌ها را در جای مناسب در شبکه‌ی غذایی قرار دهید.



۴ پیکان‌های مناسب در این شبکه‌ی غذایی را رسم کنید.





فارسی

معنی بیت زیر را به زبان ساده‌تر بنویسید.

خدایا در زبان من، صواب آر دعای بنده‌ی خود، مستجاب آر،

۱ کدام‌یک از این ضرب‌المثل‌ها به معنای «کسی که خودش کاری را انجام می‌دهد، دیگران را از آن نهی نمی‌کند» است؟

۱) پول چرک کف دست است. ۲) رطب خورده منع رطب کی کند؟

۳) خواهی نشوی رسوا، هم‌رنگ جماعت باش ۴) هر کسی خربزه می‌خوره پای لرزش هم می‌شیند

۳ کلماتی که املاي آنها نادرست است را مشخص کنید و شکل صحیح آنها را بنویسید.

«فضایی - غریب - جاحل - لفض - ذکر - مستجاب - معلق»

۴ حروف به هم ریخته را مرتب کرده و یک کلمه‌ی معنادار بنویسید.

<input type="text"/>	ف-ا-و-ی-ر-ن	<input type="text"/>	پ-و-ا-ح-ل-ر-س-ا-ی
<input type="text"/>	ق-ل-ا-ن-ه	<input type="text"/>	ی-ف-ن-م-ک

۵ برای هر کدام از کلمات داده شده یک صفت مناسب انتخاب کرده و بنویسید.

«هوشمند - شلوغ - عمیق - زیبا - کنجکاو - پاک»

تخته‌ی دانش‌آموز نقاشی

ذات اتوبوس نفس

مطالعات اجتماعی

۱ جاهای خالی را کامل کنید.

الف) مردم ایران در سال به رهبری امام خمینی علیه ظلم و ستم حکومت شاهنشاهی انقلاب کردند.

ب) روز روز پیروزی انقلاب اسلامی است.

پ) انقلاب اسلامی ایران به رهبری امام خمینی و با و مردم به پیروزی رسید.

ت) اکنون رهبر انقلاب اسلامی، است.



۲ مراسم نوروز در چه کشورهایی برگزار می‌شود؟

۳ سه مورد از خصوصیات امام خمینی (ره) را بنویسید.

هدیه‌های آسمان - قرآن

۱ جاهای خالی را با استفاده از کلمات داده شده پر کنید.

امانت - کمک - وعده - مبعث - دیدار خویشاوندان - عمل صالح،

الف) انسان‌ها با کشت خوشبختی و بهشت را در آخرت درو می‌کنند.

ب) به روزی که حضرت محمد (ص) به پیامبری برگزیده شد، عید می‌گویند.

پ) صله‌ی رحم به معنی است.

ت) خدا فرمان می‌دهد که را به صاحبانش بازگردانید.

ث) امام علی (ع) می‌فرماید: برترین نیکی به دیگران است.

ج) موعود به معنی داده شده است.

۲ وقتی حضرت مهدی (ع) ظهور کند، با خود چه هدیه‌هایی می‌آورد؟

۳ معنای کلمات قرآنی زیر را بنویسید.

ما	الذی
هو	انزل

- خصوصیات امام خمینی
- تأثیر خوبی در آخرت
- عید مبعث
- مفهوم صله‌ی رحم
- معنای موعود
- هدایای حضرت مهدی (عج)
- معنای کلمات قرآنی

- مفهوم احتمال
- کاربرد احتمال در مسائل
- موجودات یک زیستگاه
- شناخت زنجیره‌ی غذایی
- شناخت شبکه‌ی غذایی
- ضرب المثل و کاربرد آن در زمان و مکان
- املا‌ی صحیح واژه‌ها و ترکیبات وصفی
- شناخت روزهای مهم در ایران

شاخص‌ها

- خیلی خوب
- خوب
- قابل قبول
- نیاز به تلاش بیشتر