

دوشنبه ؛ ۲۱ آذرماه
 دوره‌ای دهم انسانی - پیشروی
 آزمون گروه آزمایشی علوم انسانی

مدت پاسخ‌گویی: 53 دقیقه

تعداد سؤال: 45

| ردیف | مواد امتحانی | تعداد سؤال | از شماره | تا شماره | مدت پاسخ‌گویی |
|------|--------------------|------------|----------|----------|---------------|
| ۱ | | | | | |
| ۲ | | | | | |
| ۳ | | | | | |
| ۴ | | | | | |
| ۵ | | | | | |
| ۶ | | | | | |
| ۷ | علوم و فنون ادبی ۱ | ۱۵ | ۸۱ | ۹۵ | ۲۰ دقیقه |
| ۸ | | | | | |
| ۹ | جغرافیا | ۱۰ | ۱۰۶ | ۱۱۵ | ۱۰ دقیقه |
| ۱۰ | جامعه‌شناسی ۱ | ۱۰ | ۱۱۶ | ۱۲۵ | ۱۰ دقیقه |
| ۱۱ | منطق | ۱۰ | ۱۲۶ | ۱۳۵ | ۱۳ دقیقه |

علوم و فنون ادبی ۱ (درس‌های ۴ و ۵)

۸۱- کدام موارد از ویژگی‌های «نثر» در عهد سامانی محسوب می‌شود؟

- الف) در عهد سامانی نثر هم مانند شعر پارسی رواج یافت و کتاب‌هایی به زبان «دری» پدید آمد.
 ب) در عهد سامانی، ایرانیان به زبان‌های فارسی، پهلوی، عربی آثار فراوان پدید آوردند.
 پ) نثر این دوره ساده و روان است و به موضوع‌های حماسی، ملی و تاریخی توجه دارد.
 ت) آوردن اصطلاحات علمی و اشعار و امثال در نثر این دوره رایج شده است.

۱) ب - ت ۲) الف - پ ۳) الف - ت ۴) ت - پ

۸۲- متن زیر برگزیده‌ای از کدام اثر ادبی است و مربوط به کدام دوره می‌باشد؟

«هرگاه که جامه از کتف برداشتی، خلق را به جادوی چنان نمودی که این دوازدهاست و ازین قبیل، مردمان از او بترسیدندی و عرب او را ضحاک گفتند...»

- ۱) شاهنامه ابومنصوری، سامانیان
 ۲) هزار و یک شب، ساسانیان
 ۳) تاریخی بلعمی، سامانیان
 ۴) یادگار زریران، اشکانیان

۸۳- کدام گزینه درباره ادبیات «قرن چهارم هجری» نادرست است؟

- ۱) قرن چهارم هجری، دوران غلبه، رواج و ارائه آداب و رسوم ملی ایرانیان بود.
 ۲) قرن چهارم، دوره طلایی همراه با شکوفایی روح ایرانی بود.
 ۳) پایه‌های حماسه‌های ملی به زبان فارسی در این قرن گذاشته شد.
 ۴) ترقی این دوره با دانشمند بزرگی چون ابوعلی سینا آغاز شد و با شاعر بی‌نظیری مانند فردوسی ادامه یافت.

محل انجام محاسبات

۸۴- شعر غنایی در قرن چهارم و نیمه اول قرن پنجم با کدام شاعران، قوت و استحکام یافت؟

- (۱) رودکی - شهید بلخی (۲) فرّخی - رودکی (۳) منوچهری - فرّخی (۴) رودکی - کسایی مروزی

۸۵- سراینده کدام بیت «غلط» معرفی شده است؟

- (۱) تا رنج تحمل نکنی، گنج نبینی / تا شب نرود صبح پدیدار نباشد (سعدی)
 (۲) عجب نیست از گل که خندد به سروی / که در این چمن پای در گل نشیند (صائب)
 (۳) خلوتم چراغان کن، ای چراغ روحانی / ای ز چشمه نوشت، چشم دل چراغانی (شهریار)
 (۴) بلم آرام چون قویی سبکبار / به نرمی بر سر کارون همی رفت (تولّی)
- ۸۶- در کدام بیت همه آرایه‌های «تشبیه، استعاره، ایهام تناسب و حس آمیزی» یافت می‌شود؟

- (۱) پای خوابیده به فریاد نگردد بیدار / بند با عاشق بیدل چه تواند کردن
 (۲) از صدای سخن عشق ندیدم خوشتر / یادگاری که در این گنبد دوار بماند
 (۳) بر لب کوه جنون خنده شیرین بهار / نقش زخمی است که از تیشه فرهاد شکفت
 (۴) هر کاو نکاشت مهر و ز خوبی گلی نچید / در رهگذر باد نگهبان لاله بود

۸۷- آرایه‌های مقابل کدام بیت نادرست است؟

- (۱) بیستون بر سر راه است میاد از شیرین / خبری گفته و غمگین دل فرهاد کنید (تلمیح - تناسب)
 (۲) آن همه ناز و تنعم که خزان می‌فرمود / عاقبت در قدم باد بهار آخر شد (استعاره - تضاد)
 (۳) دلم خانه مهر یارست و بس / از آن می‌نگنجد در آن مهر کس (حسن تعلیل - جناس همسان)
 (۴) تو سرو جویباری، تو لاله بهاری / تو یار غمگساری تو حور دلربایی (تشبیه - واج‌آرایی)

۸۸- همه واژه‌ها در بیت زیر آرایه ایهام یا ایهام تناسب دارند؛ به جز:

«خسرو آن است که چون ملک وصال در یافت / لعل شیرین تو را دید و شکر گرد آورد»

- (۱) خسرو (۲) شیرین (۳) شکر (۴) وصال

۸۹- کدام الگو درباره ساختار هجای کشیده، درست است؟

- (۱) صامت + صامت + دو صامت یا بیش‌تر ← -U
 (۲) صامت + مصوت کوتاه + دو صامت ← -U
 (۳) صامت + مصوت بلند + مصوت کوتاه ← -U
 (۴) صامت + مصوت کوتاه + صامت ← -U

۹۰- تعداد هجاها در کدام گزینه متفاوت است؟

- (۱) بی‌کرانه (۲) انتخابات (۳) آتشفشان (۴) نافرجام

۹۱- در عبارت زیر، چند «مصوت» به‌کار رفته است؟

«وزن آشکارترین ابزار موسیقایی شعر است.»

- (۱) پانزده (۲) شانزده (۳) هفده (۴) هجده

۹۲- تعداد «صامت‌ها» و «مصوت‌های کوتاه» زبان فارسی در کدام گزینه درست آمده است؟

- (۱) ۲۹ صامت و ۶ مصوت کوتاه
 (۲) ۲۹ صامت و ۳ مصوت کوتاه
 (۳) ۲۳ صامت و ۳ مصوت کوتاه
 (۴) ۲۳ صامت و ۶ مصوت کوتاه

۹۳- مفهوم کدام بیت در مقابل آن نادرست آمده است؟

- ۱) همدمی چون نیست پیدا، راز پنهان خوش تر است / محرمی چون نیست حاصل مُهر بهتر بر دهان (خاموشی و سکوت)
- ۲) آه از این گردون کم فرصت که با این دستگاه / در ضیافت خانه اش نشست مهمانی درست (فانی بودن دنیا)
- ۳) اگر هوشمندی به معنی گرای / که معنی بماند نه صورت به جای (اهمیت عقل)
- ۴) گرچه تقلید است استون جهان / هست رسوا هر مقلد ز امتحان (ملامت تقلید)

۹۴- مفهوم کنایی روبه روی همه ابیات درست هستند، به جز:

- ۱) گل بی خار اگر بود در این خارستان / دامنی بود که از صحبت مردم چیدند (عزلت و گوشه نشینی)
- ۲) در درون آتشین صد راز دارم سر به مُهر / آه دودآلود خواهد گفت یک یک بی سخن (فاش شدن راز عشق)
- ۳) خار از چه جان بکاهد گل عذر آن بخواهد / سهل است تلخی می در جنب ذوق مستی (تحمل سختی عشق)
- ۴) بی زبانی می گشاید بندهای سخت را / در قفس طوطی ز منقار سخنگوی خود است (طالب هم زبانی)

۹۵- مفهوم کدام بیت با سایر ابیات متفاوت است؟

- ۱) مرنجان دلم را که این مرغ وحشی / ز بامی که برخاست مشکل نشیند
- ۲) از گوشه بامت سر پرواز ندارم / ای کاش که مرغ دلم از بال و پر افتد
- ۳) چو وحشی مرغ، از قید قفس جُست / دگر نتوان به دستان، پای او بست
- ۴) دل نیست کیوتر که چو برخاست نشیند / از گوشه بامی که پریدیم پریدیم

جغرافیا (درس‌های ۳ و ۴)

۱۰۶- قرارگیری در مجاورت کدام عامل طبیعی، باعث موقعیت نسبی ممتاز می‌شود؟

- (۱) دریا (۲) کوهستان (۳) بیابان (۴) جاده

۱۰۷- تنوع زیستی کشور ایران به کدام گزینه وابسته است؟

- (۱) موقعیت مطلق (۲) موقعیت نسبی (۳) موقعیت ریاضی (۴) موقعیت عمومی

۱۰۸- کدام یک از گزینه‌های زیر صحیح است؟

- (۱) محل قرارگیری هر مکان بنا به شرایط خاص طبیعی، اقتصادی و مذهبی پیرامون خود، موقعیت نسبی آن مکان است.
 (۲) محل دقیق هر پدیده یا مکان، با توجه به طول و عرض جغرافیایی، موقعیت نسبی آن مکان است.
 (۳) هر پدیده در روی زمین، دارای موقعیت ریاضی است که این موقعیت به همه پدیده‌های اطراف آن تعلق دارد.
 (۴) محل قرارگیری هر مکان، نسبت به پدیده‌های طبیعی یا انسانی پیرامون خود، موقعیت نسبی آن مکان است.

۱۰۹- عبارت زیر مربوط به کدام منطقه طبیعی است؟

«بزرگ‌ترین منبع انرژی جهان، ذخایر باارزشی دارد، زیرا حدود ۶۶٪ ذخایر نفت جهان و ۲۸ درصد ذخایر گاز طبیعی را در خود جای داده است.»

- (۱) خلیج فارس (۲) دریای عمان (۳) دریای خزر (۴) تنگه هرمز

۱۱۰- دریای عمان به کدام دلیل از نظر اقتصادی و نظامی، اهمیت بسیاری برای ایران دارد؟

- (۱) آب‌های آزاد اقیانوس هند و دریای خزر را به خلیج فارس متصل می‌کند.
 (۲) مجاورت با آب‌های آزاد و وجود سواحل با قابلیت‌های دفاعی مناسب
 (۳) درآمدها و دلارهای ناشی از صدور و فروش نفت به آن اهمیت داده است.
 (۴) نقش ارتباطی بین سه قاره آفریقا، اروپا و آسیا

۱۱۱- مهم‌ترین عامل تشخیص و جدایی هر کشور از کشور همسایه کدام است؟

- (۱) سواحل (۲) کوهستان‌ها (۳) جنگل‌ها (۴) مرز

۱۱۲- بخش اعظم سرزمین ایران از کدام منابع طبیعی تشکیل شده است؟

- (۱) بیابان‌ها و دشت‌های عظیم (۲) نواحی مرتفع و کوهستانی
 (۳) دریاها و رودهای پرآب (۴) جنگل‌ها و مراتع

محل انجام محاسبات

۱۱۳- کوهستان‌های تالش با کدام جهت منطقه آذربایجان را از کناره‌های دریای خزر جدا کرده است؟

- (۱) شمالی - جنوبی (۲) شرقی - غربی (۳) جنوبی - شمالی (۴) غربی - شرقی

۱۱۴- کدام مورد از جمله عوامل احداث سد بر روی رودهای حوضه زاگرس نیست؟

- (۱) بهره‌وری برای پارک‌های علم و فناوری (۲) آبیاری اراضی کشاورزی (۳) استفاده‌های صنعتی (۴) تأمین آب موردنیاز شهرها

۱۱۵- توصیف زیر مربوط به کدام مورد است؟

«سرزمین‌های هموار یا نسبتاً همواری که حصارهای کوهستانی آن‌ها را فرا گرفته است.»

- (۱) جلگه (۲) مرتع (۳) دشت (۴) بیابان

جامعه‌شناسی ۱ (از درس سوم تا انتهای درس ششم)

۱۱۶- عضویت در جهان اجتماعی و نظم میان اعضای آن چگونه است؟

- (۱) تکوینی است و به اعضا این مسئولیت محول می‌شود. (۲) با اراده و آگاهی انسان‌ها تعریف می‌شود. (۳) براساس آگاهی و اراده اعضای جهان اجتماعی پدید نمی‌آید. (۴) از طریق ارتباط جهان‌های اجتماعی با یکدیگر ایجاد می‌شود.

۱۱۷- جهان اجتماعی، نحوه عضویت اعضا در جهان اجتماعی، اماکن انتقال پول از طریق بانک و ذخایر آب زیرزمینی به ترتیب در کدام گزینه به

درستی آمده است؟

- (۱) مجموعه پدیده‌های اجتماعی - تکوینی و قراردادی - پدیده تکوینی - پدیده تکوینی
(۲) مجموعه پدیده‌های فردی و اجتماعی - تکوینی و قراردادی - پدیده تکوینی - پدیده طبیعی
(۳) مجموعه پدیده‌های فردی و اجتماعی - با اراده و آگاهی و به صورت قرارداد - پدیده اعتباری - پدیده طبیعی
(۴) مجموعه پدیده‌های اجتماعی - با اراده و آگاهی و به صورت قرارداد - پدیده اعتباری - پدیده تکوینی

۱۱۸- در ارتباط با عبارت زیر، کدام گزینه صحیح است؟

«زلزله یا خشکسالی با این که پدیده‌های طبیعی‌اند، تأثیرات تعیین‌کننده‌ای در کنش‌های اجتماعی انسان‌ها دارند.»

- (۱) انسان‌ها خانه‌های خود را به گونه‌ای می‌سازند تا در برابر حوادث طبیعی مقاوم باشد.
(۲) جهان اجتماعی و جهان طبیعی با یکدیگر ارتباط مستقیم ندارند.
(۳) جهان اجتماعی و جهان ماوراءالطبیعی بر یکدیگر اثر می‌گذارند.
(۴) شناخت جهان طبیعت، آرمان‌ها و ارزش‌های زندگی آدمیان را تغییر می‌دهد.

۱۱۹- اجزای جهان اجتماعی کدام است؟ آن‌ها را بر کدام اساس می‌توان تفکیک کرد؟

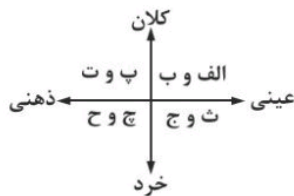
- (۱) جهان واقعی - گستره جهان اجتماعی (۲) عقاید و ارزش‌ها - تعداد اعضا (۳) انسان‌ها - نوع نژاد و مذهب (۴) پدیده‌های اجتماعی - اندازه و دامنه

۱۲۰- تقابل «نمادها در مقابل ارزش‌های اجتماعی»، «ساختمان مدرسه در مقابل آرمان‌ها»، و «کنش‌های اجتماعی افراد در مقابل نظام اجتماعی» بر

کدام مبنا و اساس است؟

- (۱) نظام اجتماعی - ذهنی و عینی بودن - اندازه و دامنه
(۲) ذهنی و عینی بودن - اندازه و دامنه - ذهنی و عینی بودن
(۳) نظام اجتماعی - اندازه و دامنه - ذهنی و عینی بودن
(۴) ذهنی و عینی بودن - اندازه و دامنه - عینی بودن - اندازه و دامنه

۱۲۱- به ترتیب جامعه و شهر در کدام قسمت از نمودار قرار دارد؟



- (۱) الف - ب
(۲) پ - ت
(۳) ث - ج
(۴) ح - ح

۱۲۲- بخش‌هایی از جهان که تأثیر تعیین‌کننده‌ای بر جهان اجتماعی دارند، کدام است؟

- (۱) لایه‌های سطحی جهان اجتماعی
 (۲) ابعاد ذهنی و عینی جهان اجتماعی
 (۳) ابعاد عینی و محسوس جهان اجتماعی
 (۴) لایه‌های عمیق و بنیادین جهان اجتماعی
- ۱۲۳- کدام گزینه به ترتیب «علت تنوع جهان‌های اجتماعی»، «علت تبعیض نژادی» و «وظیفه جامعه شناسان» است؟

- (۱) تنوع آگاهی و معرفت - فرهنگ جوامع غربی - مطالعه جوامع ابتدایی
 (۲) تنوع اراده و اختیار - فرهنگ جدایی نژادی - مطالعه جوامع صنعتی
 (۳) تنوع آگاهی و اراده - فرهنگ آپارتاید - مطالعه جوامع صنعتی و شهری پیشرفته
 (۴) عدم وجود غریزه - فرهنگ برتری نژادی - مطالعه جوامع شهری

۱۲۴- تصویر مقابل مربوط به کدام دیدگاه درباره جایگاه و سرنوشت جهان‌های اجتماعی است؟

- (۱) جهان‌های اجتماعی در عرض هم
 (۲) جهان‌های اجتماعی در طول هم
 (۳) جهان‌های اجتماعی بدون هویت فرهنگی
 (۴) جهان‌های اجتماعی در تضاد و تقابل با هم

۱۲۵- پاسخ پرسش‌های مطرح شده در کدام گزینه به درستی آمده است؟

(الف) مفهوم فیلم عصر جدید چارلی چاپلین چیست؟

(ب) تنگ شدن عرصه کدام کنش‌ها به وسیله کنش‌های حسابگرانه معطوف به دنیا صورت می‌پذیرد؟

(پ) هر جهان اجتماعی چه چیزی را بر اساس عقاید و ارزش‌های خود فراهم می‌آورد؟

- (۱) موافقت اندیشه بر دل - کنش‌های معطوف به عقلانیت ذاتی - محدودیت افق و نادیده گرفتن ظرفیت‌های جدید
 (۲) اسیر شدن انسان توسط تکنولوژی - کنش‌های عاطفی و اخلاقی - افق و ظرفیت‌های جدید
 (۳) غلبه تکنولوژی بر طبیعت - کنش‌های معطوف به عقلانیت ابزاری - از بین رفتن ظرفیت‌های جدید
 (۴) رهایی انسان از دام محدودیت طبیعت - کنش‌های معطوف به اخلاق - افق‌ها و ظرفیت‌های جدید

منطق (درس ۳ و درس ۴)

۱۲۶- سه تصدیق «هر شکری شیرین است، بعضی شیرین‌ها شکرند، بعضی شیرین‌ها شکر نیستند.» معرف کدام یک از نسب چهارگانه است؟

- (۱) تباین (۲) تساوی (۳) عموم خصوص من‌وجه (۴) عموم و خصوص مطلق

۱۲۷- هدف از تعریف کردن چیست و برای معرفی بهتر یک مفهوم از چه چیزی استفاده می‌کنند؟

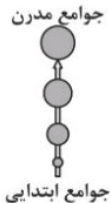
- (۱) شناساندن مفاهیم و تصدیق‌های مجهول برای شنونده - ارائه مجموعه‌ای از چند نوع مختلف از تعریف
 (۲) شناساندن مفاهیم و تصدیق‌های معلوم برای شنونده - ارائه تعریف مفهومی و تعریف لغوی
 (۳) شناساندن مفاهیم و تصورات مجهول برای شنونده - ارائه مجموعه‌ای از چند نوع مختلف از تعریف
 (۴) شناساندن مفاهیم و تصورات معلوم برای شنونده - ارائه تعریف لغوی و تعریف از طریق ذکر مصادیق

۱۲۸- کدام گزینه در مورد تعریف مفهومی صحیح نیست؟

- (۱) به تحلیل مفهوم موردنظر می‌پردازیم.
 (۲) با مفهوم عام آغاز می‌کنیم و سپس مفهوم خاص‌تر را بیان می‌کنیم.
 (۳) با دسته‌بندی ویژگی‌های یک مفهوم به ویژگی مشترک آن با سایر مفاهیم مشابه و ویژگی خاص آن می‌پردازیم.
 (۴) به ذکر نمونه‌ها یا تصاویری از مصادیق مفهوم موردنظر می‌پردازیم.

۱۲۹- موضوع کدام یک از جملات زیر جزئی نیست؟

- (۱) مریخ و عطارد از سیارات منظومه شمسی هستند.
 (۲) همین کتاب‌ها مرجع کارشناسی ارشد هستند.
 (۳) بلندترین قله جهان بسیار زیبا است.
 (۴) سعدی دارای بوستان و گلستان است.



۱۳۰- بین کلیات «مثنوی و غزل» و «تعریف و استدلال» به ترتیب کدام یک از نسبت‌های چهارگانه منطقی، حاکم است و از اسناد آن دو کلی به یکدیگر، به ترتیب چند قضیه حاصل می‌شود؟


- (۱) تباین - تساوی - دو - دو (۲) تباین - تباین - دو - دو (۳) تساوی - تباین - سه - چهار (۴) تباین - تساوی - سه - چهار

۱۳۱- مهم‌ترین ایراد وارد بر «چهارضلعی با زوایای قائمه» برای مربع چیست؟

- (۱) جامع نیست. (۲) مانع نیست. (۳) واضح نیست. (۴) دوری است.

۱۳۲- تصویر  مربوط به کدام گزینه است؟

- (۱) آرد و بربری (۲) توت و توت‌فرنگی (۳) مسیچی و کاتالیک (۴) شاعر و آمریکایی

۱۳۳- به ترتیب «علائم رانندگی»: ، رودخانه: ارس، جیوه: فلزی است که در دمای طبیعی مایع است. چه نوع تعریفی هستند؟

- (۱) تعریف مفهومی - تعریف از طریق ذکر مصادیق - تعریف مفهومی (۲) تعریف از طریق ذکر مصادیق - تعریف مفهومی - تعریف لغوی (۳) تعریف مفهومی - تعریف لغوی - تعریف از طریق ذکر مصادیق (۴) تعریف از طریق ذکر مصادیق - تعریف مفهومی - تعریف از طریق ذکر مصادیق

۱۳۴- به چهار حالتی که ممکن است میان مصادیق دو مفهوم کلی شکل بگیرند، چه می‌گوییم؟

- (۱) نسب اربع (۲) کلیات خمس (۳) انواع تعریف (۴) روابط عام و خاص

۱۳۵- کدام تعریف، جامع و مانع نیست؟

- (۱) حیوان: موجود جاندار دارای حواس (۲) پرنده: موجودی که در آسمان پرواز می‌کند. (۳) اسب: حیوان چهارپا که علف‌خوار است. (۴) فعل: کلمه‌ای که انجام کاری یا وقوع حالتی را می‌رساند.