

آزمون جمع‌بندی
پنج‌شنبه ۱۴۰۰/۱۲/۱۹

پایه‌پای (۳) - پایه هشتم

مدت پاسخ‌گویی: ۹۵ دقیقه

تعداد سؤال: ۸۵

ردیف	مواد امتحانی	تعداد سؤال	از شماره	تا شماره	مدت پاسخ‌گویی (دقیقه)
۱	ریاضی - حساب	۱۳	۱	۱۳	۱۸
۲	ریاضی - هندسه	۷	۱۴	۲۰	۱۲
۳	علوم تجربی - فیزیک و شیمی	۹	۲۱	۲۹	۹
۴	علوم تجربی - زیست و زمین	۶	۳۰	۳۵	۶
۵	فارسی	۱۰	۳۶	۴۵	۱۰
۶	عربی	۱۰	۴۶	۵۵	۱۰
۷	انگلیسی	۱۰	۵۶	۶۵	۱۰
۸	پیام‌های آسمان	۵	۶۶	۷۰	۵
۹	قرآن	۵	۷۱	۷۵	۵
۱۰	مطالعات اجتماعی	۱۰	۷۶	۸۵	۱۰

گروه تولید محتوا:

مدیر دپارتمان: نکیسا رحمانی

دراستان علمي	طراحان	درس
حمید جبريایی شراهی، منانه شاکری	الهام پرهیزی	ریاضی
نسرين مرسلی، فاطمه صباغی	مریم محمدی	علوم تجربی
آرش طاهری	مهدی امامی	فارسی
فاطمه نیک محتشم	حمیده امجدی	عربی
زهرا یزدانی، فرحناز فیاض	مهرداد رحمن پور	انگلیسی
فاطمه نیک محتشم، الیکا الیاسی	امیر امیری	پیام‌های آسمان و قرآن
شادی فیضی	حمید حسینی سروش	مطالعات اجتماعی

گروه فنی و تولید:

مدیر تولید	نکیسا رحمانی
کارشناس اجرایی	مینا امیری
حروف‌نگاری و صفحه‌آرایی	آرزو فکری

تولید: واحد آزمون‌سازی مؤسسه علمی آموزشی علوی
نظارت: شورای عالی آموزش مؤسسه علمی آموزشی علوی

آدرس دفتر مرکزی: سیدخندان، ضلع شمال‌غربی پل سیدخندان، بین خیابان پیشداد و شقایق، پلاک ۱۹

تلفن: ۰۲۱-۲۲۸۹۲۵۵۰

وب‌گاه: alavi.ir

رایانامه: ps_exam@alavi.ir

ریاضی

حساب

۱- عبارت $\frac{2a^2 - ab}{ab - ac}$ با کدام گزینه برابر است؟

- (۱) $\frac{a}{c}$ (۲) $\frac{2a}{c}$ (۳) $\frac{b}{c}$ (۴) $\frac{2a-b}{b-c}$

۲- حاصل عبارت $16 \times 4^6 \times (-2)^3$ کدام است؟

- (۱) 2^{19} (۲) 2^{25} (۳) 2^{22} (۴) 2^{24}

۳- عدد $-\sqrt{27}$ در کدام گزینه به درستی نشان داده شده است؟



۴- ساده شده عبارت $x(2y+x) - (x+2y)(x-y)$ کدام است؟

- (۱) $-2y^2$ (۲) $xy + 2y^2$ (۳) $xy - 2y^2$ (۴) $2y^2$

۵- اگر $a = \frac{1}{2}$ و $b = \frac{a-1}{a+1}$ باشد حاصل $y = \frac{a+b}{a-b}$ کدام است؟

- (۱) $\frac{1}{5}$ (۲) ۵ (۳) $-\frac{1}{5}$ (۴) -۵

۶- اگر $(2x-3)^2 - ax + b$ برابر با $4x^2 - ax + b$ باشد، $a+b$ کدام است؟

- (۱) ۵ (۲) ۲۱ (۳) ۱۹ (۴) ۳

۷- حاصل $\frac{\square \times 9^3}{3^7 + 3^7 + 3^7}$ برابر یک می باشد، جای خالی کدام عدد است؟

- (۱) ۱۸ (۲) ۲۷ (۳) ۳ (۴) ۹

۸- حاصل $c^a \times b^c \times (a+1)^a$ به ازای $a=2$ ، $b=9$ و $c=3$ کدام است؟

- (۱) 3^{14} (۲) 3^8 (۳) 3^{12} (۴) 3^{10}

۹- ساده شده عبارت $\frac{6^3 \times 4^5}{18 \times 12}$ کدام است؟

- (۱) 2^{12} (۲) 2^8 (۳) 2^{10} (۴) 2^6

۱۰- عدد $1 - 2\sqrt{5}$ بین کدام دو عدد قرار دارد؟

- (۱) -۲ و -۳ (۲) -۳ و -۴ (۳) -۴ و -۵ (۴) -۱ و -۲

۱۱- سن پدری از فرزندان دو قلوی خود ۲۰ سال بیشتر است. اگر ۱۲ سال بعد مجموع سن دو فرزند با سن پدر برابر شود،

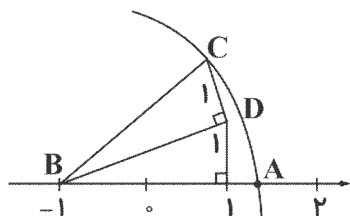
سن حال حاضر آن‌ها چقدر است؟

- ۱۰ (۱) ۸ (۲) ۶ (۳) ۴ (۴)

۱۲- اگر $2^x = 5$ باشد حاصل $\frac{2^{x+1}}{2^{x-1}}$ کدام است؟

- $\frac{2}{5}$ (۱) ۱۰ (۲) ۲۵ (۳) ۴ (۴)

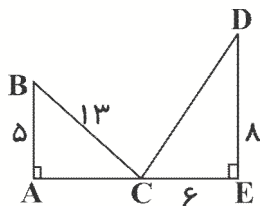
۱۳- نقطه A روی محور کدام عدد می‌باشد؟



- $\sqrt{5}$ (۱)
 $-1 + \sqrt{6}$ (۲)
 $-1 + \sqrt{5}$ (۳)
 $\sqrt{6}$ (۴)

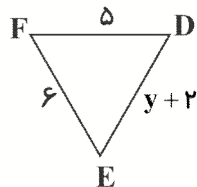
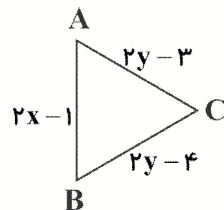
هندسه

۱۴- محیط شکل داده شده کدام است؟



- ۶۲ (۱)
 ۵۴ (۲)
 ۵۶ (۳)
 ۴۸ (۴)

۱۵- دو شکل داده شده دوران یافته هم می‌باشند، حاصل $x-y$ کدام است؟



- 1 (۱)
 ۲ (۲)
 ۱ (۳)
 -۲ (۴)

۱۶- بردار \vec{c} در رابطه $\vec{a} + 2\vec{i} + \vec{c} = \vec{b} - \vec{j}$ به ازای $\vec{a} = \vec{i} - 3\vec{j}$ و $\vec{b} = 2\vec{i} + 3\vec{j}$ کدام است؟

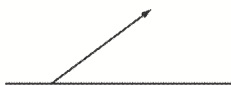
- $-i - j$ (۱) $-i + 5j$ (۲) $2i + 5j$ (۳) $-2i - j$ (۴)

۱۷- شخصی از نقطه A سه واحد به راست سپس ۲ واحد به بالا و در آخر ۵ واحد به چپ می‌رود تا به نقطه B می‌رسد. اگر

بخواهد مستقیم از A به B برود چقدر مسیر باید طی کند؟

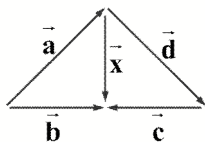
- $\sqrt{8}$ (۱) $\sqrt{10}$ (۲) ۴ (۳) ۳ (۴)

۱۸- موشکی از سطح زمین به شکل داده شده رها می‌شود و ۲۶ کیلومتر حرکت می‌کند به طوری که در این لحظه ارتفاع موشک از سطح زمین ۱۰ کیلومتر است. اگر این مسیر افقی طی شود چند کیلومتر می‌شود؟



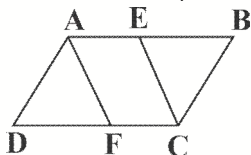
- (۱) ۱۲
- (۲) ۲۰
- (۳) ۲۴
- (۴) ۲۲

۱۹- با توجه به شکل داده شده بردار \vec{x} برابر کدام گزینه است؟



- (۱) $\vec{a} + \vec{b}$
- (۲) $\vec{c} + \vec{d}$
- (۳) $\vec{b} + \vec{c}$
- (۴) $\vec{a} + \vec{d}$

۲۰- ABCD متوازی‌الاضلاع است. کدام شرط را به شکل داده شده اضافه کنیم تا اثبات شود دو مثلث هم‌نهشت می‌باشند؟



- (۱) $AF=EC$
- (۲) $\hat{D} = \hat{B}$
- (۳) $DF=BE$
- (۴) $AD=BC$

علوم تجربی

فیزیک - شیمی

۲۱- کدامیک از اجسام داده شده، چشمه نور است؟

- (۱) آینه
- (۲) کره ماه
- (۳) سیاره زحل
- (۴) ستاره قطبی

۲۲- اگر یکی از پروتون‌های اتمی را بتوانیم از هسته آن جدا کنیم، آن‌گاه یک به دست آورده‌ایم.

- (۱) ایزوتوپ از همان عنصر
- (۲) یون منفی از همان عنصر
- (۳) اتم جدید با خواص جدید
- (۴) یون مثبت از همان عنصر

۲۳- مفهوم کدام گزینه نادرست است؟

- (۱) جرم نسبی نوترون تقریباً برابر صفر است.
- (۲) تعداد عناصر شناخته شده ۱۱۸ عنصر است.
- (۳) هیدروژن دارای سه ایزوتوپ است.
- (۴) نوک مداد از اتم‌های کربن تشکیل شده است.

۲۴- عدد اتمی عنصری ۶ و عدد جرمی آن ۱۴ است. این عنصر به ترتیب چند الکترون و پروتون دارد؟

- (۱) ۶ - ۱۴
- (۲) ۶ - ۱۴
- (۳) ۶ - ۶
- (۴) ۸ - ۶

۲۵- مفهوم کدام گزینه نادرست است؟

- (۱) به اجسامی که نور از آن‌ها عبور می‌کند، جسم منیر می‌گویند.
- (۲) به اجسامی که مانع عبور نور می‌شوند، جسم کدر می‌گویند.
- (۳) از پشت کاغذ پوستی اجسام به وضوح دیده نمی‌شود.
- (۴) بیشتر چیزهایی که در اطرافمان می‌بینیم جسم غیرمنیر هستند.

۲۶- به ترتیب از کدام آینه‌ها برای مشاهده لکه‌های دندان در دندان پزشکی و ساخت آینه داخل اتومبیل استفاده می‌شود؟

- (۱) تخت - کاو (۲) کاو - کاو (۳) کوژ - کاو (۴) کاو - کوژ

۲۷- مفهوم کدام گزینه درست است؟

- (۱) نام دیگر خورشید گرفتگی کسوف است.
 (۲) در خسوف ماه بین زمین و خورشید قرار دارد.
 (۳) در کسوف سایه زمین روی ماه می‌افتد.
 (۴) در خورشید گرفتگی نور خورشید به ماه نمی‌رسد.

۲۸- کدام آینه همیشه تصویری کوچک‌تر از جسم را به ما نشان می‌دهد؟

- (۱) آینه تخت (۲) آینه کوژ (۳) آینه کاو (۴) آینه تخت و آینه کاو

۲۹- در یون $^{23}_{11}\text{Na}^+$ تعداد ذره‌های سازنده اتم به ترتیب شامل: الکترون، پروتون و نوترون.

- (۱) ۱۱ - ۱۱ - ۲۳ (۲) ۱۰ - ۱۱ - ۱۲ (۳) ۱۰ - ۱۱ - ۲۳ (۴) ۱۱ - ۱۰ - ۱۲

زیست و زمین

۳۰- کدامیک از موارد داده شده عامل هوازدگی شیمیایی است؟

- (۱) حفر زمین توسط جانوران حفار
 (۲) رشد ریشه گیاهان در شکاف سنگ‌ها
 (۳) یخ زدن آب در شکاف سنگ‌ها
 (۴) نفوذ آب باران در زمین‌های آهکی و انحلال سنگ‌های آهکی

۳۱- در چرخه سنگ داده شده شماره‌های ۱ و ۲ به ترتیب کدامیک از مراحل تشکیل سنگ‌های رسوبی می‌باشند؟

هوازدگی سنگ‌ها \leftarrow (۱) رسوب‌گذاری \leftarrow (۲) سنگ‌های رسوبی

- (۱) انجماد - تبلور (۲) حمل و نقل - سنگی شدن رسوبات (۳) ذوب - ماگما (۴) ماگما - انجماد

۳۲- مفهوم کدام جمله نادرست است؟

- (۱) جنس پوسته تخم‌مرغ کلسیم کربنات است.
 (۲) باد می‌تواند سبب هوازدگی فیزیکی شود.
 (۳) رسوباتی که توسط یخچال‌ها حمل می‌شوند لبه‌هایی گرد دارند.
 (۴) ابتدا ذرات درشت و سپس ذرات ریزتر در بستر دریا ته‌نشین می‌شوند.

۳۳- هورمون رشد از کدام غده ترشح می‌شود؟

- (۱) تیروئید (۲) هیپوفیز (۳) فوق کلیه (۴) پاراتیروئید

۳۴- کدام ماده غذایی برای بهتر کار کردن غده تیروئید ضروری است؟

- (۱) سبزیجات (۲) ماهی (۳) گوشت قرمز (۴) مرغ

۳۵- کدام دو مورد، اندام هدف هورمون‌های غده پانکراس است؟

- (۱) یاخته‌های ماهیچه‌ای و استخوان (۲) یاخته‌های ماهیچه‌ای و کبد (۳) استخوان و کلیه (۴) استخوان و کبد

فارسی

۳۶- نقش کلمه خرم در بیت داده شده کدام است؟

به جهان خرم از آنم که جهان خرم از اوست / عاشقم بر همه عالم که همه عالم از اوست

- (۱) متمم (۲) نهاد (۳) مسند (۴) مفعول

۳۷- در میان واژگان داده شده، چند غلط املایی وجود دارد؟

«استامبول - استعمار - روحانی - مرجع - تقلید - شیعیان - فتوا - قلیان - تحریم - توطئه»

(۱) یک (۲) دو (۳) سه (۴) چهار

۳۸- عبارت «رنگ باختن» کنایه از چیست؟

(۱) تسلیم شدن (۲) ناامید شدن (۳) بازنده شدن (۴) فرار کردن

۳۹- در کدام گروه اسمی، اولین وابسته پسین، صفت بیانی است؟

(۱) طوفان دریای سرخ (۲) سرگذشت تلخ فردوسی (۳) همان چند روز سال (۴) نخستین گریه‌های نوزاد

۴۰- در عبارت داده شده برای کدام واژه، هم خانواده‌ای دیده نمی‌شود؟

«الیوم، استعمال توتون و تنباکو، در حکم محاربه با امام زمان (عج) است.»

(۱) عملیات (۲) ایام (۳) محاکمه (۴) مرجع

۴۱- کدام آرایه‌ها در عبارت داده شده دیده می‌شود؟

شرف مرد به جود است و کرامت به سجود / هر که این هر دو ندارد عدمش به ز وجود

(۱) تشبیه - جناس (۲) تکرار - تشبیه (۳) جناس - تضاد (۴) تشخیص - تکرار

۴۲- معنای واژگان «شمایل - خوف - غایت - پوپک» در کدام گزینه آمده است؟

(۱) پیکر - ناامیدی - بن‌بست - پرنده
(۲) چهره - ناامیدی - نهایت - پرنده
(۳) پیکر - ترس - بن‌بست - شانه‌به‌سر
(۴) چهره - ترس - نهایت - شانه‌به‌سر

۴۳- در کدام گزینه نقش ضمیر متفاوت است؟

(۱) نکته‌ای گویم که گر شنوی / شادمانی به جان و زنده به تن
(۲) ای وطن ای دل مرا مأوا / ای وطن ای تن مرا مسکن
(۳) ای متواضع رویین تن، ای رویین تن متواضع ای وطن من.
(۴) پسران تو مردان نیایش و شمشیرند و مادران صبوری داری.

۴۴- کدام کتاب، اثری دیگر از نویسنده «از آسمان سبز» است؟

(۱) دری به خانه خورشید (۲) فصل پنجم (۳) تماشاگه راز (۴) تاریخ اردلان

۴۵- عبارت داده شده، چند جمله است؟

«حاصل ماه‌ها پشت در نشستن و از سرما لرزیدن و دزدکی به درس گوش دادن، دانش دست و پا شکسته‌ای بود که در

قلک ذهنش جمع شده بود.»

(۱) دو (۲) سه (۳) چهار (۴) پنج

عربی

۴۶- ترجمه کدام کلمه صحیح است؟

(۱) قَرَح: جوجه (۲) قَرُخ: شادی (۳) طَائِر: پرنده (۴) رَابِع: چهار

۴۷- در کدام گزینه کلمه داده شده با سایر گزینه‌ها هماهنگ نیست؟

- (۱) نهر (۲) جَبَل (۳) غَابَة (۴) إِضَاعَة

۴۸- کدام گزینه هم برای منفی کردن ماضی و هم مضارع به کار می‌رود؟

- (۱) ما (۲) لا (۳) سَوْفَ (۴) سَتَ

۴۹- ترجمه کدام گزینه صحیح نیست؟

- (۱) إِنَّ اللَّهَ جَمِيلٌ يُحِبُّ الْجَمَالَ: قطعاً خداوند زیبا است و زیبایی را دوست دارد.
 (۲) مَا يَتَّبِعُ فَشَاهَدَتْ حَمَامَةً وَ سَأَلَتْهَا: نامید نمی‌شود و کیبوتری می‌بیند و از او می‌پرسد.
 (۳) يَخْرُجُ اللَّاعِبَانِ مِنَ سَاحَةِ الْمُسَابَقَةِ: دو بازیکن از میدان مسابقه خارج می‌شوند.
 (۴) الصَّيْدِيَّةُ فِي نَفْسِ الْمُشْتَشَفِيِّ: داروخانه در همان بیمارستان است.

۵۰- کلمه مناسب برای جای خالی در کدام گزینه آمده است؟

- (۱) أ أَنْتُمْ غَسَلْتُمْ مَلَابِسَكُمْ (كَمْ).
 (۲) أَيْتُهَا هَلْ تَطْبُخَانِ الطَّعَامَ (البنات).
 (۳) نَذَهَبُ مُنْظَمَةَ الْحَجِّ وَالزِّيَارَةِ (عَلَى).
 (۴) مَرَّةً سَافَرْتُ إِلَى كَرْبَلَاءَ (هَل)؟

۵۱- کدام پرسش و پاسخ صحیح است؟

- (۱) لِمَاذَا لَا تَكْتَبِينَ واجباتك؟ لِأَنِّي ذَهَبْتُ لِشِرَاءِ خَاتَمٍ ذَهَبِي.
 (۲) لِمَاذَا أَنْتُمْ مَسْرُورُونَ؟ لِأَنَّنا نَاجِحَانِ فِي الْمُسَابَقَةِ.
 (۳) مَاذَا تَفْعَلَانِ؟ نَأْخُذُ كِتَابَيْنِ.
 (۴) إِلَى أَيْنَ تَذْهَبِينَ بَعْدَ أُسْبُوعَيْنِ؟ سَتَذْهَبِينَ إِلَى الْبَيْتِ.

۵۲- مفرد کدام گزینه صحیح نیست؟

- (۱) آباء: أَب (۲) خَوَائِج: حَاجَة
 (۳) مُشْتَشَفِيَات: مُشْتَشَفِي (۴) ذُنُوب: ذَنْب

۵۳- در کدام گزینه جنسیت کلمات داده شده یکسان نیست؟

- (۱) أَخَوَات: أُخْت (۲) الْأَوْلَى: الْأَوَّل
 (۳) الْمَرْأَة: نِسَاء (۴) آيَات: آيَة

۵۴- فعل در کدام گزینه صحیح نیست؟

- (۱) أُخْتُكَ لَا تَعْرِفُ اللَّغَةَ الْعَرَبِيَّةَ مِثْلَكَ.
 (۲) تَأْكُلُ النَّارُ الْحَطَبَ.
 (۳) قَالَتْ الْفَرَاةُ الرَّابِعَةَ.
 (۴) زَمَيْلُكَ لَيْسَ مَلَابِسَ خَرِيفِيَّةً.

۵۵- نگارش کدام کلمه با توجه به معنای آن صحیح است؟

- (۱) يَيَّاسٌ: ناامید می‌شود (۲) غَزَلَانٌ: آهوها
 (۳) كَمَا: همان طور که (۴) كُرَّةُ الْمَنْصَدَةِ: تنیس روی میز

انگلیسی

56- Please me about your city.

1) say

2) talk

3) tell

4) meet

57- It is the center Iran.

- 1) on / of 2) in / at 3) at / in 4) in / of

58- Dictation:

There are many p - l - c - s in Isfahan.

- 1) a - a - u 2) a - u - a 3) a - a - e 4) a - e - a

59- How many pencils in your bag?

- 1) there are 2) there is 3) is there 4) are there

60- There are tables in the classroom but there any chairs to sit.

- 1) any / is 2) not / are 3) some / are 4) ten / aren't

61- There is food in the fridge.

- 1) any 2) some 3) many 4) 2 & 3

62- What is Isfahan like?

- 1) It is very famous for its beaches. 2) It is very clean.
3) Where is Isfahan? 4) It is near the capital.

63- A: any people in the classroom?

B: Yes, many.

- 1) Is there 2) There aren't 3) Are there 4) There isn't

64- A: Is the river near the mountain?

B: Yes,

- 1) there is 2) there are 3) it is 4) they are

65- Unscramble:

are / museums / any / ? / there

- 1) There are many museums? 2) Are any there museums?
3) Are there any museums? 4) Are there museums any?

پیام‌های آسمان

۶۶- علاوه بر آن که خودش گناه بزرگی است، مقدمه و زمینه‌ساز گناهان بزرگ دیگر نیز به‌شمار می‌رود.

(۲) پوشش نامناسب

(۱) سخن گفتن با لحن نامناسب

(۴) استفاده از الفاظ نامناسب

(۳) نگاه حرام

۶۷- مدگرایی چه آسیب‌هایی را بر جامعه وارد می‌کند؟

- (۱) آسیب‌های اقتصادی و فرهنگی
 (۲) آسیب‌های اقتصادی و اجتماعی
 (۳) آسیب‌های امنیتی و اجتماعی
 (۴) آسیب‌های امنیتی و فرهنگی

۶۸- هر یک از توضیحات داده شده جزو کدام‌یک از عوامل هدر دادن عمر به‌شمار می‌آید؟

- (الف) کسی که در زندگی خود برنامه‌ای ندارد و هدفی برای خود تعیین نکرده است.
 (ب) کسی که همواره احساس می‌کند وقتش کم است و باید تمام کارها را انجام دهد.

- (۱) بی‌حالی و تنبلی - امروز و فردا کردن
 (۲) امروز و فردا کردن - بی‌حالی و تنبلی
 (۳) امروز و فردا کردن - بی‌توجهی به اولویت‌ها
 (۴) بی‌توجهی به اولویت‌ها - معاشرت با افراد بی‌نظم

۶۹- تمام موارد داده شده، ویژگی بدترین موجودات است که خداوند آن‌ها را از چهار پایان گمراه‌تر دانسته است غیر از

- (۱) چشم دارند ولی از آن‌چه می‌بینند عبرت نمی‌گیرند.
 (۲) گوش دارند ولی برای شنیدن دستورات خدا از آن استفاده نمی‌کنند.
 (۳) توانایی اندیشیدن دارند ولی از این نعمت الهی استفاده نمی‌کنند.
 (۴) زبان دارند ولی از آن برای بازگو کردن حرف‌های خوب بهره نمی‌برند.

۷۰- چند مورد از عبارات داده شده دارای اشکال محتوایی است؟

- (الف) شرکت‌های بزرگ برای فروش هر چه بیشتر خود از انواع تبلیغات روانی استفاده می‌کنند.
 (ب) یکی از راه‌های درمان مدگرایی این است که در انتخاب اجناس به تجربه خود و اطرافیان به اندازه آگهی‌های تبلیغاتی اعتماد داشته باشیم.
 (ج) نوجوانان و جوانان به دلیل اقتضای شرایط سنی در مواجهه با مدها تاثیرپذیری بیشتری نسبت به سایر اقشار جامعه از خود نشان می‌دهند.

(د) با رشد مصرف‌گرایی، کالاها هر روز گران‌تر می‌شود و توانایی خرید مردم کاهش می‌یابد.

- (۱) یک مورد
 (۲) دو مورد
 (۳) سه مورد
 (۴) چهار مورد

قرآن

۷۱- کدام یک از شخصیت‌های قرآنی فرزندش را بسیار پند می‌داد و لقب «حکیم» به او می‌دادند؟

- (۱) اسماعیل (ع) (۲) یعقوب (ع)
(۳) لقمان (ع) (۴) یونس (ع)

۷۲- در ترجمه آیه «وَلَا تَطْعِ الْكَافِرِينَ وَالْمُنَافِقِينَ وَدَعْ أَذَاهُمْ» چند غلط وجود دارد؟

«و اطاعت نکن از کافران و منافقان و در برابر آزار و اذیت آن‌ها ایستادگی کن.»

- (۱) یک مورد (۲) دو مورد
(۳) سه مورد (۴) چهار مورد

۷۳- در کدام گزینه واژه‌های مشخص شده به درستی ترجمه شده است؟

- (۱) وَاتَّبِعْ مَا يوحىٰ إِلَيْكَ: وحی نمی‌شود
(۲) وَدَاعِبًا إِلَى اللَّهِ بِأَذْنِهِ: به اذن من
(۳) يَا أَيُّهَا النَّبِيُّ إِنَّا أَرْسَلْنَاكَ: فرستادیم تو را
(۴) إِنْ اللَّهُ كَانَ بِمَا تَعْمَلُونَ خَبِيرًا: بیناست

۷۴- کدام یک از آیات داده شده بر «خلف وعده نکردن خدا» اشاره دارد؟

- (۱) فَاصْبِرْ إِنَّ وَعْدَ اللَّهِ حَقٌّ
(۲) يَتَعَلَّمُونَ ظَاهِرًا مِنَ الْحَيَاةِ الدُّنْيَا
(۳) وَجَاءَتْهُمْ رُسُلُهُم بِالْبَيِّنَاتِ
(۴) وَعَدَّ اللَّهُ لَا يُخْلِفُ اللَّهُ وَعْدَهُ

۷۵- کدام یک از عبارات داده شده در ارتباط با مقام زن از آیات قرآن برداشت نمی‌شود؟

- (۱) زن در القاب و مزایای انسانی و ایمانی و کسب فضیلت و پاداش‌های اخروی هم پایه مرد است.
(۲) خانه محل آرامش و زن مدیر خانه است.
(۳) بر تعاون و احساس مسئولیت بین افراد خانواده بسیار تاکید شده است.
(۴) فطرت انسانی زن و مرد با هم متفاوت است.

مطالعات اجتماعی

۷۶- عمید الملک کندی وزیر کدام سلطان بود؟

- (۱) طغرل
(۲) محمود غزنوی
(۳) آلب ارسلان
(۴) ملکشاه

۷۷- هم‌زمان با فروپاشی حکومت ایلخانان کدام حکومت در ایران به وجود آمد؟

- (۱) اسماعیلیان
(۲) تیموریان
(۳) صفویان
(۴) سربداران

۷۸- مرز طبیعی آسیا و اروپا چه نام دارد؟

- (۱) اقیانوس اطلس
(۲) دریای مدیترانه
(۳) کانال سوئز
(۴) کوه‌های اورال

۷۹- از بین بردن اسماعیلیان، گسترش قلمرو از مرزهای چین تا شام و حمله به خوارزمشاهیان به ترتیب مربوط به کدام فاتحین است؟

- (۱) چنگیز - تیمور - چنگیز
(۲) آلب ارسلان - چنگیز - تیمور
(۳) هلاکو - چنگیز - تیمور
(۴) هلاکو - تیمور - چنگیز

۸۰- اصلاح امور اداری، مالی و قضایی، انتقال پایتخت به سلطانیه و رصدخانه مراغه مربوط به دوره کدام ایلخانان بود؟

- (۱) غازان خان - اولجایتو - هلاکو
(۲) اولجایتو - اولجایتو - هلاکو
(۳) غازان خان - اولجایتو - ابوسعید
(۴) غازان خان - هلاکو - ابوسعید

۸۱- مسجد گوهرشاد، شاهنامه بایسنقری و گنبد سلطانیه به ترتیب مربوط به کدام دوره‌ها هستند؟

- (۱) تیموریان - تیموریان - ایلخانان
(۲) ایلخانان - تیموریان - ایلخانان
(۳) تیموریان - ایلخانان - تیموریان
(۴) تیموریان - تیموریان - تیموریان

۸۲- جلگه پهناور گنگ و سند کدام کشورها را در بر می‌گیرد؟

- (۱) هند - چین - پاکستان
(۲) هند - چین - بنگلادش
(۳) بنگلادش - پاکستان - نپال
(۴) هند - پاکستان - بنگلادش

۸۳- چند عبارت نادرست وجود دارد؟

(الف) در قرون نخست هجری انتقال بخشی از میراث ادبی و تاریخی ایران باستان به جامعه اسلامی یکی از اقدامات مهم علمی و فرهنگی ایرانیان بود.

(ب) از قرن دوم هجری به بعد، در نتیجه علاقه امیران و وزیران صفاری و سامانی به فرهنگ و زبان ایرانی، رونق ادبیات فارسی آغاز شد.

(پ) برخی مساجد در ابتدای ورود اسلام به ایران براساس معماری دوره ساسانی ساخته شدند.

(ت) رودکی پدر شعر فارسی با تشویق و حمایت صفاریان اشعار خود را سرود.

(ث) فردوسی در اوایل دوره سامانی سرودن شاهنامه را آغاز کرد.

۴ (۴)

۳ (۳)

۲ (۲)

۱ (۱)

۸۴- عبارت‌های داده شده به ترتیب مربوط به کدام یک از سلاطین ایران هستند؟

(الف) بر تخت نشستن در نیشابور

(ب) براندازی آل بویه

(پ) گسترش قلمرو تازی در مرکز ایران

(ت) با کمک خواجه نظام‌الملک بر استحکام حکومت خود افزود.

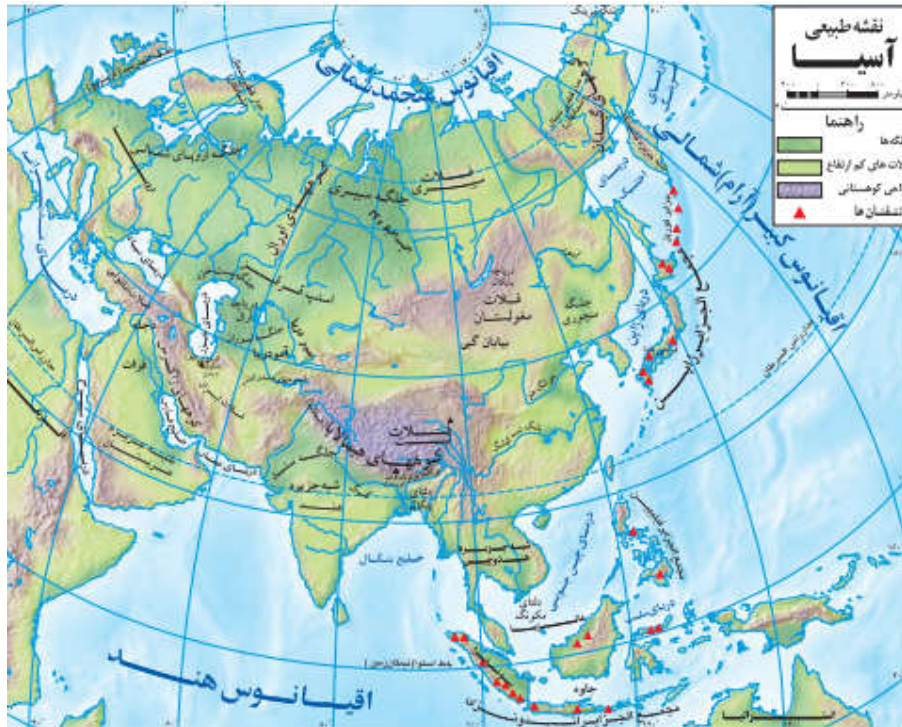
(۱) محمود غزنوی - طغرل - مسعود غزنوی - ملکشاه

(۲) طغرل - طغرل - محمود غزنوی - ملکشاه

(۳) طغرل - طغرل - محمود غزنوی - آل بارسلان

(۴) طغرل - آل بارسلان - محمود غزنوی - ملکشاه

۸۵- بر طبق نقشه داده شده کدام گزینه به درستی پاسخ داده شده است؟



الف) مجمع‌الجزایر ژاپن در امتداد کدام اقیانوس قرار دارد؟

ب) خلیج بنگال در امتداد کدام اقیانوس قرار دارد؟

پ) رود مهم شمال آسیا چه نام دارد؟

۲) آرام - آرام - ینی‌سئی

۱) اطلس - هند - یانگ‌تسه‌کیانگ

۴) آرام - هند - ینی‌سئی

۳) آرام - هند - یانگ‌تسه‌کیانگ

مبحث آزمون بعدی پایه هشتم متوسطه اول
پایه پای (۴) (جمع بندی) - ۱۴۰۱/۰۲/۲۳

مباحث	دروس
کل کتاب	ریاضی
کل کتاب	علوم تجربی
کل کتاب	فارسی
کل کتاب	عربی
کل کتاب	انگلیسی
کل کتاب	پیام‌های آسمان
کل کتاب	قرآن
کل کتاب	مطالعات اجتماعی