

به نام خداوند لوح و قلم

مروری بر پایه ششم

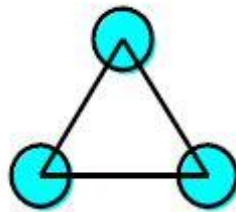
شکل هفتم از چند پاره خط تشکیل شده است؟



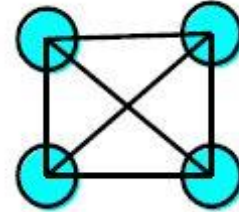
۱



۲

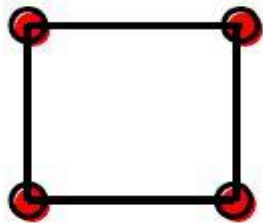


۳



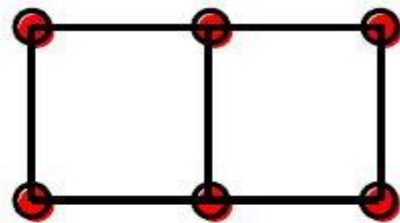
۴

شکل دهم از چند چوب کبریت تشکیل شده است؟



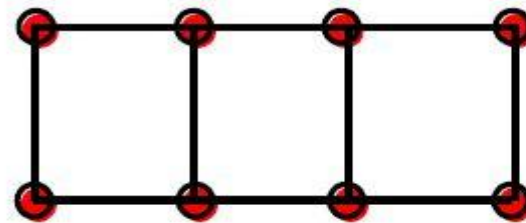
۱

,



۲

,



۳

شکل بیستم چطور؟

## عدد و الگوهای عددی

سه عددی بعدی را پیدا کنید

۲, ۵, ۸, ..., ..., ...



دنباله فيبوناچي

## عدد نویسی

عدد ۱۵۷۲۶۰۰۲۸۶۱ را در نظر بگیرید.

چه رقمی ارزش مکانی یکان میلیارد را دارد؟

اعداد صحيح

اعداد مثبت

اعداد منفي

صفر

## گسترده نویسی

عدد ۵۹۴۲- را گسترده نویسی کنید.



کسر  
برای هر مورد مثال بنویسید

کسر کوچک‌تر از واحد

کسر بزرگ‌تر از واحد

کسر مساوی واحد

کسرهای زیر را هم مخرج کنید.

$$\frac{9}{12} \text{ و } \frac{4}{18}$$

$$\frac{2}{24} \text{ و } \frac{4}{24} \text{ و } \frac{3}{12}$$