

آزمون پیشروی

پنجشنبه ۱۴۰۱/۰۸/۱۲

پایه پای (۱) - پایه هفتم

تعداد سؤال: ۸۵

مدت پاسخ‌گویی: ۹۵

ردیف	مواد امتحانی	تعداد سؤال	از شماره	تا شماره	مدت پاسخ‌گویی (دقیقه)
۱	ریاضی - حساب	۱۳	۱	۱۳	۱۸
۲	ریاضی - هندسه	۷	۱۴	۲۰	۱۲
۳	علوم تجربی - فیزیک و شیمی	۹	۲۱	۲۹	۹
۴	علوم تجربی - زیست و زمین	۶	۳۰	۳۵	۶
۵	فارسی	۱۰	۳۶	۴۵	۱۰
۶	عربی	۱۰	۴۶	۵۵	۱۰
۷	انگلیسی	۱۰	۵۶	۶۵	۱۰
۸	پیام‌های آسمان	۵	۶۶	۷۰	۵
۷	قرآن	۵	۷۱	۷۵	۵
۸	مطالعات اجتماعی	۱۰	۷۶	۸۵	۱۰

گروه تولید محتوا:

مدیر دپارتمان: نکیسا رحمانی

دروس	طراحان	ویراستاران علمی
ریاضی	مهتاب دالوند	منانه شاکری، امیر حسین عزیزی
علوم تجربی	مریم محمدی	علی شایان
فارسی	خورشید فروغی	احسان بختیاری
عربی	حمیده امجدی	فاطمه نیک محتشم
زبان	کامران معتمدی	فرحناز فیاض
پیام‌های آسمان و قرآن	الیکا الیاسی	معصومه سلطانی
مطالعات اجتماعی	حمید حسینی سروش	شادی فیضی

گروه فنی و تولید:

مدیر تولید	نکیسا رحمانی
کارشناس اجرایی	مینا امیری
حروف‌نگاری و صفحه‌آرایی	آرزو فکری

تولید: واحد آزمون‌سازی مؤسسه علمی آموزشی علوی
نظارت: شورای عالی آموزش مؤسسه علمی آموزشی علوی

آدرس دفتر مرکزی: سیدخندان، ضلع شمال غربی پل سیدخندان، بین خیابان پیشداد و شقایق، پلاک ۱۹

تلفن: ۰۲۱-۲۲۸۹۲۵۵۰

وب‌گاه: alavi.ir

رایانامه: ps_exam@alavi.ir

ریاضی

حساب

۱- بزرگترین عدد صحیحی که عدد طبیعی نیست کدام است؟

- ۱ (۱) ۰ (۲) -۱ (۳) -۲ (۴)

۲- چند عدد صحیح داریم که قرینه آن‌ها با قرینه قرینه‌اش برابر است؟

- ۰ (۱) ۱ (۲) ۲ (۳) ۴ (۴) بیش از ۲ عدد

۳- کدام عدد بین قرینه اعداد ۲۷ و صفر قرار دارد؟

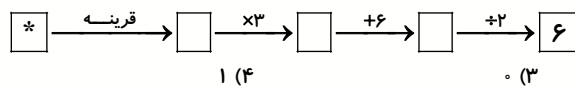
- ۳۰ (۱) ۱۲ (۲) -۱۲ (۳) -۳۰ (۴)

۴- عدد بعدی در دنباله اعداد روبه‌رو کدام است؟

- ۴۵ (۱) ۵۷ (۲) ۶۱ (۳) ۶۹ (۴)
 -۱, ۱, ۵, ۱۳, ۲۹, ۰۰۰

۵- اگر حاصل ضرب دو عدد طبیعی متمایز ۳۲ و حاصل جمع آن‌ها بیشترین مقدار ممکن باشد، عدد بزرگتر چند برابر عدد کوچکتر است؟

- ۸ (۱) ۳۲ (۲) ۱۶ (۳) ۲ (۴)

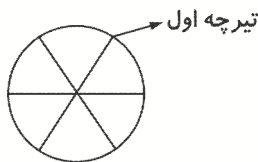


۶- در نمودار زیر، به جای * چه عددی قرار دارد؟

- ۲ (۱) -۲ (۲)

۷- مسیر ریل یک اسباب بازی، دایره است. ۶ تیرچه خطوط ارتباط تلفن، به فاصله‌های یکسان دور مسیر قرار دارند و ۱۰ ثانیه

طول می‌کشد تا قطار از تیرچه اول به سوم برسد، چه مقدار طول می‌کشد تا قطار کل مسیر را دور بزند؟



- ۲۰ (۱)

- ۳۰ (۲)

- ۶۰ (۳)

- ۴۰ (۴)

۸- پری قصد دارد با ۶۰۰۰ تومان تعدادی مجله و جدول بخرد، قیمت هر مجله ۶۰۰ تومان و قیمت هر جدول ۱۲۰۰ تومان

است. او به چند طریق می‌تواند با همه پولش مجله و جدول خریداری کند؟

- ۶ (۱) ۱۲ (۲) ۵ (۳) ۴ (۴)



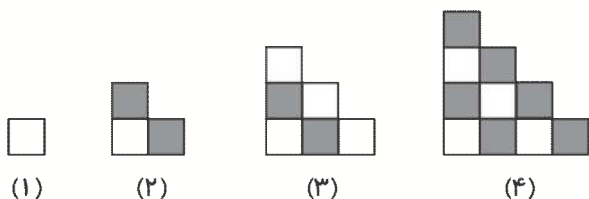
۹- مقدار * کدام است؟

- ۲/۳ (۱) ۳/۲ (۲) ۰ (۳) ۴ (۴) چنین عددی وجود ندارد.

۱۰- اگر $A = (-4) \times (-2) \times (-3) - (-4)$ و $B = (-2) \times (-3) \times (-2) + 8$ باشد. عدد A چند برابر عدد B است؟

- ۵ (۱) ۵ (۲) -۴ (۳) ۴ (۴)

۱۱- با توجه به شکل‌های زیر، اگر شکل‌ها به همین ترتیب ادامه پیدا کنند، چه کسری از شکل شماره ۶، رنگی می‌شود؟



- (۱) $\frac{4}{7}$
- (۲) $\frac{8}{21}$
- (۳) $\frac{5}{7}$
- (۴) $\frac{9}{21}$

۱۲- حاصل عبارت زیر کدام است؟ $(-1393) \times (-1392) \times \dots \times (1392) \times (1393)$

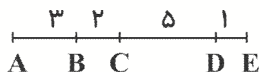
- (۱) ۰
- (۲) ۱۲۷۶۱۲
- (۳) -۱۲۷۶۱۲
- (۴) هیچ کدام

۱۳- کدام عدد را از بین اعداد ۲، ۳، ۵، ۴، ۷، ۰، ۶- حذف کنیم تا میانگین اعداد باقی‌مانده $1/5$ شود؟

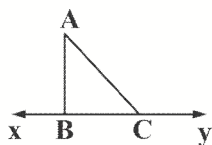
- (۱) -۳
- (۲) ۰
- (۳) ۵
- (۴) ۱

هندسه

۱۴- با توجه به شکل حاصل $4\overline{BC} + 3\overline{AB} - 2\overline{CD} + \overline{DE}$ کدام است؟



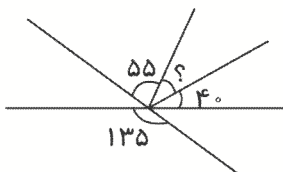
- (۱) ۷
- (۲) ۸
- (۳) ۹
- (۴) ۱۰



۱۵- در شکل مقابل چند نیم خط وجود دارد؟

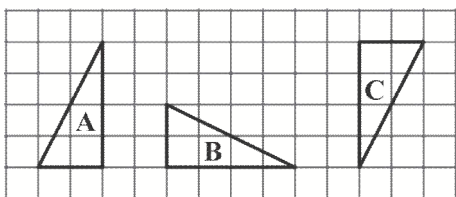
- (۱) ۳
- (۲) ۴
- (۳) ۱
- (۴) ۲

۱۶- در شکل داده شده اندازه زاویه مشخص شده کدام است؟



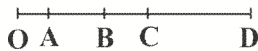
- (۱) ۳۰
- (۲) ۴۰
- (۳) ۵۰
- (۴) ۶۰

۱۷- برای بیان تبدیلات هندسی به ترتیب B و C و A کدام گزینه صحیح است؟



- (۱) $A \xrightarrow{\text{دوران}} B \xrightarrow{\text{انتقال}} C$
- (۲) $A \xrightarrow{\text{انتقال}} B \xrightarrow{\text{انتقال}} C$
- (۳) $A \xrightarrow{\text{دوران}} B \xrightarrow{\text{دوران}} C$
- (۴) $A \xrightarrow{\text{دوران}} B \xrightarrow{\text{تقارن}} C$

۱۸- کدام گزینه تساوی $\overline{OD} - \overline{AD} + \dots = \overline{OB}$ را کامل می‌کند؟

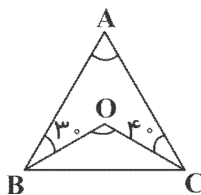


- (۱) \overline{CD}
 (۲) \overline{OA}
 (۳) \overline{BC}
 (۴) \overline{AB}

۱۹- متمم زاویه‌ای سه برابر آن زاویه است. آن زاویه کدام است؟

- (۱) ۲۰ درجه
 (۲) ۲۲/۵ درجه
 (۳) ۲۷/۵ درجه
 (۴) ۳۰ درجه

۲۰- در شکل داده شده OB نیمساز زاویه B و OC نیمساز زاویه C است. نسبت زاویه \hat{A} به \hat{O} چقدر است؟



- (۱) $\frac{1}{2}$
 (۲) $\frac{1}{5}$
 (۳) $\frac{1}{10}$
 (۴) $\frac{4}{11}$

علوم تجربی

فیزیک - شیمی

۲۱- براساس توافق دانشمندان در نشست‌های بین‌المللی درباره یکاهای استاندارد:

- (۱) جرم برحسب کیلوگرم، طول برحسب سانتی‌متر مکعب، زمان برحسب دقیقه است.
 (۲) جرم برحسب کیلوگرم، طول برحسب متر، زمان برحسب دقیقه است.
 (۳) جرم برحسب گرم، طول برحسب میلی‌متر، زمان برحسب ثانیه است.
 (۴) جرم برحسب کیلوگرم، طول برحسب متر، زمان برحسب ثانیه است.

۲۲- چگالی کدام یک بیشتر است؟

- (۱) ۱۰ کیلوگرم روغن خوراکی
 (۲) ۲ کیلوگرم چوب
 (۳) یک کیلوگرم میخ
 (۴) یک کیلوگرم آب

۲۳- وزن یک هندوانه ۱۲ کیلوگرمی بر روی زمین، چند برابر وزن آن بر روی کره ماه است؟

$$\left(\frac{10 \text{ N}}{6 \text{ kg}} = \frac{1 \text{ N}}{10 \text{ kg}} \right) \text{ ماه} = \frac{10 \text{ N}}{6 \text{ kg}} \text{ زمین}$$

- (۱) ۲ برابر
 (۲) ۱ برابر
 (۳) ۶ برابر
 (۴) $\frac{1}{10}$ برابر

۲۴- کوچکترین اندازه‌ای که روی یک خط‌کش درجه‌بندی شده، اندازه‌های یک میلی‌متری است. کدام یک از گزینه‌های زیر،

نتیجه اندازه‌گیری با این خط‌کش نیست؟

- (۱) ۵/۲ سانتی‌متر
 (۲) ۱۰/۰۱ سانتی‌متر
 (۳) ۱۹ میلی‌متر
 (۴) ۰/۰۵۲ متر

۲۵- بزرگترین سد خاکی - رسی کشورمان ایران، چه نام دارد؟

- (۱) سد کرج
 (۲) سد کارون
 (۳) سد لتیان
 (۴) سد کرخه

۲۶- کدام گزینه، به ترتیب از راست به چپ، عنصر و ترکیب می باشد؟

- (۱) هیدروژن - جیوه (۲) کربن دی اکسید - هیدروژن (۳) نیتروژن - متان (۴) کربن دی اکسید - متان

۲۷- کدام گزینه درست است؟

- (۱) به ذره های سازنده اتم، مولکول می گویند. (۲) مولکول های یک ماده به ذره های ریزتر تقسیم نمی شوند.
(۳) همه مواد از ذره های اتم تشکیل نشده اند. (۴) اصلی ترین ذره های سازنده جهان، اتم ها هستند.

۲۸- مایعی به حجم ۵ لیتر و چگالی ۱ گرم بر سانتی متر مکعب داریم. جرم این مقدار حجم از مایع چند کیلوگرم می باشد؟

- (۱) ۵ کیلوگرم (۲) ۰/۵ کیلوگرم (۳) ۲۰ کیلوگرم (۴) ۲۰۰ کیلوگرم

۲۹- کدام گزینه عبارت زیر را به درستی کامل می کند؟ «آب از نظر شیمیایی یک ..»

- (۱) عنصر می باشد و فقط از ترکیب اتم های اکسیژن تشکیل شده است.
(۲) عنصر می باشد و فقط از پیوند دو اتم هیدروژن تشکیل شده است.
(۳) ترکیب می باشد و از پیوند دو اتم هیدروژن تشکیل شده است.
(۴) ترکیب می باشد و از پیوند اتم های هیدروژن و اکسیژن تشکیل شده است.

زیست و زمین

۳۰- کدام گزینه از تفاوت های یاخته های گیاهی و جانوری به شمار می رود؟

- (۱) سبزیسه (۲) غشای پلاسمایی (۳) راکیزه (۴) رناتن

۳۱- برخی از مواد اولیه برای ساخت کدام گروه از مواد زیر مشابه یکدیگر هستند؟

- (۱) شیشه - ظروف سفالی (۲) شیشه - ظروف چینی (۳) شیشه - سیمان (۴) سیمان - ظروف چینی

۳۲- کدام یک از فلزات زیر، دیرتر از بقیه تمام می شود؟

- (۱) آهن (۲) مس (۳) کروم (۴) طلا

۳۳- جلبک رشته ای باکتری، از تشکیل شده است.

- (۱) همانند - یک یاخته (۲) برخلاف - یک یاخته
(۳) همانند - تعداد زیادی یاخته یکسان (۴) برخلاف - تعداد زیادی یاخته یکسان

۳۴- کدام گزینه نادرست است؟

- (۱) یاخته های پوست، به هم فشرده و ضخیم هستند. (۲) یاخته های خونی دراز و کشیده اند.
(۳) یاخته های مویرگ ها نازک هستند و بین آنها منافذی وجود دارد. (۴) آوندها دراز و لوله مانند هستند.

۳۵- هنگام استخراج فلز آهن علاوه بر فلز آهن، کدام ماده از کوره خارج می شود و حالت فیزیکی آن چگونه است؟

- (۱) اکسیدهای آهن - جامد (۲) دی اکسید کربن - گاز (۳) سنگ آهک - جامد (۴) اکسیژن - گاز

فارسی

۳۶- در کدام گزینه غلط املائی وجود ندارد؟

- (۱) بازهم در کلاس غوغا بود. (۲) باز پیکمیر بهار شوم.
(۳) یاد دارم در ایام تفولیت متعبد و شب خیز بودم. (۴) چنان خواب غفلت برده اند که گویی نخفته اند که مرده اند.

۳۷- معنای مشخص شده در کدام گزینه صحیح نیست؟

- (۱) ای کارگشای هر چه هستند: آسان کننده کارها
(۲) ای هست کن اساس هستی: به وجود بیاور
(۳) کوتاه ز درت دراز دستی: زورگویی
(۴) هم تو به عنایت الهی: احسان

۳۸- در کدام گزینه تشبیه به کار نرفته است؟

- (۱) برگ درختان سبز در نظر هوشیار / هر ورقش دفتر است معرفت کردگار
(۲) چو شاخ برهنه برآریم دست / که بی برگ از این بیش نتوان نشست
(۳) نسیم مانند مادری مهربان و آداب‌دان به کودکان خویش حق شناسی می آموزد.
(۴) سبزه‌ها و کشته‌های سیراب باغ و صحرا را دیدم.

۳۹- کدام گزینه نمی‌تواند با سایر گزینه‌ها هم خانواده باشد؟

- (۱) اعجاز (۲) معجزه (۳) عجوزه (۴) معراج

۴۰- در کدام گزینه هم تشبیه و هم تشخیص (جان بخشی) وجود دارد؟

- (۱) کودکان پر نشاط گل بوته‌ها در گوش نسیم آمین می‌گفتند.
(۲) آب شتابان می‌رفت تا خود را به دهان تشنه زمین برساند.
(۳) در کلاس شگفت آفرینش زیبایی خلقت را با همه وجود درک می‌کردم.
(۴) احساس می‌کردم هم‌اکنون چشمه‌های معرفت از درونم خواهد جوشید.

۴۱- همه آثار زیر متعلق به نظامی است به جز

- (۱) مخزن الاسرار (۲) اسکندرنامه (۳) هفت اقلیم (۴) لیلی و مجنون

۴۲- در کدام گزینه هم جمله خبری و هم جمله عاطفی به کار رفته است؟

- (۱) با خودش زیر لب چنین می‌گفت / آرزوهایتان چه رنگین است
(۲) که ای سالک چه در انبانه داری / بیا دامی بنه گر دانه داری
(۳) هر که را خوابگاه آخر مثنی خاک است / گو چه حاجت که به افلاک کشی ایوان را
(۴) دانه آرام بر زمین غلتید / رفت و انشای کوچکش را خواند

۴۳- کدام واژه‌ها هم آوا نیستند؟

- (۱) خان - خوان (۲) حلال - هلال (۳) ارز - عرض (۴) خویش - خیش

۴۴- مفهوم عبارت «جان پدر تو نیز اگر بخفتی به از آنکه در پوستین خلق افتی» به کدام گزینه نزدیک تر است؟

- (۱) از دست غیبت تو شکایت نمی‌کنم / تا نیست غیبتی نبود لذت حضور
(۲) آنچه در غیبتت ای دوست به من می‌گذرد / نتوانم که حکایت کنم الا به حضور
(۳) مکن پیش دیوار غیبت بسی / بود کز پیشش گوش دارد کسی
(۴) تو نه مثل آفتابی که حضور و غیبت افتد / دگران روند و آیند و تو همچنان که هستی

۴۵- در کدام گزینه هم نهاد پنهان و هم آشکار وجود دارد؟

- (۱) از ظلمت خود رهایی‌ام ده / با نور خود آشنایی‌ام ده
(۲) ای نام تو بهترین سرآغاز / بی‌نام تو نامه کی کنم باز؟
(۳) ای هست کن اساس هستی / کوتاه ز درت دراز دستی
(۴) الهی دلی ده که در کار تو جان بازییم و جانی ده که کار آن جهان سازیم

عربی

۴۶- ترجمه کدام گزینه صحیح است؟

- (۱) مَكْتَبَةٌ: ایستاده (۲) كَلَامٌ: صندلی (۳) نِسْيَانٌ: فراموشی (۴) مِفْتَاحٌ: مرگ

۴۷- متضاد کدام گزینه در این عبارت آمده است؟ (عَدَاوَةُ الْعَاقِلِ خَيْرٌ مِّنْ ...)

- (۱) مَرَأَةٌ (۲) صَدَاقَةٌ (۳) فَائِزٌ (۴) عَلِيَّةٌ

۴۸- در کدام گزینه کلمه ناهماهنگ از نظر معنایی با سایر گزینه‌ها وجود دارد؟

- (۱) شَجَرٌ (۲) قَلَّاحٌ (۳) خَدِيقَةٌ (۴) ذَهَبٌ

۴۹- ترجمه این جمله در کدام گزینه آمده است؟ (هُؤْلَاءِ الطُّلَابُ فَائِزُونَ فِي مُسَابَقَتَيْنِ)

- (۱) آن دانش‌آموزها در مسابقه‌ها برنده هستند.
(۲) این دانش‌آموزان در دو مسابقه (مسابقه‌ها) برنده هستند.
(۳) این‌ها دانش‌آموزانی هستند که در مسابقه‌ها برنده هستند.
(۴) آن‌ها دانش‌آموزانی هستند که در دو مسابقه (مسابقه‌ها) برنده هستند.

۵۰- ترجمه کدام گزینه صحیح است؟

- (۱) هَذِهِ الْبِنْتُ فِي تِلْكَ الْمَدْرَسَةِ: این دختر در آن مدرسه است.
 (۲) هَذَانِ الْجِبَلَانِ، مُرْتَفِعَانِ: این کوه بلند است.
 (۳) أَوْلَيْتَكَ الرَّجَالَ جَالِسُونَ عَلَى الْكُرَاسِيِّ: این مردها روی صندلی نشسته‌اند.
 (۴) نَحْنُ طَالِبَاتُ الْمَدْرَسَةِ: ما دانش آموز مدرسه هستیم.

۵۱- کدام گزینه جمع مذکر سالم است؟

- (۱) صَفَّانَ (۲) جَزِيرَةَ (۳) لَاعِبُونَ (۴) أَوْلَادَ

۵۲- مفهوم کدام جمله صحیح است؟

- (۱) نِعْمَتَانِ مَجْهُولَتَانِ: المِصْحَةُ وَالْأَمَانُ.
 (۲) طَلَبُ الْعِلْمِ آفَةٌ.
 (۳) فِي كُتُبِ الْقِصَصِ فَخْرٌ لِلْأَطْفَالِ فَقَطْ.
 (۴) رِضَا اللَّهِ فِي رِضَا الطُّلَابِ.

۵۳- در کدام گزینه کلمه مناسب برای پر کردن جای خالی آمده است؟

- (۱) خَيْرُ الْأُمُورِ أَوْسَطُ (الْحَشْبُ).
 (۲) هَذِهِ بِنْتُ مُحَمَّدٍ: سعيدة. (هي)
 (۳) هَذَا الْوَلَدُ فِي الْمَدْرَسَةِ. (هذا)
 (۴) عَبَّاسٌ وَ مَيْمٌ وَ هَاشِمٌ (مسروران)

۵۴- اسم اشاره مناسب برای جمله در کدام گزینه آمده است؟

- (۱) هَذَا مَكْتَبَةٌ كَبِيرَةٌ.
 (۲) هَذَانِ الْبَنَاتُ فَائِزَاتَانِ.
 (۳) هُوَ لِإِخْوَتِي نَافِذَتَانِ جَمِيلَتَانِ.
 (۴) لِهَذِهِ الْمَصْفُوفَاتِ نَافِذَتَانِ جَمِيلَتَانِ.

۵۵- نگارش در کدام گزینه با توجه به معنای مقابل آن صحیح است؟

- (۱) إِمْرَأًا: انسان، مرد (۲) حِجْرًا: سنگ (۳) دَهْرًا: روزگار (۴) عِنْدًا: نزد، کنار

انگلیسی

56- A: What's your last name?

B: It's

- 1) Bahman 2) your teacher 3) Karimi 4) Behnam Karimi

57- A: How are you today?

B:

- 1) Fine, thank 2) Great, good morning 3) Fine, thanks you 4) Great, thanks

58- A: Please yourself.

B: My name is Ali Hosseini.

- 1) introduce 2) greet 3) spell 4) talk

59- A: Good afternoon.

B:, Mr Ahmadi.

- 1) Good morning 2) Good afternoon 3) Hi 4) Great

60- Now, you say your names one one.

- 1) in 2) by 3) to 4) after

61- A: I'm Hamid Alijani.

B: Can you spell your last name?

- 1) Excuse me 2) Great 3) Hello 4) Fine

62- When an English teacher his students, he says, "Hi class! How are you?"

- 1) fills out 2) listens to 3) talks 4) greets

63- I'm Mina. your first names?

- 1) How's 2) What's 3) How are 4) What are

64- A: How do you your first name?

B: K - I - M - I - A.

- 1) check 2) greet 3) spell 4) say

65- My name is Karimi. Now, you me your names.

- 1) answer 2) ask 3) say 4) tell

پیام‌های آسمان

۶۶- آیه «وَهُوَ مَعَكُمْ أَيْنَ مَا كُنْتُمْ» به کدام صفت خداوند اشاره دارد؟

- ۱) یکتا بودن ۲) بی‌نا بودن ۳) قدرت خداوند ۴) خالق بودن

۶۷- با توجه به سوره نحل، آیه ۳۲، فرشتگان به هنگام گرفتن جان انسان‌های پاک، ابتدا به آنان چه می‌گویند؟

- ۱) بهشت گوارایتان باد. ۲) درود بر شما باد. ۳) آرام باشید. ۴) از هیچ چیز نترسید.

۶۸- تمام موارد داده شده مربوط به «دعا» می‌باشد به غیر از

- ۱) دعای هیچ‌یک از بندگان از خداوند پنهان نمی‌ماند.
۲) یکی از مهم‌ترین و ساده‌ترین راه‌ها برای جلب یاری خداوند، دعا کردن است.
۳) خداوند همه‌ی دعاها را در این دنیا مستجاب می‌کند.
۴) گاهی از خداوند چیزهایی را درخواست می‌کنیم که به مصلحتمان نیست.

۶۹- با توجه به داستان زیرک، چند مورد از گزینه‌های زیر صحیح می‌باشد؟

- الف) هیچ پادشاهی نمی‌توانست بیشتر از یکسال بر مردم حکومت کند.
ب) پادشاه زیرک، هیچ چیز از اموالش را در قصر نگه نمی‌داشت.
پ) مردم شهر، طبق رسم قدیمی، در روز معینی، در قصر جمع می‌شدند.
ت) ماموران اجازه ندادند زیرک وسایل شخصی‌اش را بردارد.

- ۱) یک مورد ۲) دو مورد ۳) سه مورد ۴) چهار مورد

۷۰- منظور خداوند از یاری او توسط ما بندگان یاری اوست و آیه‌ی بیانگر همین موضوع است.

- ۱) دین - یا أَيُّهَا الَّذِينَ آمَنُوا إِن تَنْصُرُوا اللَّهَ يَنْصُرْكُمْ.
۲) بندگان - یا أَيُّهَا الَّذِينَ آمَنُوا إِن تَنْصُرُوا اللَّهَ يَنْصُرْكُمْ.
۳) دین - قَالَ اللَّهُ خَيْرٌ حَافِظًا وَهُوَ أَرْحَمُ الرَّاحِمِينَ.
۴) بندگان - قَالَ اللَّهُ خَيْرٌ حَافِظًا وَهُوَ أَرْحَمُ الرَّاحِمِينَ.

قرآن

۷۱- حضرت نوح «ع» چند پسر داشت و چند تن از آنان ایمان آوردند؟

- ۱) ۳ پسر - ۱ تن ۲) ۴ پسر - ۱ تن ۳) ۳ پسر - ۲ تن ۴) ۴ پسر - ۳ تن

۷۲- ترجمه واژه‌های «أَكْثَرَهُمْ - ضِيَاءٌ - رَبِّكُمْ» به ترتیب در کدام گزینه به درستی بیان شده است؟

- ۱) بیشترشان - تابان - پروردگارتان ۲) بیشترشان - فروزان - پروردگارتان
۳) بیشترتان - تابان - پروردگارتان ۴) بیشترتان - فروزان - پروردگارتان

- ۷۳- ترجمه چند مورد از ترکیب‌های داده شده صحیح است؟
 «أَفَلَا تَعْقِلُونَ: پس آیا اندیشه نمی‌کنید - عَلِيٌّ كُلُّ شَيْءٍ: بر همه چیز - قُلْ يَا أَيُّهَا النَّاسُ: گفت ای مردم - وَ إِلَى تَمُودَ: و به سوی تمود»
 (۱) یک مورد (۲) دو مورد (۳) سه مورد (۴) چهار مورد
- ۷۴- هر یک از موارد زیر جز کدام یک از آداب تلاوت قرآن می‌باشد؟
 «اندیشه و تدبّر در معنای آیات - نشستن به سوی قبله - خواندن قرآن با صوت زیبا»
 (۱) باطنی - ظاهری - باطنی (۲) ظاهری - باطنی - ظاهری (۳) باطنی - ظاهری - ظاهری (۴) ظاهری - باطنی - باطنی
- ۷۵- در کلمات «بِالْمَآلِحِينَ - إِلَى السَّمَاءِ - بِالْقِسْطِ» به ترتیب چند حروف ناخوانا وجود دارد؟
 (۱) دو - سه - یک (۲) چهار - سه - یک (۳) چهار - سه - دو (۴) سه - چهار - دو

مطالعات اجتماعی

- ۷۶- چگونه روابط اجتماعی میان ما و دیگران برقرار می‌شود؟
 (۱) با ورود به اجتماع (۲) از بدو خلقت (۳) با رعایت قوانین و مقررات (۴) با احترام به حقوق دیگران
- ۷۷- در مواردی که شورای نگهبان و مجلس شورای اسلامی به توافق درباره تصویب یک قانون نمی‌رسند کدام نهاد، تصمیم نهایی را می‌گیرد؟
 (۱) مجمع تشخیص مصلحت نظام (۲) مجلس خبرگان (۳) رهبری (۴) رئیس جمهور
- ۷۸- نمایندگان مجلس برای شروع کار خود در مجلس چه کاری انجام می‌دهند؟
 (۱) ادای سوگند می‌کنند. (۲) از بین خود رئیس مجلس انتخاب می‌کنند. (۳) قوانین عادی را تصویب می‌کنند. (۴) طرح‌ها و برنامه‌های خود را به مردم ارائه می‌دهند.
- ۷۹- چرا انسان‌ها نباید برده و بنده انسان‌های دیگر باشند؟ زیرا
 (۱) آزاد آفریده شدند. (۲) عدل الهی اینگونه حکم می‌کند. (۳) دارای حقوق طبیعی هستند. (۴) حق حیات دارند.
- ۸۰- تبعه یک کشور بودن موجب می‌شود که افراد
 (۱) در یک کشور زندگی کنند. (۲) دارای حقوق طبیعی در جامعه باشند. (۳) حقوقی بر مبنای قوانین آن کشور داشته باشند. (۴) در آن کشور آزاد باشند.
- ۸۱- ما نباید نظم طبیعت را برهم بزنیم. این از
 (۱) مسئولیت‌هایمان نسبت به اعضای جامعه است. (۲) حقوق ما نسبت به اعضای جامعه است. (۳) حقوق ما نسبت به اعضای جامعه است. (۴) مسئولیت‌هایمان نسبت به محیط زندگی و عالم آفرینش است.
- ۸۲- قانون اساسی کشور براساس چه مواردی نوشته و تصویب شد؟
 (۱) حقوق مردم و حکومت (۲) بحث‌های علمی و دینی و اهداف انقلاب اسلامی (۳) عدل و حقوق ملی (۴) روابط و وظایف حکومت و مردم
- ۸۳- کدام یک از وظایف و مسئولیت‌های ما در مدرسه نیست؟
 (۱) مراقبت از اموال عمومی مدرسه (۲) احترام به معلمان (۳) گوش دادن به صحبت‌های معلم (۴) اظهار نظر مودبانه درباره مشکلات درسی
- ۸۴- ما تا کجا می‌توانیم حق خود را اعمال کنیم؟
 (۱) تا جایی که حقوق دیگران حفظ شود. (۲) تا جایی که معایر با قانون نباشد. (۳) تا جایی که به محیط زندگی و عالم آفرینش صدمه نزنیم. (۴) تا جایی که نظم محیط زندگی حفظ شود.
- ۸۵- در کدام گزینه پاسخ صحیح سوالات به ترتیب، صحیح ذکر شده است؟
 * کدام نهاد برای نوشتن قانون اساسی جمهوری اسلامی ایران تشکیل شد؟
 * کدام نهاد بر صلاحیت نامزدهای انتخاباتی نظارت دارد؟
 * نمایندگان منتخب مردم در مجلس کدام قانون یا قوانین را تهیه و تصویب می‌کنند؟
 (۱) مجلس خبرگان - شورای نگهبان - قانون اساسی (۲) شورای نگهبان - مجلس خبرگان - قوانین عادی (۳) شورای نگهبان - شورای نگهبان - قانون اساسی (۴) مجلس خبرگان - شورای نگهبان - قوانین عادی

مبحث آزمون بعدی پایه هفتم متوسطه اول
پایه پای (۲) جمع بندی - ۱۴۰۱/۰۹/۲۴

مباحث	دروس
حساب: فصل اول، دوم و سوم	ریاضی
هندسه: فصل چهارم و فصل ششم تا پایان محاسبه حجم‌های منشوری	
فیزیک: فصل دوم و هشتم و فصل نهم تا انتهای نحوه تولید برق	علوم
شیمی: فصل اول و سوم	
زیست و زمین: فصل پنجم، ششم، یازدهم و دوازدهم	
ستایش و درس اول تا چهارم و ششم	فارسی
درس اول و دوم	عربی
درس اول تا سوم	انگلیسی
درس اول تا هفتم	پیام‌های آسمان
درس اول تا پنجم	قرآن
درس اول تا یازدهم	مطالعات اجتماعی