

# ارمغان هفته - سوم دبستان

شماره‌ی

۲۱

نام و نام خانوادگی: ..... تاریخ: ..... نام آموزگار: .....

ریاضی < فصل ۸: تقسیم با باقی‌مانده و محیط اشکال هندسی مطالعات اجتماعی < درس ۲۲: ایمنی در کوچه و خیابان  
 علوم < درس ۱۴: از گذشته تا آینده  
 فارسی < درس ۱۷: چشم‌های آسمان  
 هدیه‌های آسمان < درس ۲۰: باغ همیشه بهار  
 قرآن < انس با قرآن کریم

## ریاضی

۱ تقسیم‌های زیر را حل کنید.

$$59 \overline{) 7}$$

$$66 \overline{) 9}$$

۲ باقی‌مانده‌ی کدام یک از تقسیم‌های زیر صفر می‌باشد؟

$$45 \overline{) 9}$$

$$27 \overline{) 6}$$

$$51 \overline{) 8}$$

$$42 \overline{) 7}$$

۳ می‌خواهیم ۷ کیسه‌ی ۱۲ کیلویی برنج را بین ۹ خانواده به‌طور مساوی تقسیم کنیم. به هر خانواده چند کیلو برنج می‌رسد و چقدر برنج باقی می‌ماند؟

۴ جدول زیر را کامل کنید.

ضلع	۷	۴۰	۱۲	۹۰
محیط مربع				
محیط مثلث				
محیط ۶ ضلعی				

## علوم

۱ موارد مرتبط را به یکدیگر وصل کنید.

- |              |  |
|--------------|--|
| خشک کردن     | با تبخیر آب، امکان رشد میکروب کم‌تر می‌شود.                            |
| کنسرو کردن   | در دماهای بسیار پایین فعالیت میکروب‌ها کم می‌شود.                      |
| انجماد       | در محیط‌های شور، امکان فاسد شدن ماده‌ی غذایی کم می‌شود.                |
| نمک‌دار کردن | در این روش هوا نمی‌تواند وارد محیط شود و امکان فاسد شدن غذا کم می‌شود. |

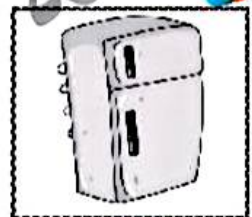
۲ کدام گزینه درست است؟

- ۱) بهتر است مواد غذایی را در دمای معمولی نگه داشت.
- ۲) هر چه دمای محیط نگه‌داری مواد غذایی کم‌تر باشد، بهتر است.
- ۳) شور کردن روشی برای نگهداری حبوبات و برنج است.
- ۴) محلول غلیظ شکر نمی‌تواند مانع فاسد شدن مواد غذایی شود.

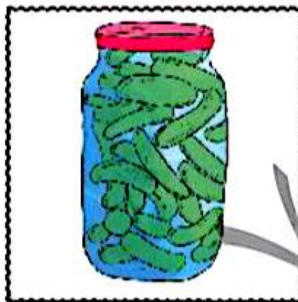
۳ الف) یک راه نگهداری طولانی مدت خیار چیست؟

ب) دو راه نگهداری طولانی مدت نان چیست؟

۴ در زمان قدیم برای نگهداری گوشت از کدام روش‌ها استفاده می‌شده است؟



۵ ماده‌ی نگهدارنده در تهیه‌ی هریک از مواد غذایی زیر چیست؟



۶ دو روش نگهداری طولانی مدت شیر که با گرما دادن انجام دارند؟

فارسی

۱ با استفاده از کلمات در هم ریخته‌ی زیر، جمله را کامل کنید.

زور - خانه‌ی - می‌خواهی - مرد - به - بگیری - ؟ - را - این،

چرا

جاهای خالی را کامل کنید.

حمد بر کردگار یکتا باد

آشنا کرد چشم

داد توفیق

در دل من محبت استاد

با توجه به کلمه‌های داده شده، جمله را بازنویسی کنید.

«ما به دانشمندان ایرانی، افتخار می‌کنیم.»

(ایرانیان)

(شهیدان شجاع)

(الف)

(ب)

در هر ردیف، حروف جا افتاده را نوشته و کلمه‌ی کامل شده را بازنویسی کنید.

ت ع ن

پ س ن ی د

ت و ق

س م م

آ ی د


برای هر شاخه یک گل زیبا بکشید و معنی کلمه‌ی درون برگ را در گل بنویسید.



مطالعات اجتماعی

چراغ راهنمایی رانندگی زیر را به صورت صحیح رنگ کنید.

در چه صورتی خودروها حق عبور دارند؟



۳

کارهای ممنوع و غیرممنوع زیر را مشخص کنید.

ممنوع است.

غیرممنوع است.

- بازی کردن در خیابان
- عبور از خط‌کشی عبور پیاده
- عبور از سطح بزرگراه‌ها وقتی که شلوغ نباشد.
- پیاده شدن از سمت تاکسی

هر تابلوی رانندگی نشان‌دهنده‌ی چیست؟



--	--	--	--	--

### هدیه‌های آسمان - قرآن

با توجه به معنی آیه جای خالی را کامل کنید.

«انَّ الْاَبْرَارَ لَفِي نَعِيمٍ»

پر نعمت هستند.

نیکوکاران در

با توجه به دلستان «باغ بهار، پدر سینا بهشت را چگونه توصیف می‌کند؟

با توجه به معنی آیه‌ی نوشته شده کارت کلمات آیه را ببرید و به ترتیب مناسب بچسبانید.

«خداوند صاحب روز قیامت است.»

--	--	--

- کلمات هم‌معنی
- قوانین و تابلوهای راهنمایی و رانندگی
- آشنایی با بهشت و روز قیامت
- معنی آیات قرآنی

- تقسیم با پالی مانده
- محیط اشکال هندسی
- روش های نگهداری طولانی مدت مواد غذایی
- جمله‌سازی و کلمه‌سازی
- ارتباط فاعل و فعل

- شاخص‌ها
- خیلی خوب
- خوب
- قابل قبول
- نیاز به تلاش بیشتر