

ریاضی اول دبستان

طرح سنجش استعداد: آبرنگ ۱ - توصیفی

زمان: ۴۵ دقیقه

صفحه چهارم آبان

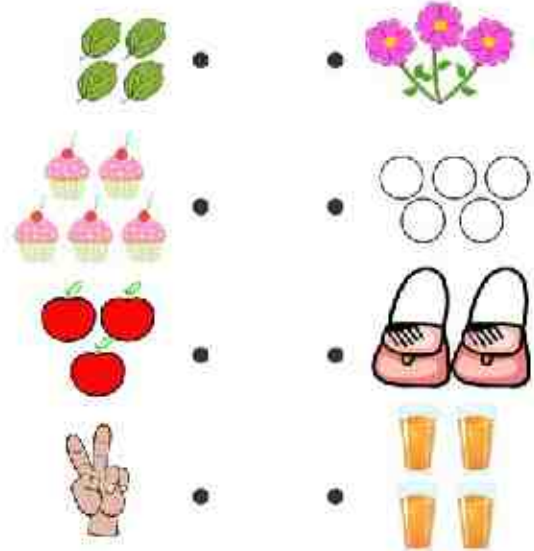
نام خانوادگی: .....

نام: .....


شماره ملی: .....

شعبه: ..... کلاس: .....

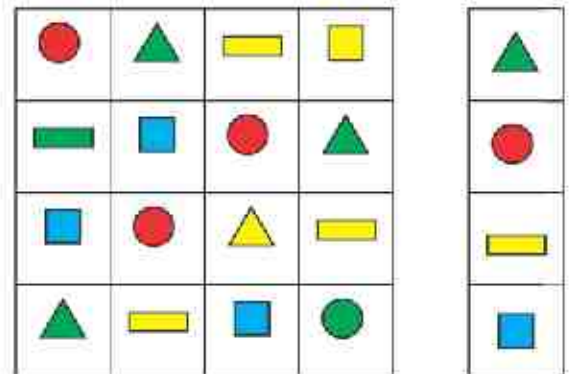
۱) دسته‌هایی که تعدادشان مثل هم است را به هم وصل کنید.



۳) در هر قسمت انگشتان یک دست را به دست دیگر انتقال و پاسخ صحیح را انتخاب کنید و دور آن خط بکشید.

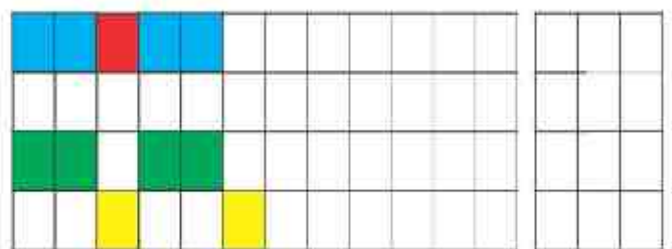


۲) با توجه به جدول سمت راست، در هر ردیف از جدول شگفت‌انگیز، کدام شکل‌ها اشتباه رنگ شده‌اند؟ روی آن علامت X بزنید.



۵) به شکل زیر نگاه کرده و موارد خواسته شده را انجام دهید.  
الف) گوشه‌های  $\triangle$  (سه گوش) را آبی کنید.  
ب) لبه‌های  $\square$  (چهار گوش) را قرمز کنید.  
پ) به تعداد گوشه‌های یک  $\square$  (مستطیل) از دایره‌های کوچک رنگ بزنید.

۴) الگوها را در هر ردیف ادامه بده و الگوی تکرارشونده را در سمت راست رسم کنید.



ت) تعداد شکلی را که هیچ گوشه‌ای ندارد با چوب‌خط نشان دهید.

