

۳) گزینه درست را انتخاب کنید.

الف) تعداد چوب‌خط‌ها روی هم چند تا است؟



۴ (۱) ۶ (۲)
۳ (۳) ۷ (۴)

ب) کدام یک از شکل‌های داده شده، گوشه ندارد؟



پ) اگر سه تا از دایره‌ها کم شود چند تا باقی می‌ماند؟



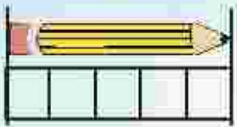
۳ (۱) ۴ (۲)
۷ (۳) ۵ (۴)

ت) کدام چوب‌خط عدد ۷ است؟



۴) پاسخ درست را انتخاب کنید و دور آن خط بکشید.

الف) بلندی عداد چند است؟ (۴ - ۵ - ۳)



ب) کدام عدد بیشتر از عدد ۵ است؟ (۴ - ۶ - ۳)

پ) اگر به ۳، دو تا اضافه کنیم چند می‌شود؟ (۶ - ۷ - ۵)

ت) کدام عدد از همه بیشتر است؟ (۶ - ۵ - ۷)

۱) لبه‌های هر شکل را شمرده و به عدد مربوطه وصل کنید.



۳ ۵ ۴ ۰

۵) جاهای خالی را به طور مناسب پر کنید.

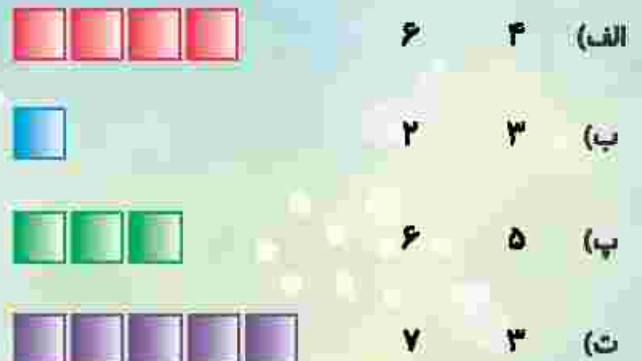
الف) قبل از عدد عدد است. (۵ - ۷ - ۴)

ب) بعد از عدد عدد است. (۵ - ۴ - ۲)

پ) اگر از یکی کم کنیم می‌شود. (۵ - ۶ - ۲)

ت) عدد مربوط به است. (۵ - ۶ - ۷)

۲) اگر به هر شکل دو تا اضافه کنیم، چند تا می‌شود؟ دور عدد درست خط بکشید.

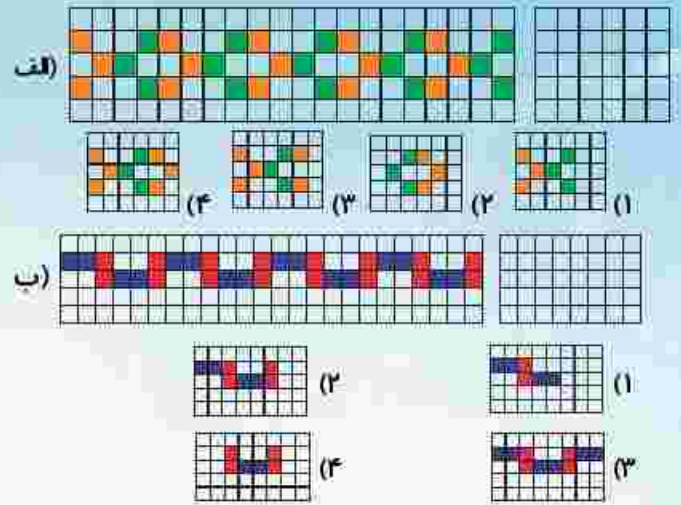


۴ ۶ ۳ ۵ ۷ ۳

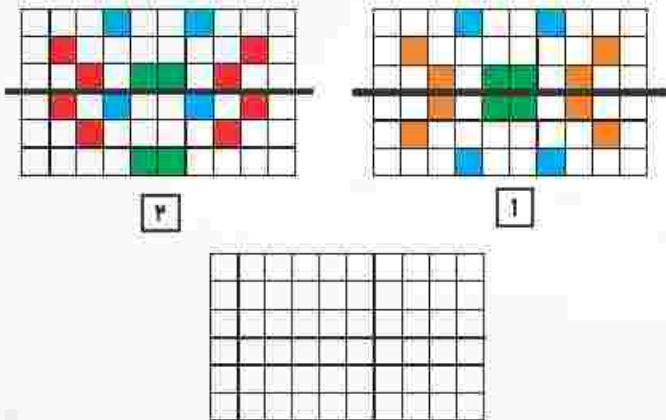
۹) مربع شگفت‌انگیز زیر را کامل کنید.

۲	۵	۱		۳	۴
۳	۴		۲	۵	۱
	۲	۵		۶	۳
۴	۶		۵	۱	۲
۵	۱	۴		۲	۶
۶	۳		۱	۴	

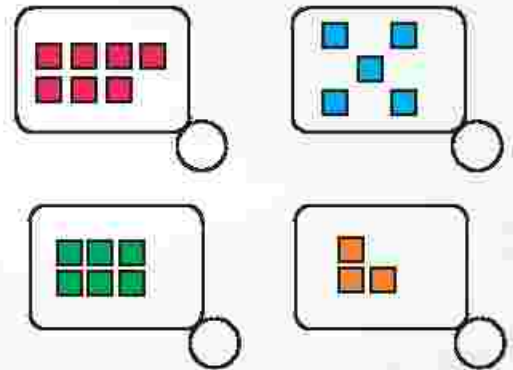
۶) در هر قسمت با توجه به الگوی تکرار شونده، در سمت راست کدام الگو باید کشیده شود؟ انتخاب کنید.



۱۰) در کدام شکل هر دو نیمه‌ی شکل مثل هم و درست رنگ شده‌اند؟ انتخاب کنید و یک الگو رسم کنید که هر دو نیمه‌ی آن شکل هم باشند.



۷) عدد هر دسته را بنویسید و عددها را روی خط به ترتیب از کمتر به بیشتر مرتب بنویسید.



۸) در هر قسمت با توجه به عدد داده شده به شکل‌ها اضافه کنید تا مساوی عدد شوند.

