

علوی

مدارس هزاره سوم

ریاضی اول دبستان

طرح سنجش استعداد: آبرنگ ۲ - توصیفی

زمان: ۷۵ دقیقه

هفته سوم ذی

نام خانوادگی:

.....

نام:

.....

شماره ملی:

.....

شعبه: کلاس:

.....

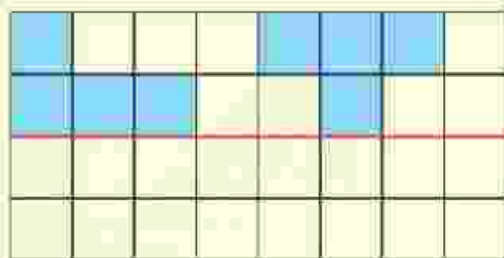
۱) شکل‌های هر دسته را شمرده و آن را به عدد یا چوب‌خط

مربوطه وصل کنید.



۴) مربع‌های خالی پایین خط را طوری رنگ کنید که دو نیمه‌ی

آن مثل هم شود.



۳) در هر قسمت دسته‌ی کمتر را با علامت ✓ و دسته‌ی بیشتر را

با علامت ✗ مشخص کنید.



۵) در هر ردیف عدد قیل و بعد را بنویسید.


..... ۶

..... ۱

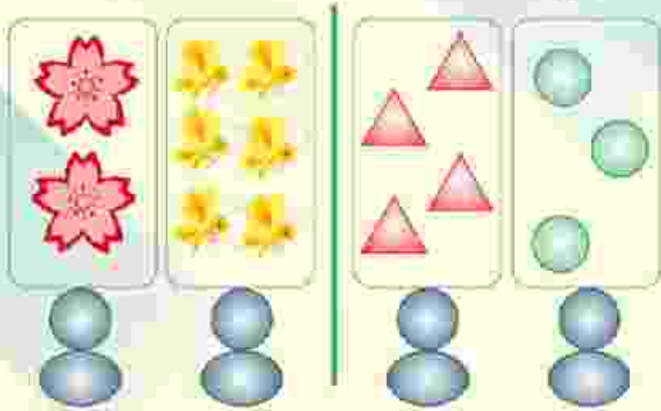
۳) در هر ردیف انگشتان یک دست را باز کرده، به مقدار

شکل‌ها انگشتان خود را بتدوید و به تعداد انگشتان باقی مانده

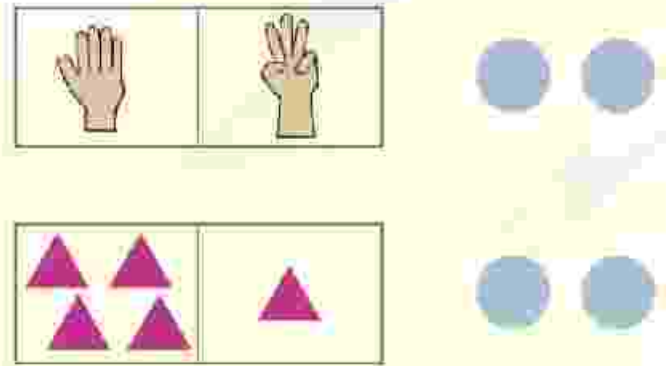
عدد صحیح را با علامت ✗ مشخص کنید.



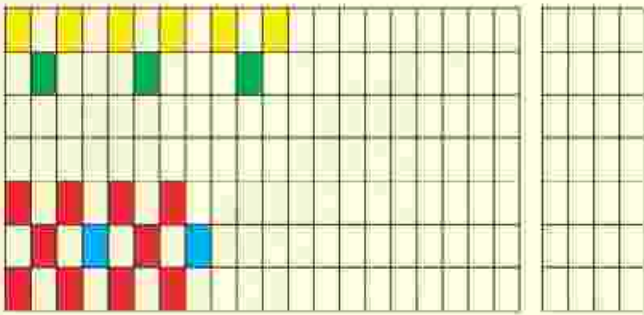
۹) در سمت راست به شکل‌ها ۲ تا اضافه کرده و در سمت چپ از هر دسته از شکل‌ها ۲ تا کم کنید، سپس پاسخ صحیح را با عدد و چوب‌خط نشان دهید.



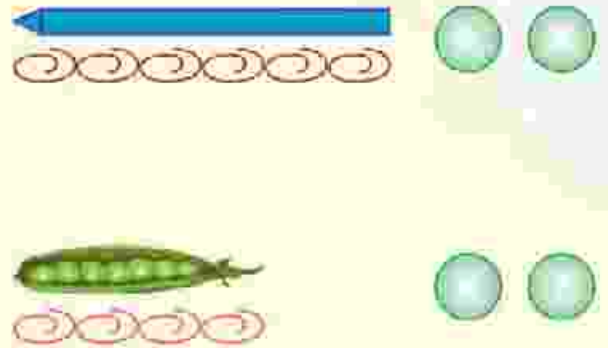
۶) اگر به تعداد شکل‌های سمت راست از شکل‌های سمت چپ برداریم چند تا باقی می‌ماند؟ عدد آن را نوشته و با چوب‌خط نشان دهید.



۱۰) در هر ردیف الگوها را به همان ترتیب ادامه دهید و شکلی را که در هر الگو تکرار می‌شود را در سمت راست بکشید.



۷) اندازه‌ی هر شکل چند تا گیره است؟ در قسمت راست تعداد گیره و در سمت چپ یکی بیشتر از آن را بنویسید.



۸) جدول شگفت‌انگیز زیر را حل کنید.

۵	۱	۴	۳	۲	
۶	۳			۴	۵
۴	۶			۱	۲
۱	۲	۵	۴	۶	۳
۲	۵			۳	۴
۳	۴	۶	۲	۵	

