


۱) برای استفاده از هر وسیله از کدام عضو بدن استفاده می‌شود؟
وصل کنید.



عنوان اول داستان

طرح سخن استفاده: آویگ ۲ - نویسی

زمانه:

هفته اول ۵۵

۷۵ دقیقه

نام

جانوادگی:

نام

.....

.....

شماره

۲) هر میوه را به فصل مور نظر آن وصل کنید.



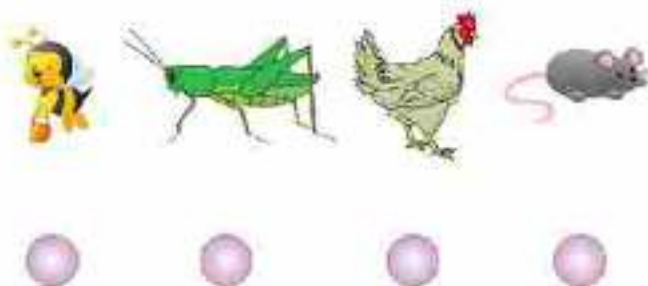
۳) خوراکی‌های مفید را با ✓ و خوراکی‌های غیر مفید را با * مشخص کنید.



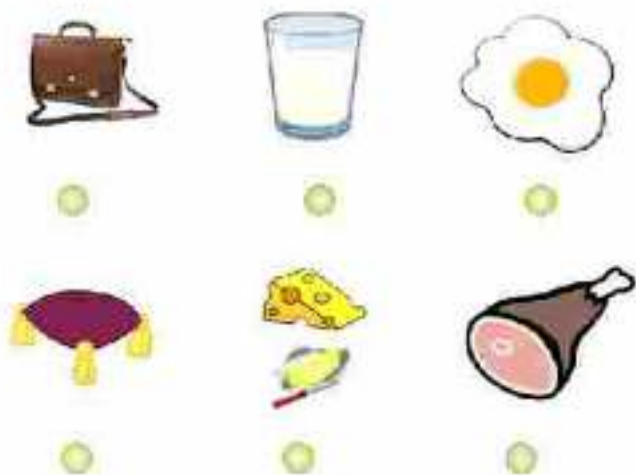
۴) در جای خالی مراحل چرخه‌ی آب را شماره گذاری کنید.



۵) در (۵) زیر تصاویر جانوران مفید را با ✓ و جانوران غیر مفید را با * مشخص کنید.




۷) کدام یک از گزینه‌های زیر جزء فواید گاو است با * مشخص کنید.



۶) از بین گزینه‌های زیر آن‌هایی که روی آب می‌مانند را علامت * بزنید.



۹) با توجه به سایه‌ها برای هر شکل یک خورشید بکشید.



۸) در هر قسمت با توجه به علامت سازمان در بالا، دور تصاویر مربوط به آن سازمان را خط بکشید.



۱۰) میوه‌ها و سبزی‌های زیر، کدام بخش خوراکی گیاه هستند. از تصاویر موجود در کادر سمت چپ انتخاب کنید.

