

۱۱) عضو مربوط به هر تصویر را به آن وصل کنید.



۴ ۳ ۲ ۱



علوی

مدارس هزاره نهم

علوم اول دبستان

طرح: سنجش استعداد: آبرنگ: ۴ - تومبلی

هفته چهارم اردیبهشت زمان: ۷۵ دقیقه

نام خانوادگی:

نام:

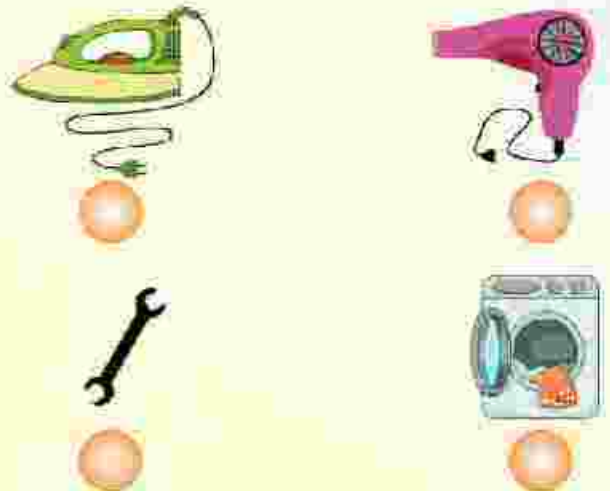
شماره ملی:

شعبه: کلاس:

۱۴) تصویر خورشید را در جای درست بکشید و درختی که سایه‌ی ظهر دارد را رنگ کنید.



۱۲) ابزار پیچیده را با علامت ✓ و ابزار ساده را با ✗ مشخص کنید.



۱۵) در هر قسمت به هر سؤال پاسخ کوتاه دهید.

الف) یک جانور که مثل مار می‌خزد را نام ببرید؟

ب) از پوست گاو چه چیزی درست می‌کنیم؟

پ) کدام جانور برای ما عسل درست می‌کند؟

ت) یک جانور که برای انسان مشکل درست می‌کند را نام ببرید؟

۱۳) در هر قسمت گزینه‌ی درست را با علامت ✓ مشخص کنید.
(الف)

۱) اگر شعله‌ی بخاری را زیاد کنیم و پنجره باز شد از هدر رفتن گرما جلوگیری کرده‌ایم.

۲) اگر شعله‌ی بخاری را کم کنیم و پنجره نیز باز باشد از هدر رفتن گرما جلوگیری کردیم.

۳) اگر شعله‌ی بخاری را کم کنیم و پنجره نیز بسته باشد از هدر رفتن گرما جلوگیری کردیم.

(ب)

۱) حرکت روی برف و یخ آسان نیست.


۲) با ماشین دارای سه چرخ هم می‌توان به راحتی حرکت کرد.

۳) داشتن چرخ به حرکت آسان وسایل کمک نمی‌کند.

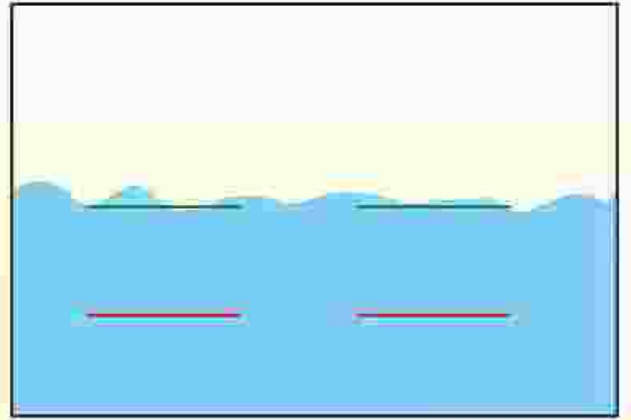
۱۹) نام قسمت‌های مختلف بدن گیاه را بنویسید و به سؤالات داخل کادر پاسخ دهید.

الف) یک گیاه با ریشه‌ی خوراکی را نام ببرید.

ب) یک گیاه با ساقه‌ی خوراکی نام ببرید.



۱۶) در تصویر زیر با توجه به سنگینی اجسام ۲ تصویر برای روی آب، و ۲ تصویر برای زیر آب نقاشی کنید.




۲۰) لباس پسر را متناسب فصل تابستان و لباس دختر را متناسب فصل زمستان رنگ آمیزی کنید.

ب)

الف)



۱۷) مراحل تشکیل باران را شماره گذاری کنید.



۱۸) دو آهن‌ریای زیر را طوری رنگ کنید که همدیگر را جذب کنند و با علامت × وسیله‌ای را که آهن‌ریا به آن آسیب می‌رساند مشخص کنید.

الف)



ب)

