

## اقتصاد

- ۱- به ترتیب صحیح یا غلط بودن هر یک از موارد زیر را در کدام گزینه به درستی آمده است؟  
 - کارآفرینان موفق براساس ویژگی مشترک یادگیرنده بودن، نظم و انضباط و پایداری و توانایی حل مسئله را دارند.  
 - در ایران سالانه بیش از صد هزار شرکت ثبت می‌شود، اما بسیاری از کسب و کارهای نوپا عمر کوتاهی دارند و تنها نیمی از آنها می‌توانند از شش سالگی عبور کنند و به کارشان ادامه بدهند.  
 - بیست سال پیش هیچ کس درباره شبکه اجتماعی چیزی نشنیده بود. امروزه در ایران از هر ده نفر چهار نفر از یکی از شبکه‌های اجتماعی استفاده می‌کنند.  
 - کارآفرین لازم است تا آگاهی و دانش زیادی برای اتخاذ تصمیمات مناسب درباره موقعیت شرکت، پیشنهاد محصول، قیمت گذاری، تبلیغات و استخدام نیروی کار داشته باشد.

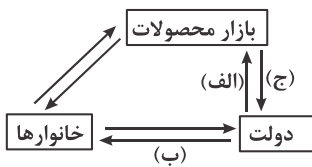
(۴) غ - ص - غ - ص

(۳) غ - ص - ص - غ

(۲) ص - غ - ص - غ

(۱) ص - غ - غ - ص

- ۲- براساس قسمتی از نمودار چرخشی ارائه شده در جریان تعاملات اقتصادی مقابل کدام گزینه بیانگر مصادیق «الف»، «ب» و «ج» می‌باشد؟



- (۱) الف) خریدهای دولت (ب) کالاها و خدمات (ج) کالاها و خدمات  
 (۲) الف) پرداخت عوامل تولید (ب) خریدهای دولت (ج) مالیات  
 (۳) الف) خریدهای دولت (ب) پرداخت عوامل تولید (ج) مالیات  
 (۴) الف) پرداخت عوامل تولید (ب) کالاها و خدمات (ج) کالاها و خدمات

- ۳- با توجه به نمودار بازار ارائه شده مطلوب است:

الف) قیمت تعادلی؟

ب) نمودار عرضه با کدام حرف نمایش داده شده است؟

ج) کدام حرف فاصله مازاد تقاضا بر عرضه را نشان می‌دهد؟

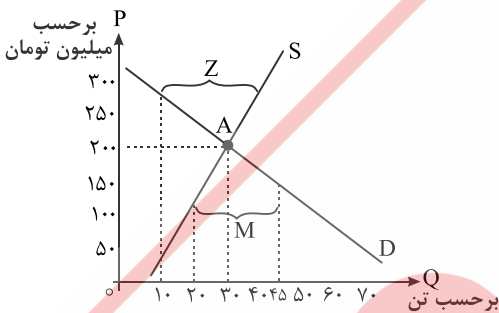
د) فاصله مازاد عرضه بر تقاضا چقدر است؟

(۱) الف) ۲۰۰ (ب) D (ج) Z (د) ۲۵

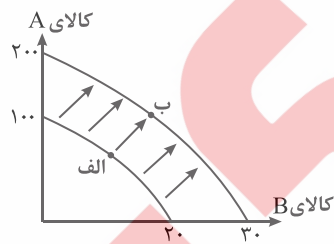
(۲) الف) ۳۰ (ب) S (ج) Z (د) ۳۰

(۳) الف) ۲۰۰ (ب) S (ج) M (د) ۳۰

(۴) الف) ۳۰ (ب) D (ج) M (د) ۲۵



- ۴- براساس منحنی الگوی مرز امکانات تولید به فرض اینکه یک بنگاه تولیدی و کالای A و B را تولید می‌کند، حرکت وضعیت تولید این بنگاه از نقطه الف) به نقطه ب) به چه معنا است؟



(۱) این بنگاه بخشی از منابع غیرفعال خود را به تولید کالای A و بخش دیگر را به تولید کالای B اختصاص داده است.

(۲) این بنگاه به سوی نقطه خارج از توان تولید در کالای A و B حرکت کرده است و این نقطه ناکارا است.

(۳) این بنگاه به سوی نقطه خارج از توان تولید در کالای A و B حرکت کرده و این نقطه کارا می‌شود.

(۴) این بنگاه برنامه افزایش تولید کالای A و B را بصورت کارآمد در دستور کار خود دارد.

۵- اطلاعات مندرج در جدول شاخص دهک ارائه شده در کشور «X» می‌باشد، چنانچه:

- تفاوت سهام دهک اول و پنجم ۶ درصد باشد و تفاوت سهام دهک سوم و ششم ۵ درصد باشد. تفاوت دهک دهم با دهک چهارم ۱۸ درصد باشد در اینصورت سهم دهک‌های پنجم، سوم و چهارم به ترتیب چند درصد است؟

دهک اول	۲ درصد
دهک دوم	۳ درصد
دهک سوم	(؟) درصد
دهک چهارم	(؟) درصد
دهم پنجم	(؟) درصد
دهک ششم	۱۰ درصد
دهک هفتم	۱۲ درصد
دهک هشتم	۱۵ درصد
دهک نهم	۱۸ درصد
دهک دهم	۲۳ درصد
۱۰۰ درصد جمعیت	۱۰۰ درصد سهم درآمد ملی

(۴) ۷-۷-۴

(۳) ۷-۶-۵

(۲) ۸-۶-۴

(۱) ۸-۵-۵

۶- موارد کدام گزینه به ترتیب تکمیل کننده جملات زیر است؟

(الف) الگوی پیشرفت اسلامی - ایرانی ..... حرکتی مستمر و بلند مدت است.

(ب) در گزارش توسعه انسانی ایران در رتبه ..... و جزء کشورهای با توسعه یافتگی ..... به شمار می‌رود.

(۱) تکمیل - ۳۵ - بالا (۲) آغاز - ۶۵ - پایین (۳) آغاز - ۶۵ - بالا (۴) تکمیل - ۳۵ - پایین

۷- پاسخ دهید:

- افزایش نقدینگی اکثراً ناشی از چیست؟

- در حالتی که جامعه با تورم اقتصادی مواجه است بانک مرکزی از چه سیاستی استفاده می‌کند؟

- کدام وظیفه پول در روزگار ما کاملاً محسوس است؟

(۱) عملکرد بانکها - انقباضی - وسیله پرداخت‌های آینده (۲) تورم - انبساطی - وسیله پس‌انداز و حفظ ارزش

(۳) عملکرد بانکها - انبساطی - وسیله پرداخت‌های آینده (۴) تورم - انقباضی - وسیله پس‌انداز و حفظ ارزش

۸- چنانچه در یک جامعه فرضی میزان تولید کل در سه سال پی‌درپی ۵۰۰۰، ۵۷۳۰ و ۵۹۰۰ میلیارد تومان باشد، با انتخاب سال اول به عنوان سال

پایه مقدار تولید کل جامعه در سه سال مورد نظر برحسب قیمت‌های سال اول (سال پایه) ۵۰۰۰، ۵۲۱۰، ۴۸۲۰ هزار میلیارد تومان تغییر باید

براساس این محاسبات: (توجه داشته باشید ارقام گزینه‌ها بر هزار میلیارد تومان است.)

(الف) افزایش مقدار تولید در سال دوم چقدر است؟ (ب) افزایش مقدار تولید در سال سوم چقدر است؟

(ج) افزایش قیمت‌ها در سال دوم چقدر است؟ (د) افزایش قیمت‌ها در سال سوم چقدر است؟

(۱) الف (۷۳۰ ب) ۹۰۰ ج (۲۱۰ د) ۱۸۰ (۲) الف (۹۰۰ ب) ۷۳۰ ج (۱۸۰ د) ۲۱۰

(۳) الف (۱۸۰ ب) ۲۱۰ ج (۹۰۰ د) ۷۳۰ (۴) الف (۲۱۰ ب) ۱۸۰ ج (۷۳۰ د) ۹۰۰

۹- هر یک از موارد زیر به کدام نوع بیکاری اشاره دارد؟

- کسانی که به امید یافتن شغل بهتر هستند.

- کسانی که به تازگی در حال ورود به بازار کار هستند.

- بیکاری ناشی از عدم تطبیف بین افراد و جویای کار و انواع شغل موجود.

- بیکاری که هنگام رکود اقتصادی رخ می‌دهد.

(۱) اصطکاکي - اصطکاکي - دوره‌ای - ساختاری (۲) ساختاری - ساختاری - اصطکاکي - دوره‌ای

(۳) اصطکاکي - اصطکاکي - ساختاری - دوره‌ای (۴) ساختاری - ساختاری - دوره‌ای - اصطکاکي

۱۰- براساس اصل مزیت اقتصاد کدام نوع مزیت در انجام امور تجاری باید مبنای اصلی قرار گیرد؟ کدام نوع اختلاف مبنای شکل گیری، تجارت بین کشورها می باشد؟

(۱) مزیت مطلق - بده، بستان

(۲) مزیت نسبی - بده، بستان

(۳) مزیت مطلق - تک محصولی شدن

(۴) مزیت نسبی - تک محصولی شدن

۱۱- با توجه به اطلاعات ارائه شده جدول زیر، عملکرد اقتصادی سالیانه یک بنگاه اقتصادی با ۵۰ نفر کارمند و تولید سالیانه ۳۰۰۰ دستگاه، هر یک به ارزش ۶/۰۰۰/۰۰۰ تومان کدام است؟

۱	حقوق متوسط ماهانه هر یک از کارکنان	۲۰/۰۰۰/۰۰۰ تومان
۲	اجاره بهای ماهیانه کارگاه تولید	۴۰۰/۰۰۰/۰۰۰ تومان
۳	خرید مواد اولیه مورد نیاز سالیانه	۹۰۰/۰۰۰/۰۰۰ تومان
۴	هزینه استهلاک یا فرسودگی سالیانه ماشین های تولید	$\frac{۳}{۵}$ درآمد سالیانه کارکنان

(۱) ۱۱/۹۱۶/۰۰۰/۰۰۰ تومان ضرر (۲) ۱۱/۹۱۶/۰۰۰/۰۰۰ تومان سود (۳) ۶/۰۸۴/۰۰۰/۰۰۰ تومان سود (۴) ۶/۰۸۴/۰۰۰/۰۰۰ تومان ضرر

۱۲- مالیات بر ارزش افزوده به چه صورتی دریافت می شود؟ این نوع مالیات با ایجاد و شفافیت، چه امری را کاهش داده و از چه چیزی جلوگیری می کند؟ در این نوع مالیات کدام تولیدات از مالیات معاف می شوند؟

(۱) تک مرحله ای - فرار مالیاتی - مالیات ستانی مضاعف - کالاها و خدمات مصرفی

(۲) چند مرحله ای - فرار مالیاتی - مالیات ستانی مضاعف - کالاها و خدمات واسطه ای

(۳) تک مرحله ای - تورم - کاهش نقدینگی و حجم پول - کالاها و خدمات مصرفی

(۴) چند مرحله ای - تورم - کاهش نقدینگی و حجم پول - کالاها و خدمات واسطه ای

۱۳- سایر کشورها به تلافی کدام اقدام ایالت متحده آمریکا تجارت خود را با این کشور کاهش دادند؟ مهم ترین امری که پشت سر امضای پیمان های تجاری و یا نقض آن بود چیست؟ پیمان تجارت آزاد که در سال ۱۹۹۲م بین آمریکا، کانادا، مکزیک امضا شد، چه نام دارد؟

(۱) افزایش تعرفه گمرکی ۵۲ درصدی بین دو جنگ جهانی - سود نظام های سرمایه داری - گات

(۲) بازگشت مجدد آمریکا در دهه ۷۰ به سیاست های حمایت گرایانه از تولید داخلی - منافع ملی - نفتا

(۳) افزایش تعرفه گمرکی ۵۲ درصدی بین دو جنگ جهانی - منافع ملی - نفتا

(۴) بازگشت مجدد آمریکا در دهه ۷۰ به سیاست های حمایت گرایانه از تولید داخلی - سود نظام های سرمایه داری - نفتا

۱۴- براساس معیارهای بانک جهانی کدام شاخص ها معیاری برای رتبه بندی کشورها از نظر فقر در نظر گرفته شده است؟ تعریف فقر به وضعیتی که ما در آن هستیم کدام نوع فقر را در بر می گیرد؟

(۱) تولید ناخالص داخلی (GDP) یا درآمد سرانه - فقر نسبی

(۲) تولید ناخالص ملی (GNP) یا نسبت دهک ها - فقر مطلق

(۳) تولید ناخالص داخلی (GDP) یا درآمد سرانه - فقر مطلق

(۴) تولید ناخالص ملی (GNP) یا نسبت دهک ها - فقر نسبی

۱۵- براساس تاریخچه و مباحث پیرامون وظایف و کارکردهای پول به سؤالات زیر در کدام گزینه پاسخ مناسب داده شده است؟

- اولین نوع مبادله بشر؟

- اولین عنوان پول؟

- کالای معیار در کشور هندوستان؟

- کدام نوع پول توسط بانکداران بوجود آمده است؟

(۱) کالاهای معیار - مسکوکات - چای - اسکناس

(۲) کالاهای معیار - کالای معیار - صدف - پول تحریری

(۳) تهاتری - کالاهای معیار - صدف - پول تحریری

(۴) تهاتری - مسکوکات - چای - اسکناس