

۱- مشخص کنید کدام یک از موارد زیر در علم اقتصاد کار آفرینی محسوب می‌شوند؟

- (الف) کار یک خیاط در مغازه‌اش
(ب) به استخدام آتش‌نشانی درآمدن
(ج) انجام کار در خانه (بسته‌بندی محصولات)
(د) احداث و راه‌اندازی مهد کودک

(۱) الف - ب (۲) ج - د (۳) الف - ج (۴) ب - د

۲- در هر یک از مثال‌های زیر به کدام یک از ویژگی‌های مشترک کارآفرینان موفق تاکید شده است؟

(الف) مرتضی می‌خواهد مزرعه پرورش ماهی راه‌اندازی کند، او علی‌رغم اینکه اطرافیانش دائماً دلسردش کرده و ضرر اقتصادی را در این فعالیت به او گوشزد می‌کنند، در انجام این کار مصمم است.

(ب) سینا دانشجوی رشته مهندسی می‌باشد که می‌خواهد با تغییر سیستم عملکرد دستگاه‌های معیوب آنها را به چرخه تولید یک کارخانه برگرداند.

- (۱) الف) ریسک‌پذیر (ب) نوآور
(۲) الف) پرانگیزه (ب) سازمان‌دهنده
(۳) الف) ریسک‌پذیر (ب) پرانگیزه
(۴) الف) خوش‌بین (ب) پرانگیزه

۳- جزء معایب کدام نوع کسب و کار بار سنگین مسئولیت می‌باشد و جزء مزایای اختصاصی کدام نوع کسب و کار تخصصی‌گرایی بیشتر است؟

- (۱) شخصی - شرکت (۲) شرکت - شخصی
(۳) شرکت - شرکت (۴) شخصی - شخصی

۴- پاسخ دهید: «امروزه اغلب کسب و کارها در ایران به چه شکلی هستند و در ایران سالانه بیش از چند شرکت ثبت می‌شود؟»

- (۱) شخصی - بیش از ۲۵۰ هزار شرکت
(۲) شرکت - بیش از ۱۰۰ هزار شرکت
(۳) شخصی - بیش از ۱۰۰ هزار شرکت
(۴) شرکت - بیش از ۲۵۰ هزار شرکت

۵- براساس اصول درست کسب و کار طبق کدام اصل افراد مجبورند بین گزینه‌های خود بده - بستان کنند؟ طبق این اصول پولی که در جریان

هزینه‌های دررفته از بین رفته است چگونه تشبیه شده است؟

- (۱) قیدبودجه - پولی که به یک چاه عمیق افتاده است.
(۲) مرز امکانات تولید - مبالغی که مانند آب ریخته شده دیگر بر نمی‌گردد.
(۳) قیدبودجه - مبالغی که مانند آب ریخته شده دیگر بر نمی‌گردد.
(۴) مرز امکانات تولید - پولی که به یک چاه عمیق افتاده است.

۶- برای اینکه در جریان انتخاب کسب و کار تصمیم منطقی داشته باشیم، پیش شرط آن چیست؟ در ضمن سرمایه‌گذاری در زمینه‌های پرخطر

مبین کدام یک از اشتباهات رایج در تصمیم‌گیری می‌باشد؟

- (۱) بین هزینه‌ها و منافع خود مقایسه کنیم - بی‌صبری زیاد
(۲) براساس الگوی مرز امکانات تولید عمل کنیم - بی‌صبری زیاد
(۳) بین هزینه‌ها و منافع خود مقایسه کنیم - اعتماد به نفس بیش از حد یا خود رأی بودن
(۴) براساس الگوی مرز امکانات تولید عمل کنیم - اعتماد به نفس بیش از حد یا خود رأی بودن

۷- در علم اقتصاد سرحدی که یک کسب و کار با استفاده از منابع موجود و در دسترس می‌تواند تولید کند و هر آنچه نمی‌تواند تولید کند را چه

می‌نامند؟ در این زمینه کدام اصطلاح اقتصادی به معنای یافتن موقعیت‌هایی برای پیشرفت عنوان شده است؟

- (۱) قید بودجه - کارایی (۲) مرز امکانات تولید - کارایی (۳) قید بودجه - بهره‌وری (۴) مرز امکانات تولید - بهره‌وری

۸- کدام یک از موارد زیر جزء وظایف اصلی دولت در اقتصاد نمی‌باشد؟ مهم‌ترین وظیفه دولت در اقتصاد قبل از ورود به بازار چیست؟

- (۱) ارائه کالای عمومی - سیاست‌گذاری اقتصادی
(۲) تعریف و اجرای حقوق مالکیت - سیاست‌گذاری اقتصادی
(۳) بهبود عملکرد بازار - وظیفه نظارتی
(۴) قیمت‌گذاری و جلوگیری از نوسانات بازار - وظیفه نظارتی

۹- به ترتیب مشخص کنید: «عوارض گمرکی و خدماتی - مالیات بر مصرف، مالیات بر درآیی - مالیات بر ارزش افزوده» به چه شیوه‌ای دریافت می‌شود؟

- (۱) غیرمستقیم - غیرمستقیم - مستقیم - غیرمستقیم
(۲) غیرمستقیم - مستقیم - مستقیم - غیرمستقیم
(۳) مستقیم - غیرمستقیم - غیرمستقیم - مستقیم
(۴) مستقیم - مستقیم - غیرمستقیم - مستقیم

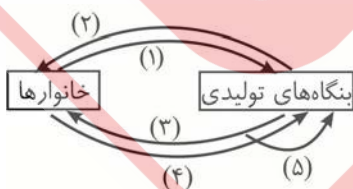
۱۰- براساس نمودار جریان چرخشی ساده ارائه شده به سئوالات زیر پاسخ دهید؟

(الف) معیار اولیه و اصلی مطالعات اقتصادی، بررسی کدام رفتار اقتصادی می‌باشد؟

(ب) مسیر «۲» بیانگر چیست؟

(ج) مسیر «۵» نمایانگر چیست؟

(د) مسیر «۴» چه امری را تبیین می‌کند؟



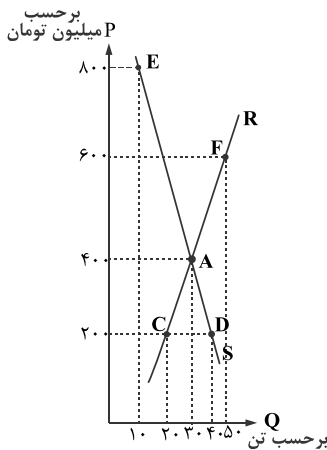
(۱) الف) بنگاه‌های تولیدی (ب) مسیر هزینه‌ای (ج) کالاهای سرمایه‌ای (د) مسیر درآمدی

(۲) الف) خانوارها (ب) مسیر هزینه‌ای (ج) کالاهای سرمایه‌ای (د) مسیر درآمدی

(۳) الف) خانوارها (ب) مسیر درآمدی (ج) کالاهای واسطه‌ای (د) مسیر هزینه‌ای

(۴) الف) بنگاه‌های تولیدی (ب) مسیر هزینه‌ای (ج) کالاهای واسطه‌ای (د) مسیر هزینه‌ای

۱۱- براساس نمودار بازار ارائه شده مطلوب است:



(الف) نمودار عرضه و تقاضا؟

(ب) مقدار و قیمت تعادل؟

(ج) نقطه D بیانگر کدام شرایط نوسان اقتصادی در بازار است؟

(د) در نقطه E به چه میزان مازاد یا کمبود، در عرضه یا تقاضا داریم؟

(۱) الف (S و R) (ب) (۳۰، ۴۰۰) (ج) کمبود تقاضا (د) مازاد تقاضا؛ ۴۰۰

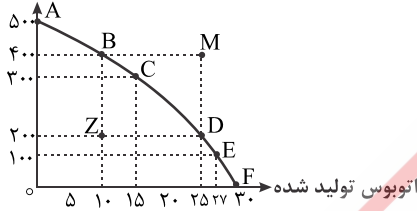
(۲) الف (S و R) (ب) (۳۰، ۴۰۰) (ج) مازاد تقاضا (د) کمبود تقاضا؛ ۲۰

(۳) الف (S و R) (ب) (۳۰، ۴۰۰) (ج) کمبود تقاضا (د) مازاد تقاضا؛ ۲۰

(۴) الف (S و R) (ب) (۳۰، ۴۰۰) (ج) مازاد تقاضا (د) کمبود تقاضا؛ ۴۰۰

۱۲- براساس الگوی مرز امکانات تولید ارائه شده مطلوب است:

خودروی سواری تولید شده



(الف) بیشترین تولید سواری در کدام نقطه و بیشترین تولید اتوبوس در کدام نقطه می‌باشد؟

(ب) در شرایط تحریم نمودار مرز امکانات تولید ناگزیر به سمت کدام نقطه حرکت می‌کند؟

(ج) کدام یک از نقاط ناکارا خارج از توان تولید بوده و در مجموع چه میزان تولید اتوبوس و سواری را در این نقطه نمایش می‌دهد؟

(۱) الف (A, F) (ب) Z (ج) M, ۲۵ و ۴۰۰

(۲) الف (A, F) (ب) Z (ج) M, ۲۰ و ۱۰

(۳) الف (A, F) (ب) Z (ج) M, ۲۵ و ۴۰۰

(۴) الف (A, F) (ب) Z (ج) M, ۲۰ و ۱۰

۱۳- در یک بنگاه تولیدی فرضی، کالای (الف) از شروع فعالیت تا رسیدن به مصرف کننده نهایی سه مرحله را طی می‌کند، اگر قیمت این کالا بدون

محاسبه مالیات بر ارزش افزوده مطابق جدول زیر باشد و مجموع مالیات بر ارزش افزوده، جمع آوری شده ۸۰۰۰ تومان باشد مطلوب است:

(الف) مالیات بر ارزش افزوده خالص جمع آوری شده در مرحله سوم چقدر است؟

(ب) قیمت فروش با مالیات بر ارزش افزوده مرحله دوم چقدر است؟

| | |
|----------------|----------------|
| قیمت مرحله (۱) | ۵۰ هزار تومان |
| قیمت مرحله (۲) | ۸۰ هزار تومان |
| قیمت مرحله (۳) | ۱۲۰ هزار تومان |

(۱) الف (۱۲ هزار تومان) (ب) ۸۸ هزار تومان

(۲) الف (۱۲ هزار تومان) (ب) ۱۲۰ هزار تومان

(۳) الف (۹ هزار تومان) (ب) ۸۸ هزار تومان

(۴) الف (۹ هزار تومان) (ب) ۱۲۰ هزار تومان

۱۴- اگر دو کشور فرضی X و Y داشته باشیم که هر دو کشور به یک اندازه از عوامل تولید و فناوری برخوردارند هر دو کشور توانایی تولید مواد غذایی و

پوشاک را دارند. همچنین هر کشور ۴۰۰ واحد منبع برای تولید دارد. کشور Y برای تولید هر تن مواد غذایی ۴ واحد از منابع خود را صرف می‌کند و برای

تولید ۱ میلیون پوشاک نیازمند ۱۵ واحد از منابع است. در طرف مقابل کشور X برای تولید هر تن مواد غذایی ۹ واحد از منابع خود را صرف می‌کند و

برای تولید ۱ میلیون پوشاک در این کشور نیازمند ۳ واحد از این منابع است. در این صورت کدام گزینه صحیح است؟

(۱) براساس مزیت مطلق کشور X باید به تولید پوشاک بپردازد و مواد غذایی مورد نیاز خود را از کشور Y وارد کند.

(۲) کشور X در تولید پوشاک و مواد غذایی نسبت به کشور Y مزیت اقتصادی ندارد. بنابراین براساس اصل مزیت نسبی کشور X باید در تولید مواد غذایی

متمرکز شود و مواد غذایی مورد نیاز خود را از کشور Y وارد کند.

(۳) براساس اصل مزیت مطلق کشور Y باید به تولید مواد غذایی بپردازد و پوشاک مورد نیاز خود را از کشور X وارد کند.

(۴) کشور Y در تولید پوشاک و مواد غذایی نسبت به کشور X مزیت اقتصادی ندارد. بنابراین بر اساس اصل مزیت نسبی کشور Y باید در تولید پوشاک متمرکز

شود و مواد غذایی مورد نیاز خود را از کشور X وارد کند.

۱۵- پاسخ دهید:

(الف) در دوره بین دو جنگ جهانی، کارگران و تولید کنندگان، کنگره آمریکا را متقاعد کردند، تعرفه گمرکی را چند درصد افزایش دهد؟

(ب) قرارداد «گات» در چه سالی و توسط چند کشور در ابتدا به صورت غیررسمی امضا شد؟

(۱) الف (۱۹۴۴؛ ۴۵ کشور) (ب) (۵۲٪) (۱۹۴۴؛ ۴۵ کشور)

(۲) الف (۱۹۴۴؛ ۴۵ کشور) (ب) (۳۷٪) (۱۹۴۴؛ ۴۵ کشور)

(۳) الف (۱۹۴۷؛ ۲۳ کشور) (ب) (۵۲٪) (۱۹۴۷؛ ۲۳ کشور)

(۴) الف (۱۹۴۷؛ ۲۳ کشور) (ب) (۳۷٪) (۱۹۴۷؛ ۲۳ کشور)