

نام خانوادگی: .....

نام: .....

شماره ملی: .....

شعبه: ..... کلاس: .....

۳) گزینه‌ی صحیح را مشخص کنید.

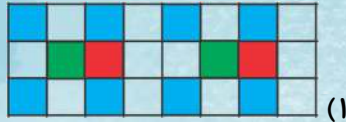
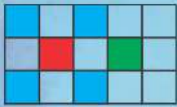
الف) چوب‌خط شکل‌های سمت چپ و راست با هم چندتا است؟



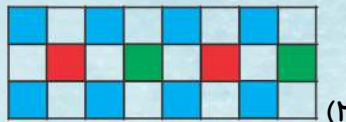
۲) ###

۱) ///

ب) با توجه به نمونه‌ی داده شده، الگوی درست را انتخاب کنید.

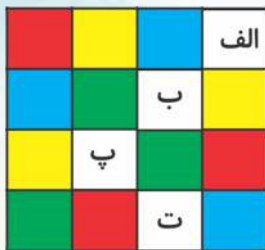


۱)



۲)

۴) جدول شگفت‌انگیز را حل کنید.



۱) شکل‌هایی که تعدادشان مثل هم است را به هم وصل کنید.



۱)



الف)



۲)



ب)



۳)



پ)




۴)



ت)

۵) انگشتان یک دست خود را باز کنید به تعداد شکل‌ها، انگشتان

خود را ببندید و به تعداد انگشت‌های باقی مانده چوب‌خط بکشید.



۲) درست یا نادرست بودن جملات داده شده را مشخص کنید.

درست    نادرست



الف) سه گوشه دارد.



ب) پنج لبه دارد.



پ) اگر به دو شکل اضافه

شود می‌شود



ت) یکی قبل از می‌شود