

طرح سنجش استعداد: مداخله‌ی ۱ - توصیفی
مدت پاسخگویی و انجام فعالیت: ۴۵ دقیقه

درس: استعداد فضایی دوم دبستان

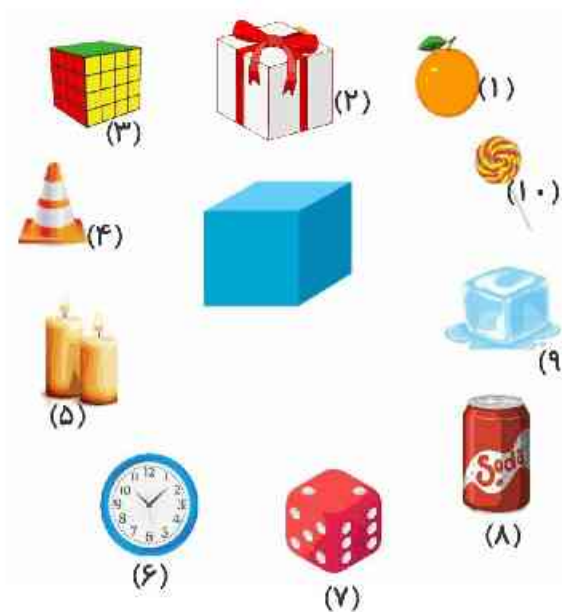
زمان برگزاری: هفته سوم آبان

علوی

فعالیت‌های استعداد فضایی پایه‌ی دوم

فعالیت ۱

۱۶- شکل‌های شبیه به  را به آن وصل کنید.



فعالیت ۲

۱۷- در آسمان شب ستاره‌های زیادی وجود دارد، ستاره‌های زیر شبیه به چه حیوانی هستند؟



طرح سنجش استعداد: مداد قرمز ۱ - توصیفی
مدت پاسخگویی و انجام فعالیت: ۴۵ دقیقه

درس: استعداد فضایی دوم دبستان
زمان برگزاری: هفته سوم آبان

علوی

فعالیت ۳

۱۸- تصویر زیر، نقشه‌ی محله‌ی علی است.



الف) اگر علی در خانه و برادرش در کتابخانه باشد، کدام یک به اداره‌ی پست نزدیک‌تر هستند؟

ب) اداره‌ی پست بین کدام دو ساختمان قرار دارد؟

پ) در سمت راست پارک، کدام ساختمان قرار دارد؟

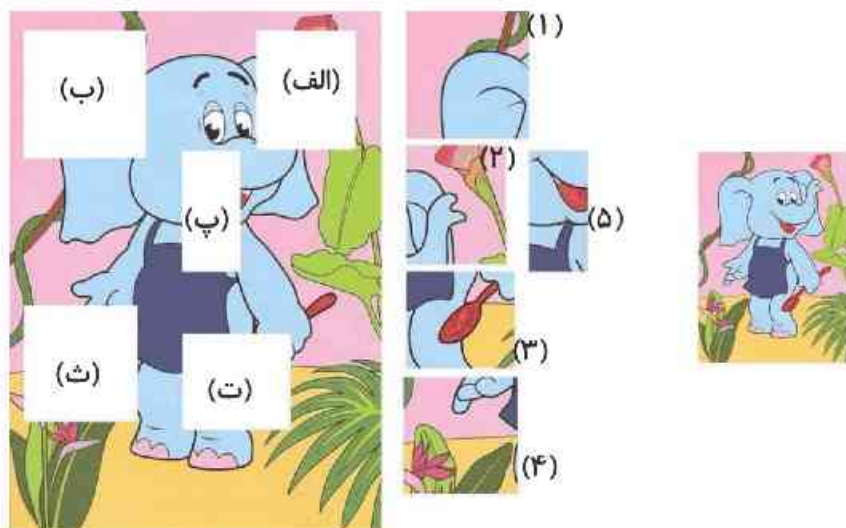
فعالیت ۴

۱۹- از به هم چسباندن کدام سه شکل، ساخته می‌شود؟



فعالیت ۵

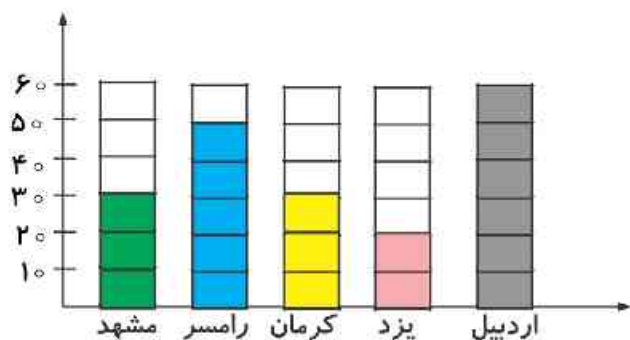
۲۰- با دقت به تصویر فیل و قطعات پازل آن نگاه کنید. در هریک از خانه‌های مشخص شده، کدام قطعه قرار می‌گیرد؟



- (الف)
- (ب)
- (پ)
- (ت)
- (ث)

فعالیت ۶

۲۱- در نمودار زیر، تعداد مسافران به شهرهای مختلف ایران در تعطیلات شهریور سال ۱۴۰۱ مشخص شده است.



(الف) مسافرت به کدام شهر بیشتر بوده است؟

(ب) مسافرت به کدام شهر کمتر بوده است؟

(پ) تعداد مسافران در کدام دو شهر برابر بوده است؟