

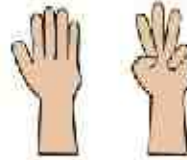

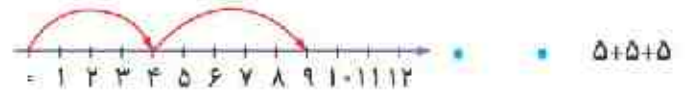
نام خانوادگی:

نام:

شماره ملی:

شعبه: کلاس:

(۱) هر عبارت را به تصویر مربوط به آن وصل کنید.



۵+۵+۵

۴+۵

۲۳-۳

۵+۳

(۲) با توجه به ساعت زیر جاهای خالی را کامل کنید.



الف) ساعت از گذشته و به مانده است.

ب) ساعت و دقیقه است.

پ) هر یک ساعت برابر دقیقه است.

(۲) با توجه به جمله داده شده درستی یا نادرستی جملات زیر را مشخص کنید.

هر طبقه از یک ساختمان با ۳ چینه درست شده است.

نادرست درست



الف) ۲ طبقه از ۶ چینه درست شده است.



ب) ۴ طبقه از ۱۰ چینه درست شده است.



پ) برای ساخت ۵ طبقه، ۱۵ چینه لازم داریم.

(۵) مسئله‌ها را بخوانید و به روش فرآیندی حل کنید.

الف) درنا ۲ دسته‌ی ده‌تایی و ۵ یکی مداد قرمز و برنا ۳ دسته‌ی

ده‌تایی و ۴ یکی مداد آبی دارد. آن‌ها روی هم چند مداد دارند؟

ب) دانش‌آموزان کلاس دوم ۵۷ دقیقه ریاضی خواندند و ورزش

کردند. اگر ریاضی خواندن آن‌ها ۳۵ دقیقه زمان برده باشد،

دانش‌آموزان چند دقیقه ورزش کردند؟

(۴) گزینه‌ی صحیح را مشخص کنید.

الف) من کدام عدد هستم، یک‌انم ۸ و ده‌گانم ۳ تا کمتر از یک‌انم است؟

۵۸ (۲)

۸۵ (۱)

۸۳ (۴)

۳۸ (۳)

ب) اعداد ۳۴ و ۵۶ به ترتیب به کدام عددها نزدیک‌تر هستند؟

۵۰ - ۴۰ (۲)

۵۰ - ۳۰ (۱)

۶۰ - ۴۵ (۴)

۶۰ - ۳۰ (۳)