

طرح سنجش استعداد: مداد قرمز ۱ - توصیفی  
مدت پاسخگویی و انجام فعالیت: ۴۵ دقیقه

درس: استعداد فضایی سوم دبستان

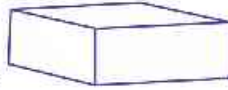
زمان برگزاری: هفته سوم آبان

**علوی**

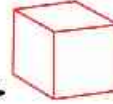
**فعالیت‌های استعداد فضایی پایه‌ی سوم**

**فعالیت ۱**

خط آبی بکشید.



خط قرمز و دور شکل‌های شبیه به



دور شکل‌های شبیه به



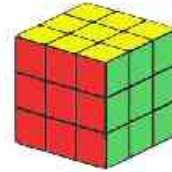
(۵)



(۴)



(۳)





(۲)



(۱)

**فعالیت ۲**

۲۳- اگر از بالا به شکل سمت چپ نگاه کنیم، کدام گزینه را می‌بینیم؟

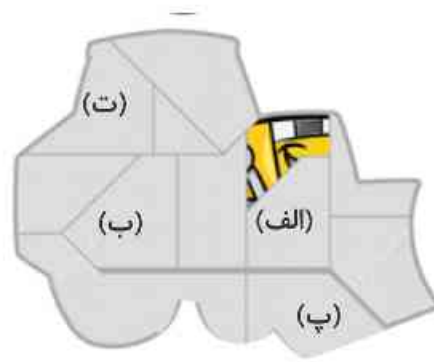
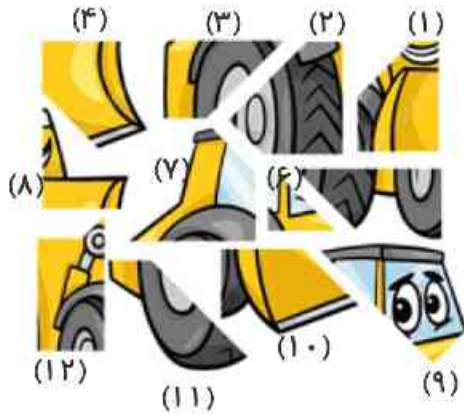






فعالیت ۵

۲۶- با دقت به تصویر و قطعات پازل آن نگاه کنید. در هر یک از خانه‌های مشخص شده، کدام قطعه قرار می‌گیرد؟



الف) .....

ب) .....

پ) .....

ت) .....

فعالیت ۶

۲۷- درنا ساعت انجام کارهای روزانه‌ی خود را در نمودار زیر آورده است.

الف) او برای انجام کدام کار زمان بیشتری صرف کرده است؟

ب) او برای انجام کدام کار زمان کمتری صرف کرده است؟

پ) او برای انجام کدام کارها زمان یکسانی صرف کرده است؟

