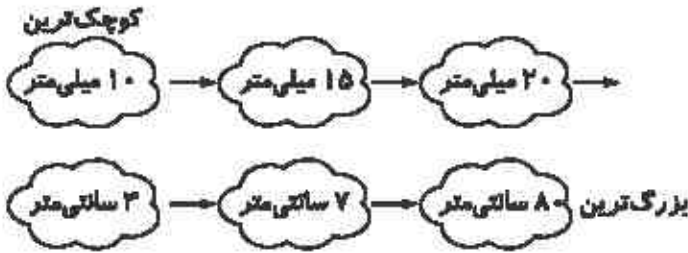


-۱



(۱/۵ نمره) (هر مورد ۲۵- / نمره) (کهن سال) (فصل ۲ - عددهای چهاررقمی - سانتی متر و میلی متر - صفحه ۳۳ کتاب درسی) گویه: ۱۲، ۱۳، ۱۵ (آسان)

۲- (۱) نادرست. $۲۰ + ۸۰۰ + ۳۰۰ + ۹ = ۸۳۲۹$.

(۲) درست

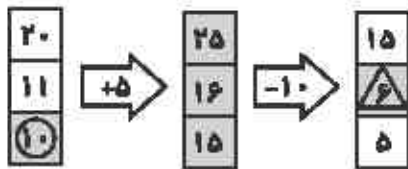
(۳) نادرست. گسترده‌ی عدد ۶۰۵۰ می‌شود: $۶۰۰۰ + ۵۰$

(۴) درست.

(۱ نمره) (هر مورد ۲۵- / نمره) (کهن سال) (فصل ۲ - عددهای چهار رقمی - الگو سازی و گسترده نویسی و شناخت اعداد چهار رقمی (تفلیس) -

صفحه ۲۶، ۲۷، ۳۱ و ۳۳ کتاب درسی) گویه: ۱۲ و ۱۳ (متوسط)


-۳



$$\textcircled{۱۰} + \textcircled{۶} = ۱۶$$

(۱/۵ نمره) (هر مورد ۲۵- / نمره) (کهن سال) (فصل ۱ - الگوها - ماشین اعداد - صفحه ۱۵ کتاب درسی) گویه: ۱۲ (متوسط)

-۴ (الف) گزینه‌ی ۳:

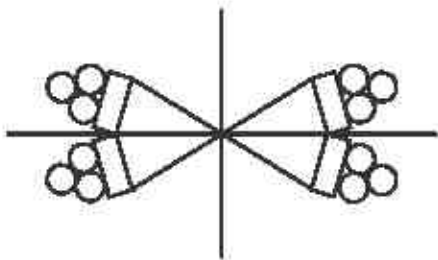


(ب) گزینه‌ی ۱، ۱۵ یا ۳ بعد از ظهر.

(۱ نمره) (هر مورد ۵- / نمره) (کهن سال) (فصل ۱ - الگوها - باز شده‌ی مکعب ساعت در بعد از ظهر - ماشین اعداد - صفحه ۱۶، ۱۷ و ۱۸ کتاب

درسی) گویه: ۱۴ و ۳۸ (شوار)


-۵



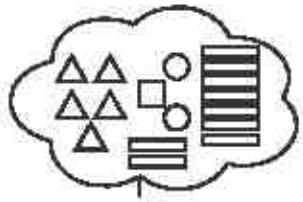
۳ و ۶ و ۹ و ۱۲
یا
 $۳ + ۳ + ۳ + ۳ = ۱۲$

(۱ نمره) (خطوط تقارن ۵/ - نمره - شمارش ۵/ - نمره) (کهن سال) (اصل ۱ - الگوها - خط تقارن و شمارش - صفحه ۱۹ و ۲۰ کتاب درسی) گویه:
۱۳، ۱۵ و ۳۸ (متوسط)

-۶



با رقم: ۳۰۲۳
با حروف: سه هزار و هشتاد و چهار



با رقم: ۵۱۲۹
با حروف: پنج هزار و صد و بیست و نه

(۲ نمره) (با رقم ۵/ - نمره و با حروف ۵/ - نمره) (کهن سال) (اصل ۲ - عددهای چهار رقمی - نمایش اعداد چهار رقمی با شکل - صفحه ۲۹ کتاب درسی) گویه: ۳۷، ۱۱ (متوسط)

۷- الف): با فروش یک جوجه ۴۰۰ تومان سود کرده است.

تعداد جوجه	۱	۲	۳	۴	۵
سود	۴۰۰	۸۰۰	۱۲۰۰	۱۶۰۰	۲۰۰۰

$$\begin{array}{r} 1600 \\ - 1200 \\ \hline 400 \end{array}$$

ب) مطابق جدول با فروش ۵ جوجه ۲۰۰۰ تومان سود می کند.

پ) مطابق جدول با فروش ۳ جوجه ۱۲۰۰ تومان سود می کند و می تواند یک جوجه دیگر بخرد.

(۲ نمره) (جدول ۲۵/ ۱ نمره - جواب هر قسمت ۲۵/ - نمره) (کهن سال) (اصل ۱ - الگوها - سود و جدول الگویی - صفحه ۹ کتاب درسی) گویه: ۱، ۱۲ و ۱۳ (دشوار)