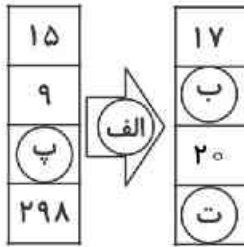




۴) جاهای خالی را با عدد مناسب کامل کنید.





۵) تمام حالت‌هایی را بنویسید که جمع دو عدد ۵ شود.

۱) هر شکل را به تعداد خط تقارنش وصل کنید.

• (الف) 

• (ب) 

• (پ) 

• (ت) 

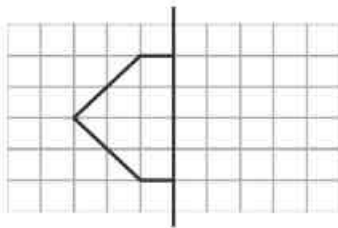
• ۱ (۱)

• ۲ (۲)

• ۴ (۳)

• بی‌شمار (۴)

۶) با توجه به خط تقارن، نیمه‌ی دیگر شکل را کامل کنید و سپس تعداد مربع‌های شکل کامل شده را بنویسید.



۲) جملات درست را با علامت ✓ و جملات نادرست را با علامت ✗ مشخص کنید.

- الف) یک شبانه روز ۲۴ ساعت است.
- ب) ساعت ۱۴، همان ساعت ۲ بعد از ظهر است.
- پ) ساعت ۸ بعد از ظهر، همان ساعت ۱۸ است.
- ت) ۲ ساعت قبل از ساعت ۵ بعد از ظهر می‌شود ساعت ۱۳.

۷) مغازه‌داری نوعی کیک را ۵۰۰ تومان می‌خرد و ۵۵۰ تومان می‌فروشد.

الف) جدول داده شده را کامل کنید.

ب) چند کیک باید بفروشد تا ۲۰۰ تومان سود کند؟

تعداد کیک	۱	۲	۳		
سود کیک‌ها					

۳) گزینه‌ی صحیح را مشخص کنید.
الف) کدام جمع مربوط به دسته‌بندی شکل داده شده است؟



۱) $4 + 4 + 4$

۲) $3 + 3 + 3 + 3$

۳) $4 + 4 + 4 + 4$

۴) $3 + 3 + 3$

ب) کدام شکل مربوط به شمارش ۲، ۴، ۶ است؟

