

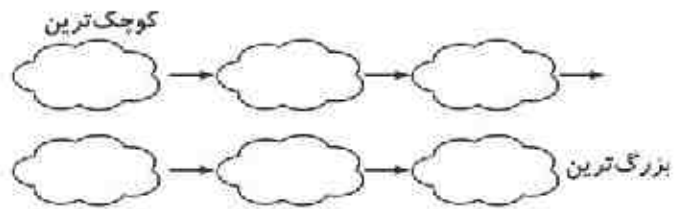
نام خانوادگی:

نام:

شماره ملی:

شعبه: کلاس:

۱) طولهای داده شده را از کوچک به بزرگ مرتب کنید.



۲) جملات درست را با ✓ و نادرست را با ✗ مشخص کنید.

۱) $9 + 300 + 8000 + 200$ می شود: ۲۸۳۹

۲) سیزده جمع می توان نوشت (با جابه جایی) که حاصل آنها ۱۲ شود.

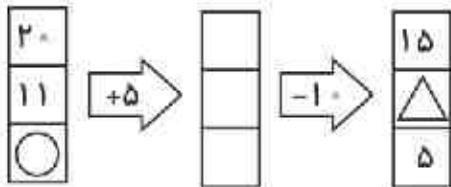
۳) باز شده ی عدد 6050 می شود:

$6000 + 500$

۴) اگر مهرهای درنا ۷ صف ده تایی شود و ۳ مهره کنار

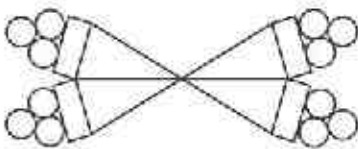
آنها بماند، درنا ۷۳ مهره دارد.

۳) با کمال کردن ماشین زیر، مجموع \triangle و \circ را حساب کنید.



۵) برای شکل خطهای تقارن مناسب را کشیده و از آنها برای

شمارش تعداد دایره ها استفاده کنید.



۴) گزینه ی صحیح را مشخص کنید.



الف) کدام شکل باز شده ی مکعب، می باشد؟

ب) درنا جمعه ساعت ۱۰ صبح از خواب بیدار شد. ساعت صبحانه، ۲ ساعت درس، ۱ ساعت تلویزیون را در برنامه خود داشت، سپس به سینما رفت. اگر او یک ساعت در راه باشد، چه ساعتی به سینما رسیده است؟

۱) ۱۵ یا ۳ بعد از ظهر

۲) ۱۴ یا ۲ بعد از ظهر

۷) برنایک جوجه را به قیمت ۱۲۰۰ تومان خرید و ۱۶۰۰ تومان

فروخت. با کمال کردن جدول به پرسشها پاسخ دهید.

تعداد جوجه	۱	۲			
سود					

الف) با فروش یک جوجه چقدر سود کرده است؟

ب) با فروش چند جوجه ۲۰۰۰ تومان سود می کند؟

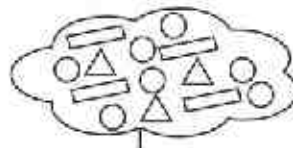
پ) او چند جوجه بفروشد تا بتواند با سود آنها یک جوجه ی دیگر

بخرد؟

۶) باتوجه به جدول در هر چه عددی وجود دارد؟ (با رقم و

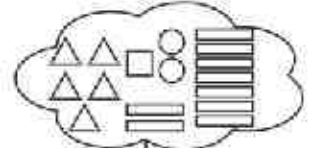
با حروف)

نشانه	\triangle	\square	\circ	—
عدد	۱۰۰۰	۱۰۰	۱۰	۱



با رقم:

با حروف:



با رقم:

با حروف: