

ریاضی سوم دبستان

طرح سنجش استعداد: مداد قرمز ۱ - توصیفی

هفته چهارم آبان مدت زمان: ۴۵ دقیقه

نام خانوادگی:

نام:

شماره ملی:

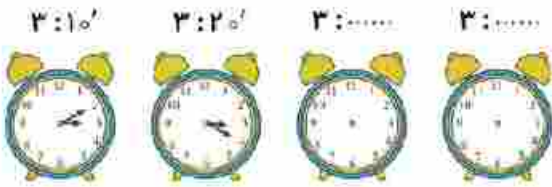
شعبه: کلاس:

۱) هر عدد را به الگوی مناسب وصل کنید.

- ۱, ۸, ۱۵, ۲۲, ? ۱۶
- ۱, ۱, ۴, ۹, ? ۳۲
- ۱, ۱۲, ۲۳, ۳۴, ? ۲۹
- ۶۴, ۵۶, ۴۸, ۴۰, ? ۴۵

۵) الف) قطار مسافری ساعت ۷:۴۰ از ایستگاه راه آهن حرکت کرد و بعد از ۸ ساعت به مقصد رسید. این قطار چه ساعتی از بعد از ظهر به مقصد رسیده است؟

ب) الگوی ساعت را ادامه دهید و ساعت را کامل کنید.



۲) جملات درست را با علامت ✓ و نادرست را با علامت × مشخص کنید.

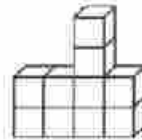
- الف) عدد ۳۲۸۰ یعنی ۳ هزار تایی، ۲ ده تایی و ۸ صد تایی.
- ب) ۸ صد ریالی و ۲ ده ریالی می شود ۱۰۰ تومان
- پ) اگر ۲ واحد به عدد ۹۹۸ اضافه کنیم، پاسخ ۱۰۰۰ می شود.
- ت) ۱۰۰ تومان، ۱۰ ریال می شود.

۶) ریاضی دانان نقاش، اندازه های یکسان را، هم رنگ کنید.



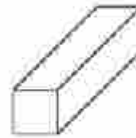
۳) گزینه ی درست را انتخاب کنید.

الف) شکل زیر از چند مکعب ساخته شده است؟



- ۱) ۱۱ مکعب
۲) ۱۰ مکعب
۳) ۸ مکعب
۴) ۹ مکعب

ب) شکل هندسی مقابل تشکیل شده است از:



- ۱) ۲ مربع و ۴ مستطیل
۲) ۶ مستطیل
۳) ۴ مربع و ۲ مستطیل
۴) ۶ مربع

۷) اکبر آقا یک شکلات را به قیمت ۳۰۰ تومان خرید و ۴۵۰ تومان می فروشد. جدول را کامل کنید و پرسش ها را پاسخ دهید.

الف) با فروش یک شکلات چند تومان سود می کند؟

ب) با فروش چند شکلات ۶۰۰ تومان سود می کند؟

پ) او با فروش چند شکلات می تواند یک شکلات جدید بخرد؟

تعداد شکلات	۱	۲	
سود			

۴) با پر کردن جاهای خالی، ماشین زیر را کامل کنید.

