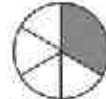


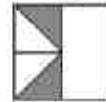
۱) هر شکل را به کسر مربوطه وصل کنید. (یک مورد اضافی است.)



•

•

$$\frac{2}{8}$$



•

•

$$\frac{2}{4}$$



•

•

$$\frac{2}{6}$$

•

$$\frac{2}{3}$$

ریاضی چهارم دبستان

طرح سنجش استعداد: مداد قرمز ۱ - توصیفی

زمان: ۴۵ دقیقه

صفحه چهارم آبان

نام خانوادگی:

نام:

شماره ملی:

شعبه: کلاس:

۳) با توجه به عدد ۱۲۰۸۷۶۹۲ ، به سؤالات پاسخ دهید.
الف) این عدد را به حروف بنویسید.

ب) با ارزش‌ترین رقم کدام است؟

پ) رقم صفر در چه ارزش مکانی قرار گرفته است؟

ت) اختلاف این عدد با بزرگ‌ترین عدد ۷ رقمی زوج چند است؟

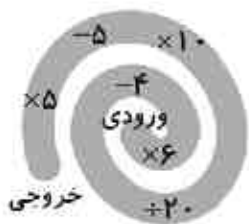
۲) عبارتهای درست را با ✓ و نادرست را با ✗ مشخص کنید.
الف) بزرگ‌ترین رقم در عدد ۲۸۳۰۹۱۷۵ ، در مرتبه‌ی یکان هزار است.

ب) هفتاد و دو هزار برابر ۷۲۰ تا هزارتاست.

پ) شکل، با توجه به واحد، عدد مخلوط $۴\frac{1}{3}$ را نشان می‌دهد.



۵) اگر خروجی ماشین زیر عدد ۲۵ باشد، ورودی را محاسبه کنید.



۴) گزینه‌ی صحیح را مشخص کنید.

الف) اولین رقم از سمت چپ عددی، در مرتبه‌ی صدگان میلیون قرار دارد. این عدد چند رقمی است؟

۹ (۲)

۸ (۱)

۶ (۴)

۷ (۳)

ب) عدد ۲۷۴۳۲۰۰۰ به کدام گزینه نزدیک‌تر است؟

۲) دویست هزار

۱) دومیلیون

۴) سیصد هزار

۳) سه میلیون

۷) مجموع سه کسر $\frac{19}{21}$ می‌باشد. اگر کسر اول $\frac{4}{21}$ و کسر دوم

$\frac{3}{21}$ باشد، کسر سوم را به دست آورید.

۶) شکل چهارم از چند چوب کبریت ساخته شده است؟



(۱)



(۲)



(۳)