

ریاضی چهارم دبستان

طرح سنجش استعداد: مداد قرمز ۱ - توصیفی

مدت زمان: ۴۵ دقیقه هفته چهارم آبان

نام خانوادگی:

نام:

شماره ملی:

شعبه: کلاس:

۵) عدد مخلوطی که هر شکل نشان می‌دهد را، بنویسید.

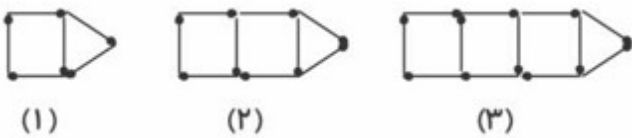
(الف)



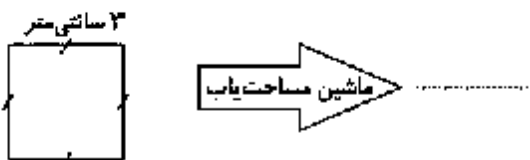
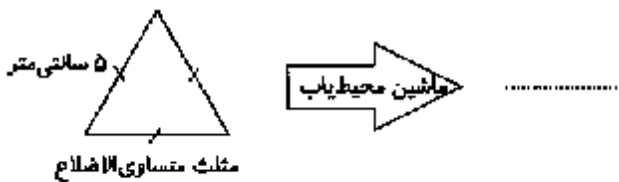
(ب)



۶) برای شکل بیستم الگوی زیر، چند چوب کبریت نیاز داریم؟



۷) خروجی ماشین‌های زیر را بنویسید.



۱) وصل کنید. (دو عدد اضافی است.)

الف) بزرگ‌ترین عدد ۴ رقمی غیر تکراری ۱۰۴۲ ۱۰۲۴

ب) کوچکترین عدد ۴ رقمی زوج غیر تکراری ۹۸۷۶ ۹۹۸۷

پ) اختلاف بزرگ‌ترین عدد ۳ رقمی و کوچک‌ترین عدد ۵ رقمی ۹۰۰۱


۲) جملات درست را با علامت ✓ و نادرست را با علامت × مشخص کنید.

الف) ثلث ۱۲ برابر ۴ است.

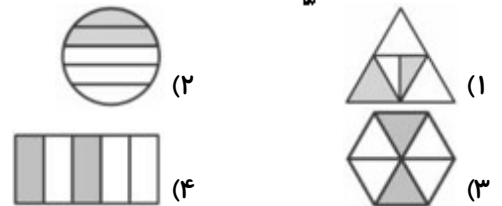
ب) کوچک‌ترین رقم در عدد ۲۰۳۸۶۱۵۷ در مرتبه‌ی یکان میلیون قرار دارد.

پ) هشت تا صد هزارتایی و پنج تا یکی می‌شود ۸۰۰۵

۳) الف) با داشتن ورودی یکسان، کدام ماشین، خروجی بزرگ‌تری دارد؟



ب) کدام شکل کسر $\frac{2}{5}$ را نشان می‌دهد؟



۴) جاهای خالی را کامل کنید.

الف) کسر با صورت و مخرج برابر مساوی است.
ب) طول میخ برابر سانتی‌متر و سانتی‌متر است.



پ) یک کیلو و ۷۵۰ گرم به صورت عدد مخلوط برابر است.

ت) کسر با صورت صفر برابر است.