

طرح سنجش استعداد: مداد قرمز ۲ - توصیفی

هفته دوم دی زمان: ۷۵ دقیقه

نام خانوادگی: .....

نام: .....

شماره ملی: .....

شعبه: ..... کلاس: .....

۳) گزینه‌ی صحیح را مشخص کنید.  
الف) چوب‌خط داده شده با کدام یک از عددهای زیر مساوی است؟



۸ (۱)

۷ (۲)

۶ (۳)

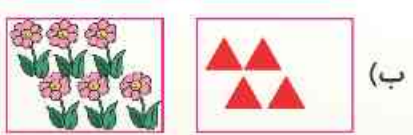
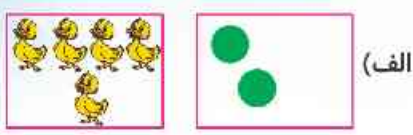
ب) علامت (-) مناسب کدام دو عدد زیر است؟

۶۰۵ (۱)


۴۰۷ (۲)

۸۰۸ (۳)

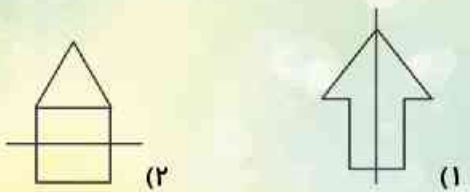
۴) در سمت راست آن‌قدر شکل بکشید که تعداد آن با دسته‌های سمت چپ برابر شود.




۱) شکل‌های سمت راست و سمت چپ را با هم بشمارید و چوب‌خط مربوط را به آن وصل کنید.



۵) الف) کدام شکل به طور صحیح به دو نیمه مساوی تقسیم شده است؟  
آن را رنگ بزنید.



ب) با توجه به شکل نیمه دیگر را کامل کنید.



۲) الگوی درست را با علامت ✓ و گزینه‌ی نادرست را با علامت \* مشخص کنید.

درست نادرست



۹) جدول شگفت‌انگیز را کامل کنید.

○	۶	۱	۴	۵	۲
۴	○	۵	۶	۱	۳
۶	۱	○	۵	○	۴
۵	۳	○	۲	۶	۱
۱	۴	۶	۳	۲	○
○	۵	۳	○	۴	۶



۶) عددهای هر دسته را بنویسید و علامت < = > را استفاده

کنید.



(الف)

..... ○ .....



(ب)

..... ○ .....

۱- الف) مداد زرد را با گیره، چینه و تراش اندازه بگیرید.

۱) اندازه‌ی مداد زرد ..... است.

۲) اندازه‌ی مداد زرد ..... است.

۳) اندازه‌ی مداد زرد ..... است.



ب) در آخر اعداد را از کوچک به بزرگ بنویسید.

اعداد را به ترتیب بنویسید: .....

۷) دایره‌های روی هر قارچ را بشمارید و عدد آن را بنویسید.



□ (ب)



□ (الف)




□ (ت)



□ (پ)

۸) الف) الگوی زیر را ادامه دهید و شکلی که تکرار می‌شود را

در سمت راست بکشید.



ب) جدول را کامل کنید.

