

مدت پاسخگویی: ۷۵ دقیقه

زمان برگزاری: هفته دوم دی

۱۱) از هر محصول در سمت راست، کدام خوراکی در سمت چپ به دست می‌آید؟ وصل کنید.

	(۱)		(الف)
	(۲)		(ب)
	(۳)		(پ)
	(۴)		(ت)

۱۲) جملات درست را با علامت ✓ و جملات نادرست را با علامت * مشخص کنید.

(الف)  و  هر دو جانور، انسان را بیمار می‌کنند.

(ب)  برای ما انسان‌ها فایده ندارند.

(پ)  و  مثل هم حرکت می‌کنند.

(ت)  حیوانی گوشت‌خوار است.

۱۳) گزینه‌ی صحیح را مشخص کنید.

الف) وجود آب برای کدامیک از شغل‌های زیر لازم و ضروری است؟



(۲)



(۱)

ب) کدامیک از اجسام زیر، بعد از مدتی به زیر آب می‌رود؟



(۲)



(۱)

۱۴) جاهای خالی را با انتخاب تصویر مناسب پاسخ دهید.

الف) علامت مربوط به سازمان آتش‌نشانی می‌باشد.



(۲)



(۱)

ب) گاهی برای سالم ماندن و پیشگیری از بیماری باید به مراجعه کنیم.



(۲)



(۱)

ب) نوشیدن یکی از مهم‌ترین و لذت‌بخش‌ترین کارها است.



(۲)



(۱)

ت) برای سالم ماندن، به موقع و به اندازه خیلی مهم است.







(۲)



(۱)

۱۵) دایره‌ی مربوط به ریشه‌های خوراکی قرمز و برگ خوراکی را سبز کنید.

(الف)	(ب)	(پ)	(ت)
			

۱۶) در کدام شغل خوب چشیدن و خوب بویدن لازم است؟ کادر دور آن را آبی کنید.



(۲)



(۱)

(ب) کدام کار به چشم ما آسیب می‌زند؟ کادر دور آن را قرمز کنید.



(۲)



(۱)

۱۷) الف) تصویری که در مصرف آب صرفه‌جویی می‌کند را علامت ✓ بزنید.



(۲)



(۱)

(ب) کدام یک آب را آلوده می‌کند؟ با علامت ✓ مشخص کنید.



(۲)



(۱)

۱۸) با توجه به سایه‌ی هر درخت، محل قرار گرفتن خورشید را نقلی کنید. کدام سایه زمان ظهر را نشان می‌دهد؟ دور آن خط بکشید.



۱۹) کدام وسایل زیر از سنگ ساخته شده‌اند؟ دور آن‌ها خط بکشید.




(ب)



(الف)



(ت)



(پ)



(ج)



(ث)

۲۰) مراحل مربوط به تشکیل باران را به ترتیب شماره‌گذاری کنید.



(ت)



(پ)



(ب)



(الف)