

ریاضی دوم دبستان

طرح سنجش استعداد: مداد قرمز ۲ - توصیفی

هفته چهارم آذر مدت زمان: ۴۵ دقیقه

نام خانوادگی: .....

نام: .....

شماره ملی: .....

شعبه: ..... کلاس: .....

۳) گزینه صحیح را انتخاب کنید.

الف) چند دقیقه طول می کشد تا عقربه بزرگ ساعت از عدد ۷ به ۹ برسد.

۱) ۲ دقیقه

۲) ۵ دقیقه

۳) ۱۰ دقیقه

ب) با دو رقم ۳ و ۷ چند عدد دو رقمی می توان نوشت؟

۱) ۲ عدد

۲) ۳ عدد

۳) ۴ عدد





پ) در شمارش ۶ تا ۶ تا، بعد از عدد ۱۲ چه عددی است؟

۱) ۱۷

۲) ۱۸

۳) ۲۴

۴) جاهای خالی را کامل کنید.

				
				تعداد ضلع
				تعداد گوشه
				تعداد خط تقارن

۱) تقریب هر عدد را پیدا کنید و وصل کنید. (یک عدد اضافی است.)

- ۸۹ • • ۴۰
- ۶۲ • • ۵۰
- ۴۵ • • ۹۰
- ۳۷ • • ۶۰
- • ۳۰

۵) جمع و تفریق زیر را به روش فرآیندی حل کنید.

$$\begin{array}{r} 25 \\ +31 \\ \hline \end{array}$$

$$\begin{array}{r} 86 \\ -42 \\ \hline \end{array}$$

۲) درستی یا نادرستی جمله های زیر را مشخص کنید.

درست نادرست



الف) عدد دو رقمی که یکان آن ۳ و دهگان آن ۷ باشد، می شود ۳۷



ب) مربع و مستطیل ۴ ضلع و ۴ گوشه دارند.



پ) ۸ دسته ی ده تایی منهای ۳ دسته ی ده تایی می شود ۵ دسته ی ده تایی



ت) ساعت ۹:۱۵ دقیقه است.