



نام خانوادگی:



نام:



شماره ملی:



شعبه: کلاس:

(۱) هر شکل را به عبارت صحیح وصل کنید.

الف) خط تقارن ندارد.  

ب) فقط یک خط تقارن دارد.  

پ) چهار خط تقارن دارد.  




ت) دارای دو خط تقارن است.  

(۳) جاهای خالی را کامل کنید.

الف) یک آسانسور فقط در بعضی از طبقات نگه می‌دارد. الگوی آن در زیر نوشته شده است. آن را کامل کنید.

۱ - ۷ - ۱۴ -

ب) شکل چهارم را بکشید.

شکل (۱)  شکل (۲)  شکل (۳)  شکل (۴)

(۲) درستی یا نادرستی جمله‌های زیر را مشخص کنید.

الف) عدد دیجیتال ۴ لکه حروف، شصت و دو می‌شود. درست نادرست

ب) شباهت مربع و مستطیل در تعداد ضلع‌ها و گوشه‌های آن‌ها است. درست نادرست

پ) شکل  مستطیل و شکل  مثلث است. درست نادرست

ت) یک پنج ضلعی ۶ گوشه دارد. درست نادرست

(۵) حاصل جمع و تقریبات را به روش‌های خواسته شده به دست آورید.

الف) با جدول اعداد

۱۷	۱۱	۱۲	۱۳	۱۴	۱۵	۱۶	۱۷	۱۸	۱۹	۲۰
+۱۹	۳۱	۳۲	۳۳	۳۴	۳۵	۳۶	۳۷	۳۸	۳۹	۴۰
	۳۱	۳۲	۳۳	۳۴	۳۵	۳۶	۳۷	۳۸	۳۹	۴۰

ب) فرآیندی

ب) تقریبی

$47 + 22 =$

$85 \rightarrow$

$28 \rightarrow$

(۴) گزینه‌ی صحیح را مشخص کنید.

الف) با کارت‌های (۲، ۰، ۸) چند عدد دو رقمی غیر تکراری می‌توان نوشت؟

- (۱) عدد ۴
(۲) عدد ۵
(۳) عدد ۶
(۴) عدد ۹

ب) ۲ ساعت بعد از ساعت روبه‌رو چه زمانی می‌شود؟



- (۱) ۵:۳۰
(۲) ۷:۳۰
(۳) ۹
(۴) ۹:۳۰