


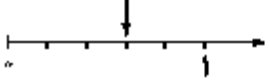

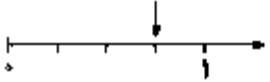
نام خانوادگی:

نام:

شماره ملی:

شعبه: کلاس:

۱) هر کسر را به شکل یا محور مربوط به آن، وصل کنید.

	<input type="radio"/>	$\frac{1}{4}$
	<input type="radio"/>	$\frac{3}{4}$
	<input type="radio"/>	$\frac{2}{4}$
	<input type="radio"/>	$\frac{3}{5}$

۵) عدد داخل دایره به کدام عدد داخل مربع‌ها نزدیک‌تر است؟
(آن مربع را رنگ بزنید.)

<input type="text" value="۶۰۰۰"/>	\leftarrow	<input type="text" value="۶۰۷۹"/>	\rightarrow	<input type="text" value="۷۰۰۰"/>
<input type="text" value="۲۰۰۰"/>	\leftarrow	<input type="text" value="۲۹۰۱"/>	\rightarrow	<input type="text" value="۳۰۰۰"/>

۲) درستی و نادرستی هر عبارت را با علامت \checkmark یا \times مشخص کنید.

الف) محل قرار گرفتن سوزن پرگار مرکز دایره است.

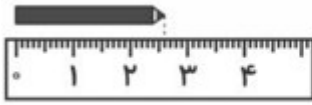

ب) دهانه‌ی پرگار به اندازه‌ی قطر دایره باز می‌شود.

پ) قطر دایره، خط تقارن دایره است.

ت) اگر شعاع دایره‌ای ۴ سانتی‌متر باشد، قطر آن ۲ سانتی‌متر می‌شود.

۶) همه‌ی اعداد سه رقمی را بنویسید که صدگان آن‌ها ۴، دهگان آن‌ها ۲ یا ۵ و یکان آن‌ها ۳ یا ۷ باشد.

۳) باتوجه به تصویر و اعداد داده شده، جاهای خالی را پر کنید.

	
--	---

طول مداد سانتی‌متر و سانتی‌متر است.
یک

طول مداد یک سانتی‌متر کم دارد تا به ۳ سانتی‌متر برسد.

۷) برای اندازه‌گیری جرم یک جعبه، آن را در یک کفه‌ی ترازو و در کفه‌ی دیگر آن یک وزنه‌ی ۲ کیلوگرمی، دو وزنه‌ی ۵۰۰ گرمی و یک وزنه‌ی ۲۰۰ گرمی قرار داده‌ایم. جرم جعبه، چند کیلوگرم و چند گرم است؟

۴) گزینه‌ی درست را انتخاب کنید.
الف) یک ریال قندستان به اندازه‌ی ۵۰۰ تومان شکرستان ارزش دارد. ۵ ریال قندستان چند تومان شکرستان ارزش دارد؟

- ۵۰۰۰ (۱)
- ۲۵۰۰ (۲)
- ۴۰۰۰ (۳)

ب) در جای خالی چه عددی قرار می‌گیرد؟

۱۰۴۰۱۰۶۰۱۰۸۰۰

- ۱۱۰۰ (۱)
- ۲۰۰۰ (۲)
- ۱۲۰۰ (۳)